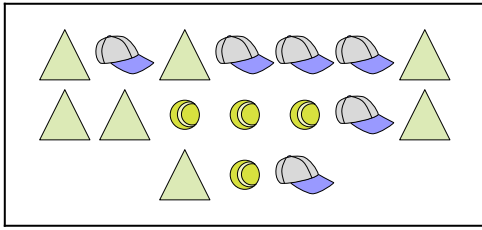






Comparez le nombre de figures.


1)







Y a-t-il plus de  ou de  ?

- A. 
- B. 


2)







Y a-t-il moins de  ou de  ?

- A. 
- B. 

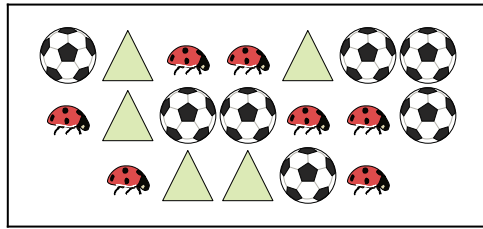
3)







Y a-t-il moins de  ou de  ?

- A. 
- B. 


4)







Y a-t-il moins de  ou de  ?

- A. 
- B. 


5)



Y a-t-il moins de  ou de  ?

- A. 
- B. 

6)



Y a-t-il moins de  ou de  ?

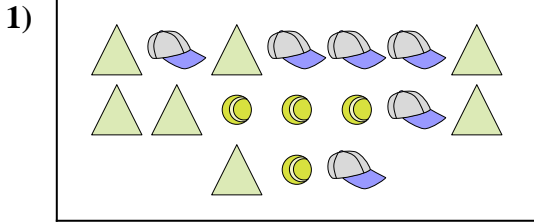
- A. 
- B. 

Réponses

- 1. _____
- 2. _____
- 3. _____
- 4. _____
- 5. _____
- 6. _____

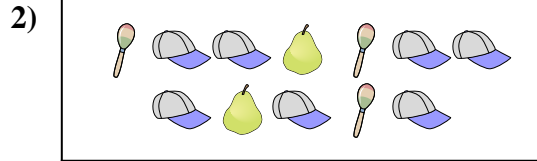


Comparez le nombre de figures.




Y a-t-il plus de ou de ?

- A.
- B.



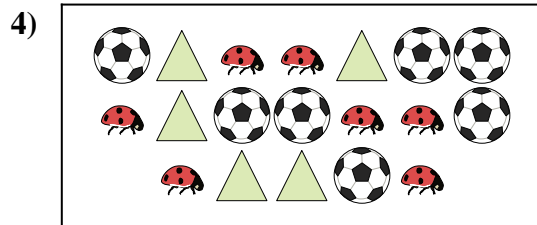
Y a-t-il moins de ou de ?

- A.
- B.



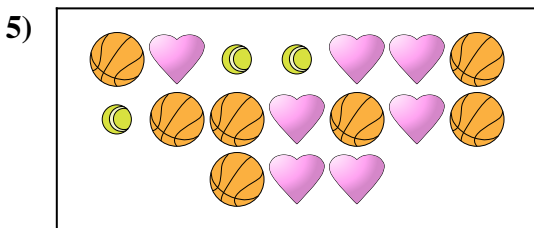
Y a-t-il moins de ou de ?

- A.
- B.




Y a-t-il moins de ou de ?

- A.
- B.



Y a-t-il moins de ou de ?

- A.
- B.



Y a-t-il moins de ou de ?

- A.
- B.

Réponses

- 1. **A**
- 2. **A**
- 3. **A**
- 4. **A**
- 5. **A**
- 6. **A**