




Comparez le nombre de figures.

1)




Y a-t-il plus de ou de ?

A.

B.

2)




Y a-t-il plus de ou de ?

A.

B.

3)




Y a-t-il moins de ou de ?

A.

B.

4)




Y a-t-il plus de ou de ?

A.

B.

5)

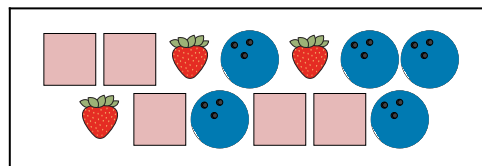


Y a-t-il moins de ou de ?

A.

B.

6)



Y a-t-il plus de ou de ?

A.

B.

Réponses

1. \_\_\_\_\_

2. \_\_\_\_\_

3. \_\_\_\_\_


4. \_\_\_\_\_

5. \_\_\_\_\_

6. \_\_\_\_\_




Comparez le nombre de figures.



Y a-t-il plus de ou de ?

A.


B.



Y a-t-il plus de ou de ?

A.


B.



Y a-t-il moins de ou de ?

A.


B.



Y a-t-il plus de ou de ?

A.

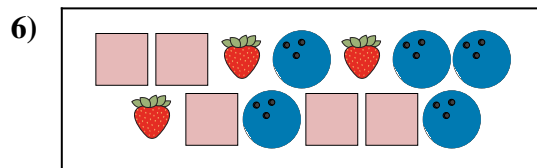
B.



Y a-t-il moins de ou de ?

A.

B.



Y a-t-il plus de ou de ?

A.

B.

**Réponses**

1. **A**

2. **B**

3. **B**

4. **B**

5. **A**

6. **B**