

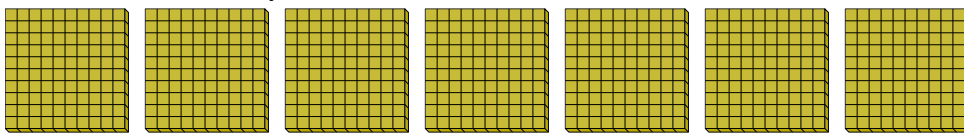


Utilisez les groupements pour répondre à chaque question.

Réponses

1) a. Combien de groupes de 100 y a-t-il?

b. Combien de blocs y a-t-il?




1. ____

2. ____

3. ____

2) a. Combien de groupes de 100 y a-t-il?

b. Combien de blocs y a-t-il?



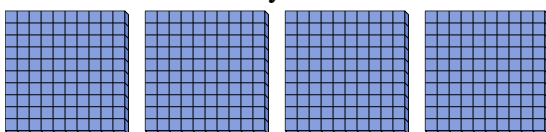
4. ____

5. ____

6. ____

3) a. Combien de groupes de 100 y a-t-il?

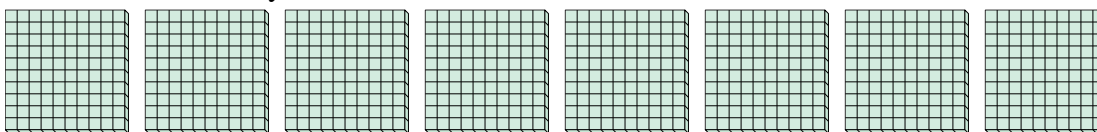
b. Combien de blocs y a-t-il?



7. ____

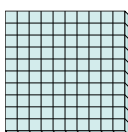
4) a. Combien de groupes de 100 y a-t-il?

b. Combien de blocs y a-t-il?



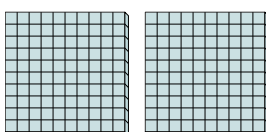
5) a. Combien de groupes de 100 y a-t-il?

b. Combien de blocs y a-t-il?




6) a. Combien de groupes de 100 y a-t-il?

b. Combien de blocs y a-t-il?



7) a. Combien de groupes de 100 y a-t-il?

b. Combien de blocs y a-t-il?



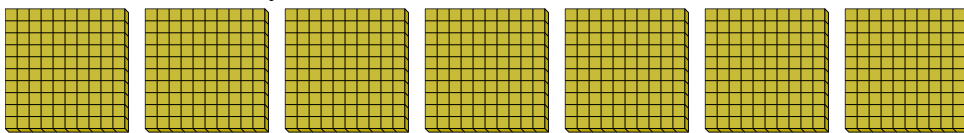


Utilisez les groupements pour répondre à chaque question.

Réponses

1) a. Combien de groupes de 100 y a-t-il?


b. Combien de blocs y a-t-il?



1. 7 700

2) a. Combien de groupes de 100 y a-t-il?

b. Combien de blocs y a-t-il?

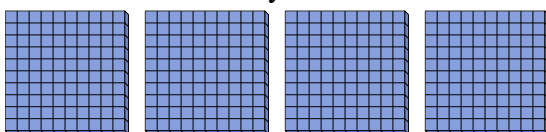


2. 9 900

3. 4 400

3) a. Combien de groupes de 100 y a-t-il?

b. Combien de blocs y a-t-il?

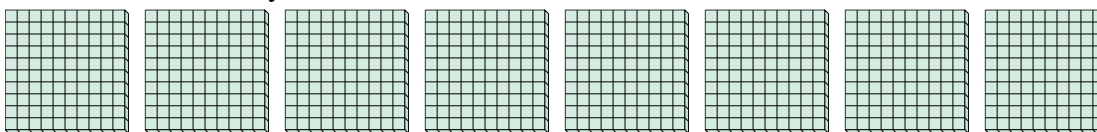


4. 8 800

5. 1 100

4) a. Combien de groupes de 100 y a-t-il?

b. Combien de blocs y a-t-il?

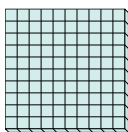


6. 2 200

7. 6 600

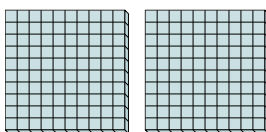
5) a. Combien de groupes de 100 y a-t-il?

b. Combien de blocs y a-t-il?



6) a. Combien de groupes de 100 y a-t-il?

b. Combien de blocs y a-t-il?



7) a. Combien de groupes de 100 y a-t-il?

b. Combien de blocs y a-t-il?

