

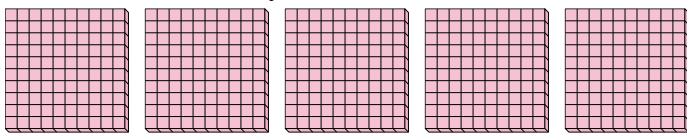


Utilisez les groupements pour répondre à chaque question.

Réponses

1) a. Combien de groupes de 100 y a-t-il?

b. Combien de blocs y a-t-il?



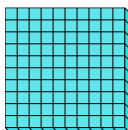
1. ____

2. ____

3. ____

2) a. Combien de groupes de 100 y a-t-il?

b. Combien de blocs y a-t-il?



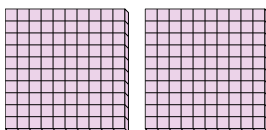
4. ____

5. ____

6. ____

3) a. Combien de groupes de 100 y a-t-il?

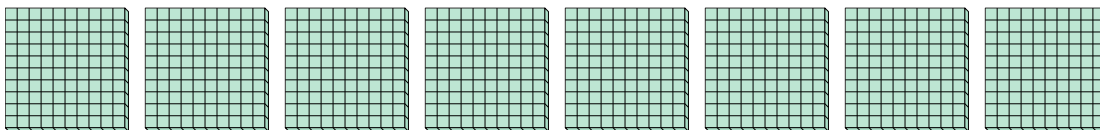
b. Combien de blocs y a-t-il?



7. ____


4) a. Combien de groupes de 100 y a-t-il?

b. Combien de blocs y a-t-il?




5) a. Combien de groupes de 100 y a-t-il?

b. Combien de blocs y a-t-il?




6) a. Combien de groupes de 100 y a-t-il?

b. Combien de blocs y a-t-il?



7) a. Combien de groupes de 100 y a-t-il?

b. Combien de blocs y a-t-il?



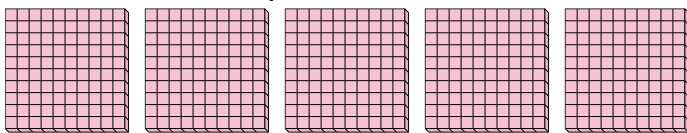


Utilisez les groupements pour répondre à chaque question.

Réponses

1) a. Combien de groupes de 100 y a-t-il?

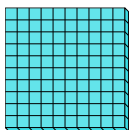
b. Combien de blocs y a-t-il?



1. 5 500

2) a. Combien de groupes de 100 y a-t-il?

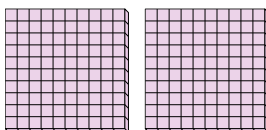
b. Combien de blocs y a-t-il?



2. 1 100

3) a. Combien de groupes de 100 y a-t-il?

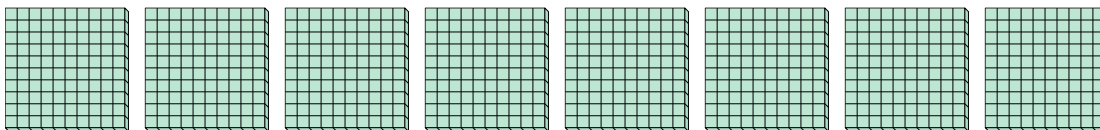
b. Combien de blocs y a-t-il?



3. 2 200

4) a. Combien de groupes de 100 y a-t-il?


b. Combien de blocs y a-t-il?



4. 8 800

5) a. Combien de groupes de 100 y a-t-il?

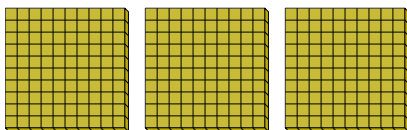
b. Combien de blocs y a-t-il?



5. 4 400

6) a. Combien de groupes de 100 y a-t-il?


b. Combien de blocs y a-t-il?



6. 3 300

7) a. Combien de groupes de 100 y a-t-il?

b. Combien de blocs y a-t-il?



7. 7 700

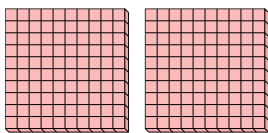


Utilisez les groupements pour répondre à chaque question.

Réponses

1) a. Combien de groupes de 100 y a-t-il?

b. Combien de blocs y a-t-il?



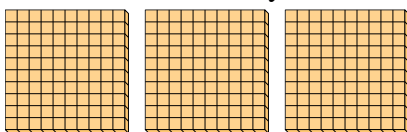
1. ____

2. ____

3. ____

2) a. Combien de groupes de 100 y a-t-il?

b. Combien de blocs y a-t-il?




4. ____

5. ____

6. ____

3) a. Combien de groupes de 100 y a-t-il?

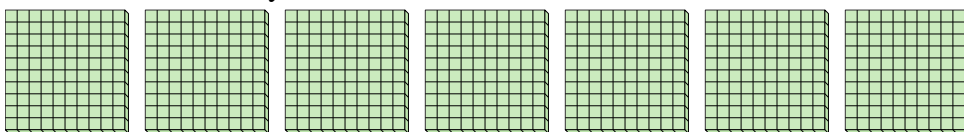
b. Combien de blocs y a-t-il?



7. ____


4) a. Combien de groupes de 100 y a-t-il?

b. Combien de blocs y a-t-il?



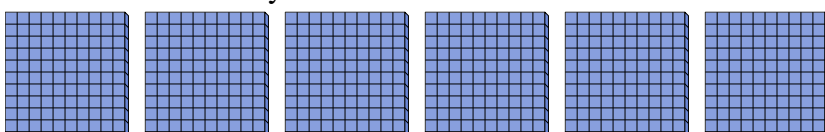
5) a. Combien de groupes de 100 y a-t-il?

b. Combien de blocs y a-t-il?




6) a. Combien de groupes de 100 y a-t-il?

b. Combien de blocs y a-t-il?



7) a. Combien de groupes de 100 y a-t-il?

b. Combien de blocs y a-t-il?



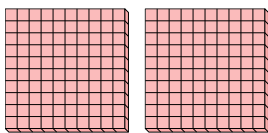


Utilisez les groupements pour répondre à chaque question.

Réponses

1) a. Combien de groupes de 100 y a-t-il?

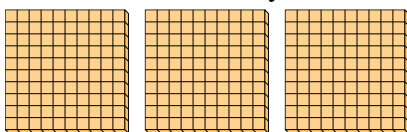
b. Combien de blocs y a-t-il?



1. 2 200

2) a. Combien de groupes de 100 y a-t-il?


b. Combien de blocs y a-t-il?



2. 3 300

3) a. Combien de groupes de 100 y a-t-il?

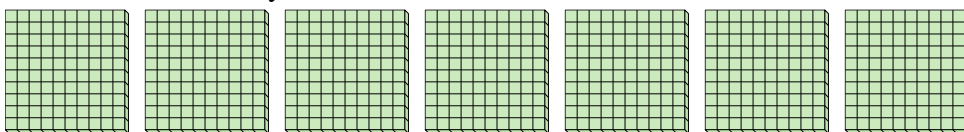
b. Combien de blocs y a-t-il?



3. 5 500

4) a. Combien de groupes de 100 y a-t-il?


b. Combien de blocs y a-t-il?



4. 7 700

5) a. Combien de groupes de 100 y a-t-il?

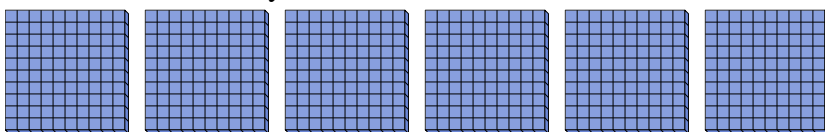
b. Combien de blocs y a-t-il?



5. 8 800

6) a. Combien de groupes de 100 y a-t-il?

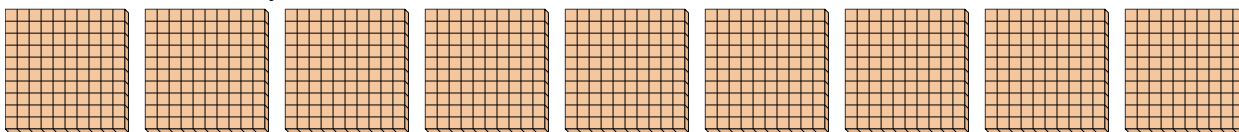
b. Combien de blocs y a-t-il?



6. 6 600

7) a. Combien de groupes de 100 y a-t-il?

b. Combien de blocs y a-t-il?



7. 9 900

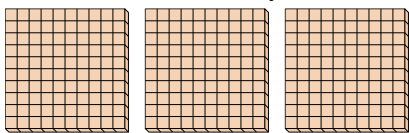


Utilisez les groupements pour répondre à chaque question.

Réponses

1) a. Combien de groupes de 100 y a-t-il?

b. Combien de blocs y a-t-il?




1. ____

2. ____

3. ____

2) a. Combien de groupes de 100 y a-t-il?

b. Combien de blocs y a-t-il?




4. ____

5. ____

6. ____

3) a. Combien de groupes de 100 y a-t-il?

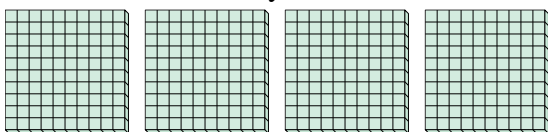
b. Combien de blocs y a-t-il?



7. ____


4) a. Combien de groupes de 100 y a-t-il?

b. Combien de blocs y a-t-il?




5) a. Combien de groupes de 100 y a-t-il?

b. Combien de blocs y a-t-il?



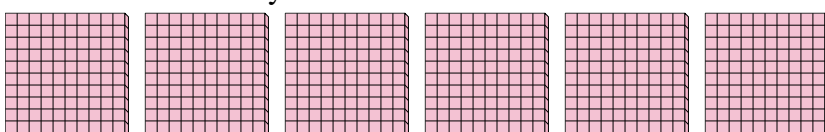
6) a. Combien de groupes de 100 y a-t-il?

b. Combien de blocs y a-t-il?



7) a. Combien de groupes de 100 y a-t-il?

b. Combien de blocs y a-t-il?



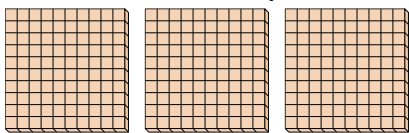


Utilisez les groupements pour répondre à chaque question.

Réponses

1) a. Combien de groupes de 100 y a-t-il?


b. Combien de blocs y a-t-il?



1. **3** **300**

2) a. Combien de groupes de 100 y a-t-il?

b. Combien de blocs y a-t-il?




2. **5** **500**

3. **7** **700**

3) a. Combien de groupes de 100 y a-t-il?

b. Combien de blocs y a-t-il?



4. **4** **400**

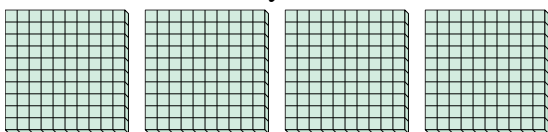
5. **9** **900**

6. **2** **200**

7. **6** **600**


4) a. Combien de groupes de 100 y a-t-il?

b. Combien de blocs y a-t-il?




5) a. Combien de groupes de 100 y a-t-il?

b. Combien de blocs y a-t-il?



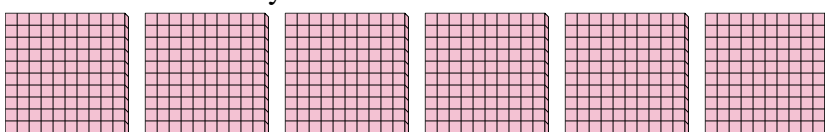
6) a. Combien de groupes de 100 y a-t-il?

b. Combien de blocs y a-t-il?



7) a. Combien de groupes de 100 y a-t-il?

b. Combien de blocs y a-t-il?






Utilisez les groupements pour répondre à chaque question.

Réponses

1) a. Combien de groupes de 100 y a-t-il?

b. Combien de blocs y a-t-il?




1. ____

2. ____

3. ____

2) a. Combien de groupes de 100 y a-t-il?

b. Combien de blocs y a-t-il?




4. ____

5. ____

6. ____

3) a. Combien de groupes de 100 y a-t-il?


b. Combien de blocs y a-t-il?



7. ____


4) a. Combien de groupes de 100 y a-t-il?

b. Combien de blocs y a-t-il?



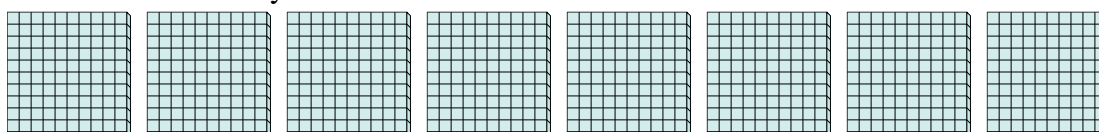
5) a. Combien de groupes de 100 y a-t-il?

b. Combien de blocs y a-t-il?



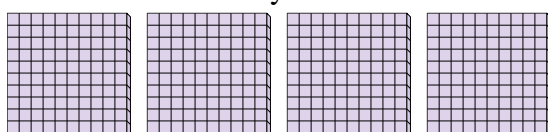
6) a. Combien de groupes de 100 y a-t-il?

b. Combien de blocs y a-t-il?



7) a. Combien de groupes de 100 y a-t-il?

b. Combien de blocs y a-t-il?






Utilisez les groupements pour répondre à chaque question.

Réponses

1) a. Combien de groupes de 100 y a-t-il?

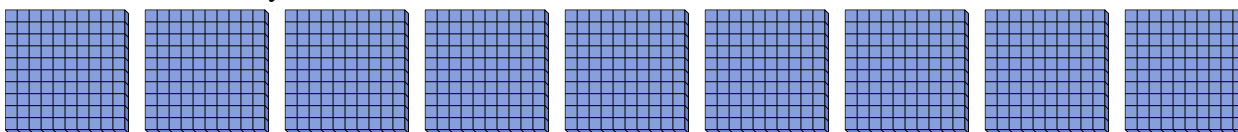
b. Combien de blocs y a-t-il?



1. 6 600

2) a. Combien de groupes de 100 y a-t-il?

b. Combien de blocs y a-t-il?



2. 9 900


3. 3 300

4. 5 500

5. 1 100

3) a. Combien de groupes de 100 y a-t-il?

b. Combien de blocs y a-t-il?




6. 8 800

7. 4 400


4) a. Combien de groupes de 100 y a-t-il?

b. Combien de blocs y a-t-il?



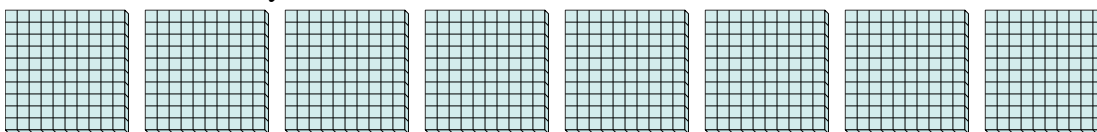
5) a. Combien de groupes de 100 y a-t-il?

b. Combien de blocs y a-t-il?




6) a. Combien de groupes de 100 y a-t-il?

b. Combien de blocs y a-t-il?



7) a. Combien de groupes de 100 y a-t-il?

b. Combien de blocs y a-t-il?



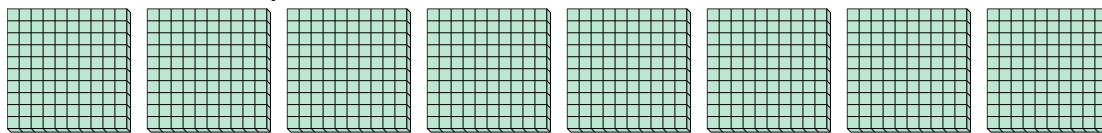


Utilisez les groupements pour répondre à chaque question.

Réponses

1) a. Combien de groupes de 100 y a-t-il?

b. Combien de blocs y a-t-il?



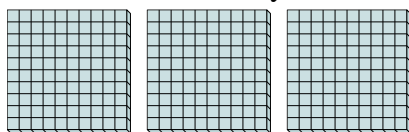
1. ____

2. ____

3. ____

2) a. Combien de groupes de 100 y a-t-il?

b. Combien de blocs y a-t-il?



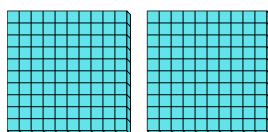
4. ____

5. ____

6. ____

3) a. Combien de groupes de 100 y a-t-il?

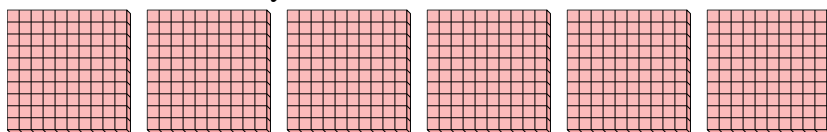
b. Combien de blocs y a-t-il?



7. ____


4) a. Combien de groupes de 100 y a-t-il?

b. Combien de blocs y a-t-il?




5) a. Combien de groupes de 100 y a-t-il?

b. Combien de blocs y a-t-il?



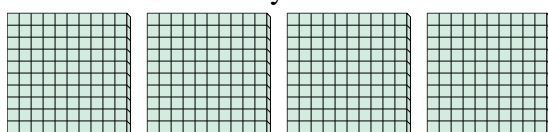
6) a. Combien de groupes de 100 y a-t-il?

b. Combien de blocs y a-t-il?



7) a. Combien de groupes de 100 y a-t-il?

b. Combien de blocs y a-t-il?



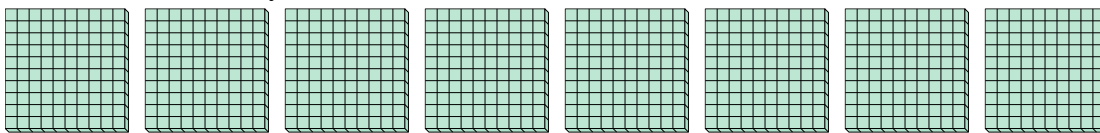


Utilisez les groupements pour répondre à chaque question.

Réponses

1) a. Combien de groupes de 100 y a-t-il?

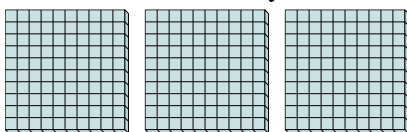
b. Combien de blocs y a-t-il?



1. **8** **800**

2) a. Combien de groupes de 100 y a-t-il?

b. Combien de blocs y a-t-il?

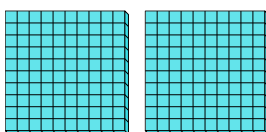


2. **3** **300**

3. **2** **200**

3) a. Combien de groupes de 100 y a-t-il?

b. Combien de blocs y a-t-il?



4. **6** **600**

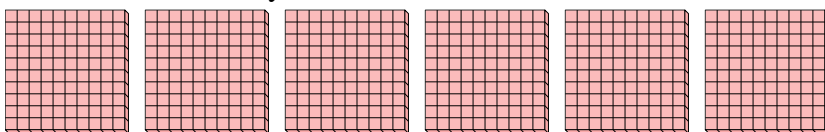
5. **7** **700**

6. **5** **500**

7. **4** **400**


4) a. Combien de groupes de 100 y a-t-il?

b. Combien de blocs y a-t-il?



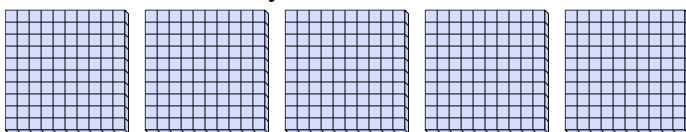
5) a. Combien de groupes de 100 y a-t-il?

b. Combien de blocs y a-t-il?



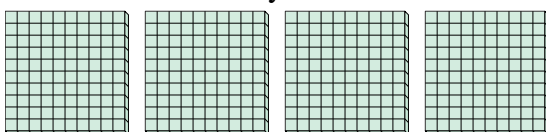
6) a. Combien de groupes de 100 y a-t-il?

b. Combien de blocs y a-t-il?



7) a. Combien de groupes de 100 y a-t-il?

b. Combien de blocs y a-t-il?



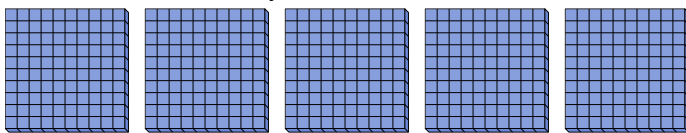


Utilisez les groupements pour répondre à chaque question.

Réponses

1) a. Combien de groupes de 100 y a-t-il?

b. Combien de blocs y a-t-il?



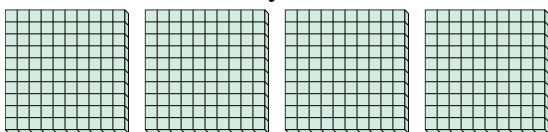
1. ____

2. ____

3. ____

2) a. Combien de groupes de 100 y a-t-il?

b. Combien de blocs y a-t-il?




4. ____

5. ____

6. ____

3) a. Combien de groupes de 100 y a-t-il?

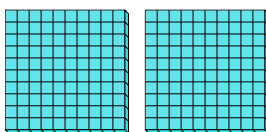
b. Combien de blocs y a-t-il?



7. ____


4) a. Combien de groupes de 100 y a-t-il?

b. Combien de blocs y a-t-il?



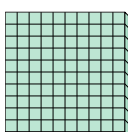
5) a. Combien de groupes de 100 y a-t-il?

b. Combien de blocs y a-t-il?



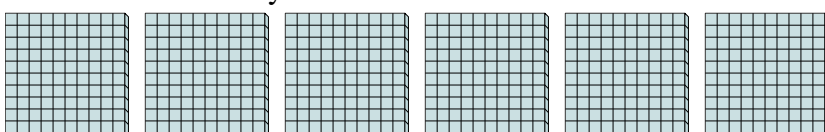
6) a. Combien de groupes de 100 y a-t-il?

b. Combien de blocs y a-t-il?



7) a. Combien de groupes de 100 y a-t-il?

b. Combien de blocs y a-t-il?



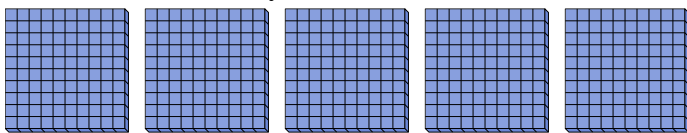


Utilisez les groupements pour répondre à chaque question.

Réponses

1) a. Combien de groupes de 100 y a-t-il?

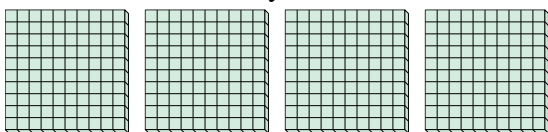
b. Combien de blocs y a-t-il?



1. **5** **500**

2) a. Combien de groupes de 100 y a-t-il?

b. Combien de blocs y a-t-il?




2. **4** **400**

3. **3** **300**

3) a. Combien de groupes de 100 y a-t-il?

b. Combien de blocs y a-t-il?

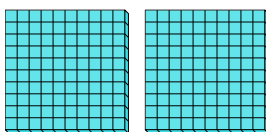


4. **2** **200**

5. **9** **900**

4) a. Combien de groupes de 100 y a-t-il?

b. Combien de blocs y a-t-il?




6. **1** **100**

7. **6** **600**

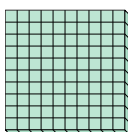
5) a. Combien de groupes de 100 y a-t-il?

b. Combien de blocs y a-t-il?



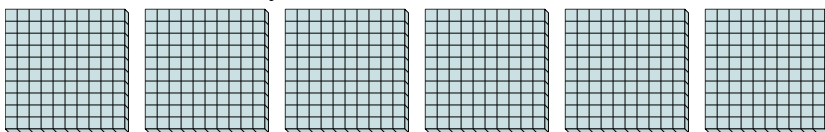
6) a. Combien de groupes de 100 y a-t-il?

b. Combien de blocs y a-t-il?



7) a. Combien de groupes de 100 y a-t-il?

b. Combien de blocs y a-t-il?






Utilisez les groupements pour répondre à chaque question.

Réponses

1) a. Combien de groupes de 100 y a-t-il?

b. Combien de blocs y a-t-il?



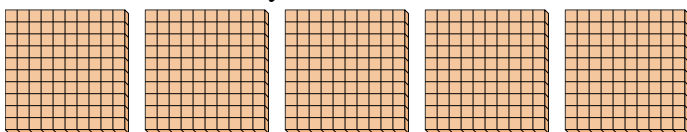
1. ____

2. ____

3. ____

2) a. Combien de groupes de 100 y a-t-il?

b. Combien de blocs y a-t-il?




4. ____

5. ____

6. ____

3) a. Combien de groupes de 100 y a-t-il?


b. Combien de blocs y a-t-il?



7. ____


4) a. Combien de groupes de 100 y a-t-il?

b. Combien de blocs y a-t-il?



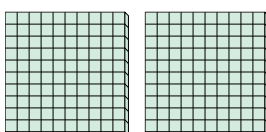
5) a. Combien de groupes de 100 y a-t-il?

b. Combien de blocs y a-t-il?



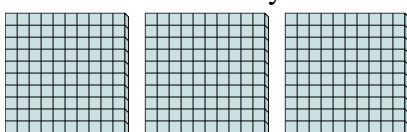
6) a. Combien de groupes de 100 y a-t-il?

b. Combien de blocs y a-t-il?



7) a. Combien de groupes de 100 y a-t-il?

b. Combien de blocs y a-t-il?






Utilisez les groupements pour répondre à chaque question.

Réponses

1) a. Combien de groupes de 100 y a-t-il?

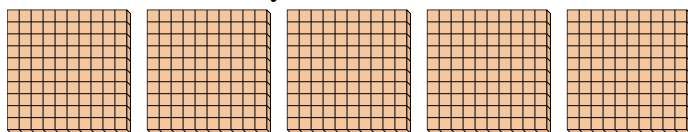
b. Combien de blocs y a-t-il?



1. **4** **400**

2) a. Combien de groupes de 100 y a-t-il?

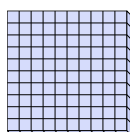
b. Combien de blocs y a-t-il?



2. **5** **500**

3) a. Combien de groupes de 100 y a-t-il?


b. Combien de blocs y a-t-il?



3. **1** **100**

4) a. Combien de groupes de 100 y a-t-il?


b. Combien de blocs y a-t-il?



4. **8** **800**

5) a. Combien de groupes de 100 y a-t-il?

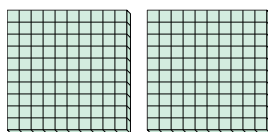
b. Combien de blocs y a-t-il?



5. **9** **900**

6) a. Combien de groupes de 100 y a-t-il?

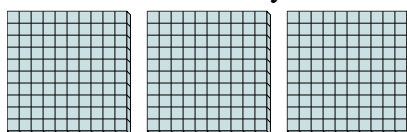
b. Combien de blocs y a-t-il?



6. **2** **200**

7) a. Combien de groupes de 100 y a-t-il?

b. Combien de blocs y a-t-il?



7. **3** **300**




Utilisez les groupements pour répondre à chaque question.

Réponses

1) a. Combien de groupes de 100 y a-t-il?

b. Combien de blocs y a-t-il?



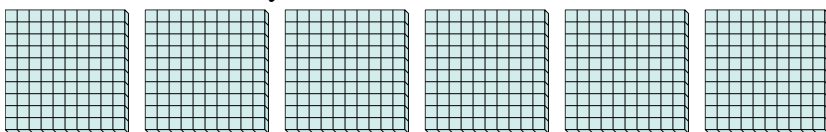
1. ____

2. ____

3. ____

2) a. Combien de groupes de 100 y a-t-il?

b. Combien de blocs y a-t-il?




4. ____

5. ____

6. ____

3) a. Combien de groupes de 100 y a-t-il?


b. Combien de blocs y a-t-il?



7. ____

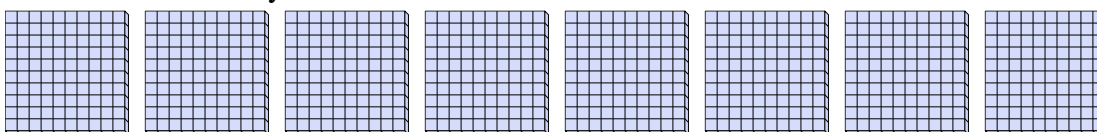
4) a. Combien de groupes de 100 y a-t-il?

b. Combien de blocs y a-t-il?




5) a. Combien de groupes de 100 y a-t-il?

b. Combien de blocs y a-t-il?



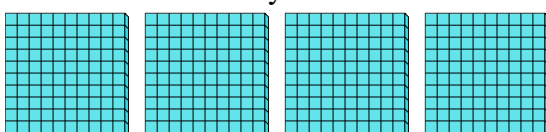
6) a. Combien de groupes de 100 y a-t-il?

b. Combien de blocs y a-t-il?



7) a. Combien de groupes de 100 y a-t-il?

b. Combien de blocs y a-t-il?






Utilisez les groupements pour répondre à chaque question.

Réponses

1) a. Combien de groupes de 100 y a-t-il?

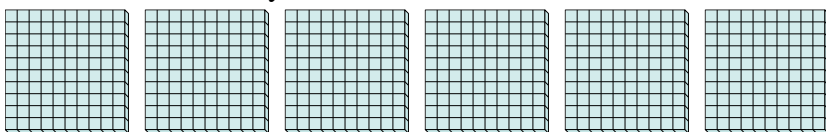
b. Combien de blocs y a-t-il?



1. **3** **300**

2) a. Combien de groupes de 100 y a-t-il?


b. Combien de blocs y a-t-il?



2. **6** **600**

3) a. Combien de groupes de 100 y a-t-il?


b. Combien de blocs y a-t-il?



3. **2** **200**

4) a. Combien de groupes de 100 y a-t-il?

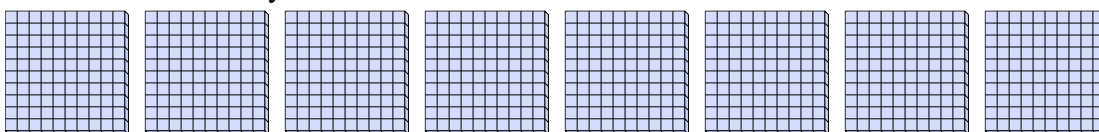
b. Combien de blocs y a-t-il?



4. **9** **900**

5) a. Combien de groupes de 100 y a-t-il?


b. Combien de blocs y a-t-il?



5. **8** **800**

6) a. Combien de groupes de 100 y a-t-il?

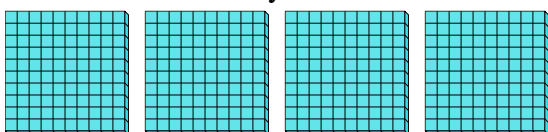
b. Combien de blocs y a-t-il?



6. **1** **100**

7) a. Combien de groupes de 100 y a-t-il?

b. Combien de blocs y a-t-il?



7. **4** **400**

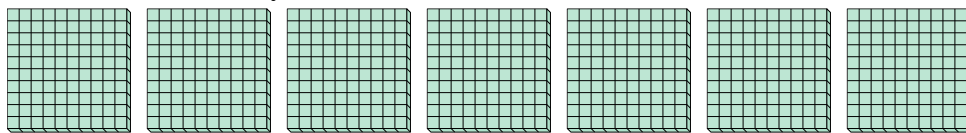


Utilisez les groupements pour répondre à chaque question.

Réponses

1) a. Combien de groupes de 100 y a-t-il?

b. Combien de blocs y a-t-il?



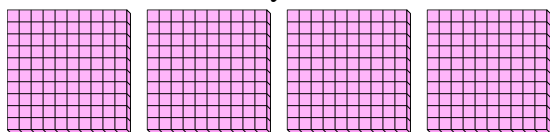
1. ____

2. ____

3. ____

2) a. Combien de groupes de 100 y a-t-il?

b. Combien de blocs y a-t-il?



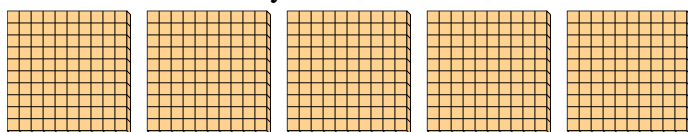
4. ____

5. ____

6. ____

3) a. Combien de groupes de 100 y a-t-il?

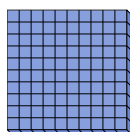
b. Combien de blocs y a-t-il?



7. ____

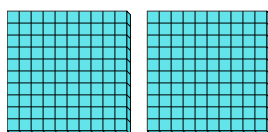
4) a. Combien de groupes de 100 y a-t-il?

b. Combien de blocs y a-t-il?




5) a. Combien de groupes de 100 y a-t-il?

b. Combien de blocs y a-t-il?




6) a. Combien de groupes de 100 y a-t-il?

b. Combien de blocs y a-t-il?



7) a. Combien de groupes de 100 y a-t-il?

b. Combien de blocs y a-t-il?



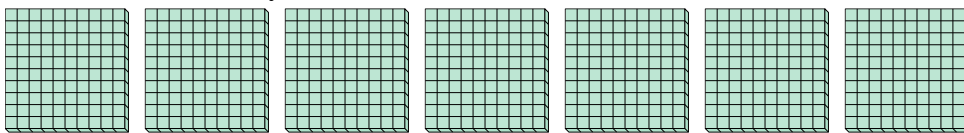


Utilisez les groupements pour répondre à chaque question.

Réponses

1) a. Combien de groupes de 100 y a-t-il?

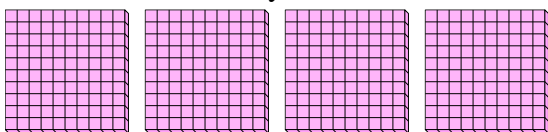
b. Combien de blocs y a-t-il?



1. 7 700

2) a. Combien de groupes de 100 y a-t-il?

b. Combien de blocs y a-t-il?

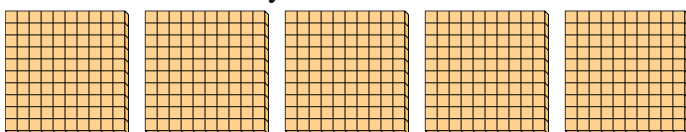


2. 4 400

3. 5 500

3) a. Combien de groupes de 100 y a-t-il?

b. Combien de blocs y a-t-il?

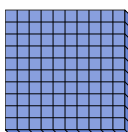


4. 1 100

5. 2 200

4) a. Combien de groupes de 100 y a-t-il?

b. Combien de blocs y a-t-il?

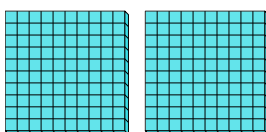


6. 9 900

7. 3 300


5) a. Combien de groupes de 100 y a-t-il?

b. Combien de blocs y a-t-il?




6) a. Combien de groupes de 100 y a-t-il?

b. Combien de blocs y a-t-il?



7) a. Combien de groupes de 100 y a-t-il?

b. Combien de blocs y a-t-il?



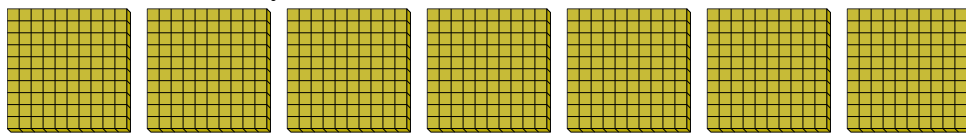


Utilisez les groupements pour répondre à chaque question.

Réponses

1) a. Combien de groupes de 100 y a-t-il?

b. Combien de blocs y a-t-il?




1. ____

2. ____

3. ____

2) a. Combien de groupes de 100 y a-t-il?

b. Combien de blocs y a-t-il?



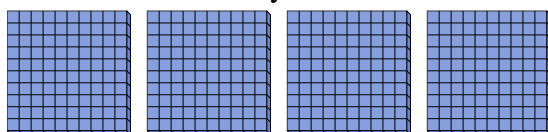
4. ____

5. ____

6. ____

3) a. Combien de groupes de 100 y a-t-il?

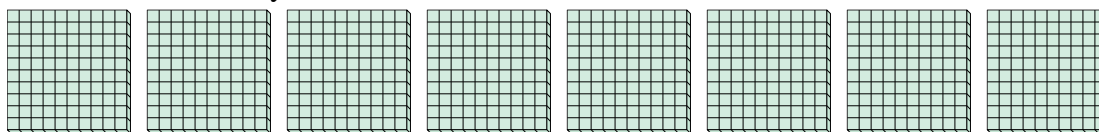
b. Combien de blocs y a-t-il?



7. ____


4) a. Combien de groupes de 100 y a-t-il?

b. Combien de blocs y a-t-il?



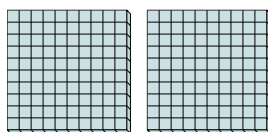
5) a. Combien de groupes de 100 y a-t-il?

b. Combien de blocs y a-t-il?




6) a. Combien de groupes de 100 y a-t-il?

b. Combien de blocs y a-t-il?



7) a. Combien de groupes de 100 y a-t-il?

b. Combien de blocs y a-t-il?



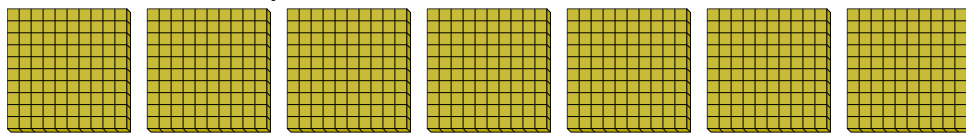


Utilisez les groupements pour répondre à chaque question.

Réponses

1) a. Combien de groupes de 100 y a-t-il?


b. Combien de blocs y a-t-il?



1. 7 700

2) a. Combien de groupes de 100 y a-t-il?

b. Combien de blocs y a-t-il?

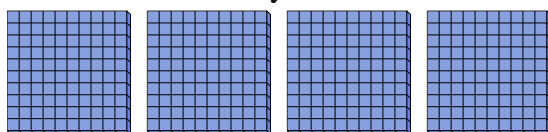


2. 9 900

3. 4 400

3) a. Combien de groupes de 100 y a-t-il?

b. Combien de blocs y a-t-il?

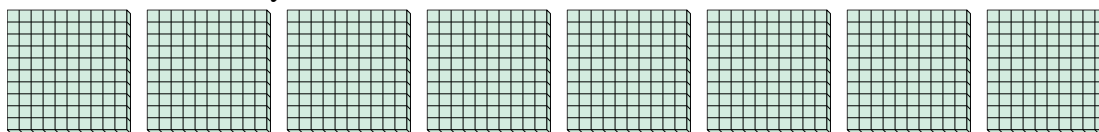


4. 8 800

5. 1 100

4) a. Combien de groupes de 100 y a-t-il?

b. Combien de blocs y a-t-il?




6. 2 200

7. 6 600

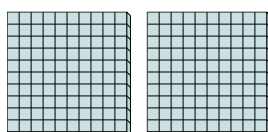
5) a. Combien de groupes de 100 y a-t-il?

b. Combien de blocs y a-t-il?



6) a. Combien de groupes de 100 y a-t-il?

b. Combien de blocs y a-t-il?



7) a. Combien de groupes de 100 y a-t-il?

b. Combien de blocs y a-t-il?

