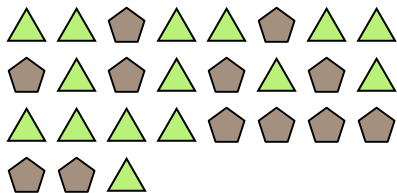





Résoudre chaque problème.

Réponses

Ex) Quel est le ration de pentagone par rapport à triangles?



1) Quel est le ration de cercles par rapport à moons?




Ex. **12:15**

2) Quel est le ration de étoiles par rapport à carrés?



3) Quel est le ration de moons par rapport à pentagone?



4) Quel est le ration de hearts par rapport à moons?




5) Quel est le ration de étoiles par rapport à triangles?



6) Quel est le ration de moons par rapport à étoiles?




7) Quel est le ration de pentagone par rapport à hearts?



8) Quel est le ration de pentagone par rapport à étoiles?



9) Quel est le ration de cercles par rapport à moons?



10) Quel est le ration de étoiles par rapport à moons?



11) Quel est le ration de triangles par rapport à pentagone?

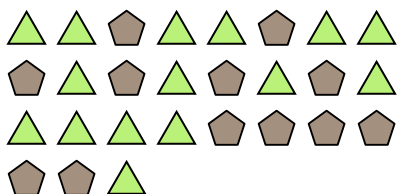


- 1. _____
- 2. _____
- 3. _____
- 4. _____
- 5. _____
- 6. _____
- 7. _____
- 8. _____
- 9. _____
- 10. _____
- 11. _____



Résoudre chaque problème.

Ex) Quel est le ration de pentagone par rapport à triangles?



2) Quel est le ration de étoiles par rapport à carrés?



4) Quel est le ration de hearts par rapport à moons?



6) Quel est le ration de moons par rapport à étoiles?




8) Quel est le ration de pentagone par rapport à étoiles?




10) Quel est le ration de étoiles par rapport à moons?



1) Quel est le ration de cercles par rapport à moons?




3) Quel est le ration de moons par rapport à pentagone?




5) Quel est le ration de étoiles par rapport à triangles?



7) Quel est le ration de pentagone par rapport à hearts?



9) Quel est le ration de cercles par rapport à moons?



11) Quel est le ration de triangles par rapport à pentagone?



Réponses

Ex. 12:15

1. 11:11

2. 7:9

3. 3:15

4. 9:2

5. 4:11

6. 12:8

7. 8:10

8. 11:2

9. 15:11

10. 4:5

11. 11:3