



Déterminez quelle lettre représente le mieux le poids.

Réponses


**Gramma (g)**

Un gramo es aproximadamente el peso de un clip.



**Kilogramo (kilogramo)**

Un kilogramo es aproximadamente el peso de un libro grueso.



**Recuerda:**

Kilo significa 1,000. Entonces, un kilogramo son 1,000 gramos. 1 kilogramo también pesa aproximadamente lo mismo que 2 libras.

1. \_\_\_\_\_
2. \_\_\_\_\_
3. \_\_\_\_\_
4. \_\_\_\_\_
5. \_\_\_\_\_
6. \_\_\_\_\_
7. \_\_\_\_\_
8. \_\_\_\_\_
9. \_\_\_\_\_

1)

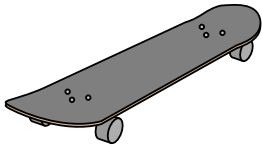


planche à roulette  
 A. 15 kilogrammes  
 B. 2 kilogrammes  
 C. 20 grammes  
 D. 200 grammes

2)



Télévision grand écran  
 A. 20 kilogrammes  
 B. 1000 kilogrammes  
 C. 100 grammes  
 D. 20 grammes

3)




2 litre de soda  
 A. 100 grammes  
 B. 3 grammes  
 C. 2 kilogrammes  
 D. 50 grammes

4)



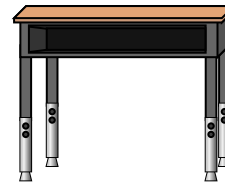
Stylo  
 A. 5 kilogrammes  
 B. 5000 grammes  
 C. 500 grammes  
 D. 5 grammes

5)



Scarabée  
 A. 1 gramm  
 B. 500 grammes  
 C. 5000 grammes  
 D. 2 kilogrammes

6)



Bureau  
 A. 300 grammes  
 B. 15 kilogrammes  
 C. 300 kilogrammes  
 D. 15 grammes

7)




Balais  
 A. 200 kilogrammes  
 B. 10 grammes  
 C. 10 kilogrammes  
 D. 500 grammes

8)



Pelle  
 A. 30 kilogrammes  
 B. 5 kilogrammes  
 C. 1 gramm  
 D. 10 grammes

9)



l'éléphant  
 A. 30 kilogrammes  
 B. 90 grammes  
 C. 5000 grammes  
 D. 5000 kilogrammes



Déterminez quelle lettre représente le mieux le poids.


**Gramma (g)**

Un gramo es aproximadamente el peso de un clip.



**Kilogramo (kilogramo)**

Un kilogramo es aproximadamente el peso de un libro grueso.

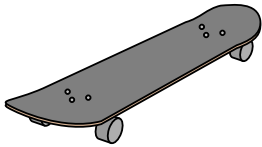


**Recuerda:**

Kilo significa 1,000. Entonces, un kilogramo son 1,000 gramos. 1 kilogramo también pesa aproximadamente lo mismo que 2 libras.

**Réponses**

1)



- planche à roulette  
A. 15 kilogrammes  
B. 2 kilogrammes  
C. 20 grammes  
D. 200 grammes

2)



- Télévision grand écran  
A. 20 kilogrammes  
B. 1000 kilogrammes  
C. 100 grammes  
D. 20 grammes

3)




- 2 litre de soda  
A. 100 grammes  
B. 3 grammes  
C. 2 kilogrammes  
D. 50 grammes

4)



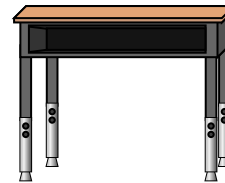
- Stylo  
A. 5 kilogrammes  
B. 5000 grammes  
C. 500 grammes  
D. 5 grammes

5)



- Scarabée  
A. 1 gramm  
B. 500 grammes  
C. 5000 grammes  
D. 2 kilogrammes

6)



- Bureau  
A. 300 grammes  
B. 15 kilogrammes  
C. 300 kilogrammes  
D. 15 grammes

7)




- Balais  
A. 200 kilogrammes  
B. 10 grammes  
C. 10 kilogrammes  
D. 500 grammes

8)



- Pelle  
A. 30 kilogrammes  
B. 5 kilogrammes  
C. 1 gramm  
D. 10 grammes

9)



- l'éléphant  
A. 30 kilogrammes  
B. 90 grammes  
C. 5000 grammes  
D. 5000 kilogrammes

1. **B**  
2. **A**  
3. **C**  
4. **D**  
5. **A**  
6. **B**  
7. **D**  
8. **B**  
9. **D**