



Déterminez quelle lettre représente le mieux le poids.

Réponses


Gramma (g)

Un gramo es aproximadamente el peso de un clip.



Kilogramo (kilogramo)


Un kilogramo es aproximadamente el peso de un libro grueso.



Recuerda:

Kilo significa 1,000. Entonces, un kilogramo son 1,000 gramos. 1 kilogramo también pesa aproximadamente lo mismo que 2 libras.

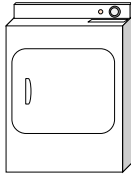
1)



l'éléphant

- A. 5000 kilogrammes
- B. 30 kilogrammes
- C. 90 grammes
- D. 5000 grammes

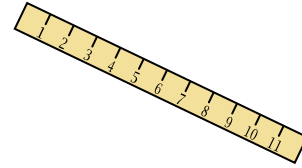
2)



Sèche-linge

- A. 60 grammes
- B. 3 kilogrammes
- C. 60 kilogrammes
- D. 3 grammes

3)



Règle

- A. 30 kilogrammes
- B. 1 gramm
- C. 999 grammes
- D. 20 grammes

4)



Pelle

- A. 5 kilogrammes
- B. 30 kilogrammes
- C. 1 gramm
- D. 10 grammes

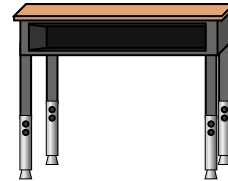
5)



Bâton de colle

- A. 1 gramm
- B. 1 kilogramm
- C. 62 grammes
- D. 500 grammes


6)



Bureau

- A. 15 kilogrammes
- B. 300 grammes
- C. 15 grammes
- D. 300 kilogrammes


7)



Canette de soda

- A. 500 kilogrammes
- B. 1 gramm
- C. 2 kilogrammes
- D. 250 grammes

8)



Boule de bowling

- A. 7 kilogrammes
- B. 90 kilogrammes
- C. 200 grammes
- D. 50 kilogrammes

9)



Bogue

- A. 1 kilogramm
- B. 50 grammes
- C. 1 gramm
- D. 50 kilogrammes

- 1. _____
- 2. _____
- 3. _____
- 4. _____
- 5. _____
- 6. _____
- 7. _____
- 8. _____
- 9. _____



Déterminez quelle lettre représente le mieux le poids.

Réponses


Gramma (g)

Un gramo es aproximadamente el peso de un clip.



Kilogramo (kilogramo)


Un kilogramo es aproximadamente el peso de un libro grueso.



Recuerda:

Kilo significa 1,000. Entonces, un kilogramo son 1,000 gramos. 1 kilogramo también pesa aproximadamente lo mismo que 2 libras.

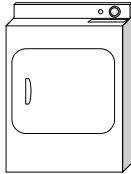
1)



l'éléphant

- A. 5000 kilogrammes
- B. 30 kilogrammes
- C. 90 grammes
- D. 5000 grammes

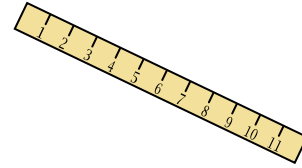
2)



Sèche-linge

- A. 60 grammes
- B. 3 kilogrammes
- C. 60 kilogrammes
- D. 3 grammes

3)



Règle

- A. 30 kilogrammes
- B. 1 gramm
- C. 999 grammes
- D. 20 grammes

4)



Pelle

- A. 5 kilogrammes
- B. 30 kilogrammes
- C. 1 gramm
- D. 10 grammes

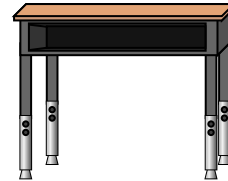
5)



Bâton de colle

- A. 1 gramm
- B. 1 kilogramm
- C. 62 grammes
- D. 500 grammes


6)



Bureau

- A. 15 kilogrammes
- B. 300 grammes
- C. 15 grammes
- D. 300 kilogrammes


7)



Canette de soda

- A. 500 kilogrammes
- B. 1 gramm
- C. 2 kilogrammes
- D. 250 grammes

8)



Boule de bowling

- A. 7 kilogrammes
- B. 90 kilogrammes
- C. 200 grammes
- D. 50 kilogrammes

9)



Bogue

- A. 1 kilogramm
- B. 50 grammes
- C. 1 gramm
- D. 50 kilogrammes

- 1. **A**
- 2. **C**
- 3. **D**
- 4. **A**
- 5. **C**
- 6. **A**
- 7. **D**
- 8. **A**
- 9. **C**