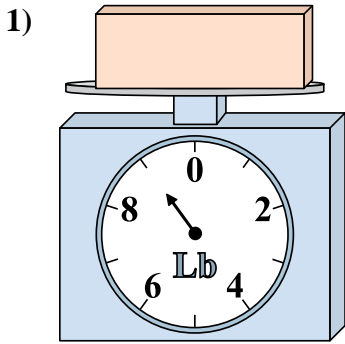


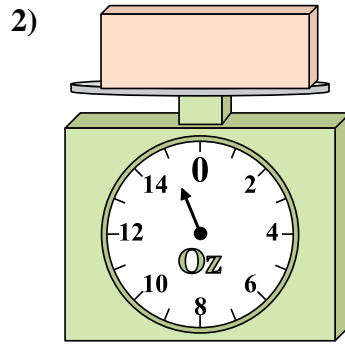


Utilisez la balance pour répondre à chaque question.

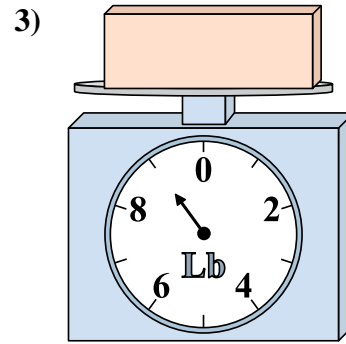
Réponses



Si vous avez 7 blocs qui font le même poids, combien de livres total pèsent tous les blocs?

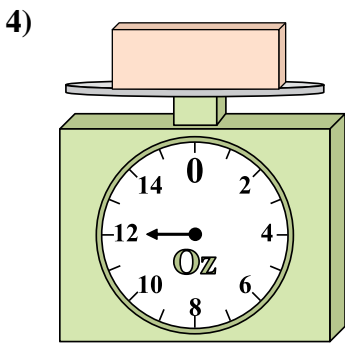


Si le bloc indique qu'il est 7 onces plus lourd, combien pèse t-il?

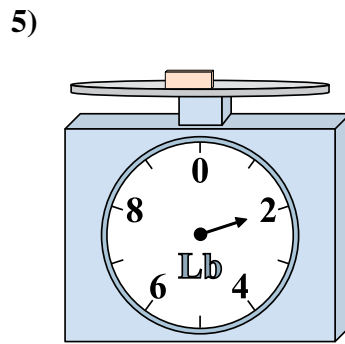


Quel est le poids (en livres) d'un bloc?

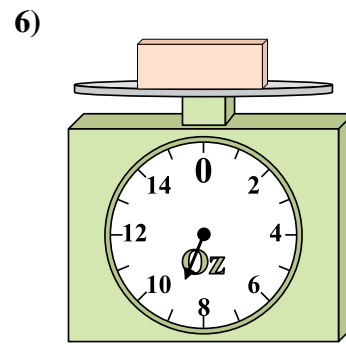
1. _____
2. _____
3. _____
4. _____
5. _____
6. _____
7. _____
8. _____
9. _____



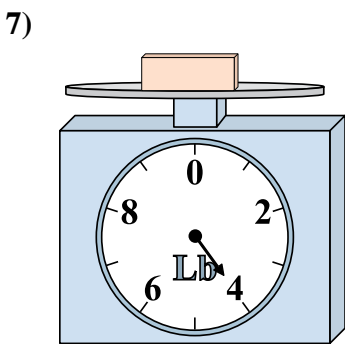
Si le bloc indique qu'il est 10 onces plus léger, combien pèse t-il?



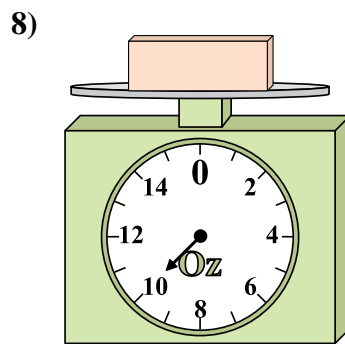
Si le bloc indique qu'il est 6 livres plus lourd, combien pèse t-il?



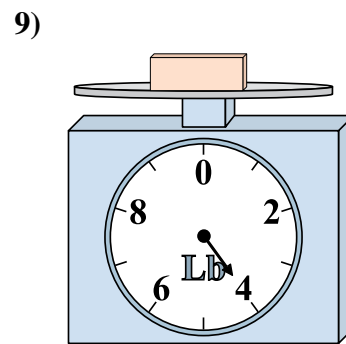
Si le bloc indique qu'il est 4 onces plus léger, combien pèse t-il?



Quel est le poids (en livres) d'un bloc?



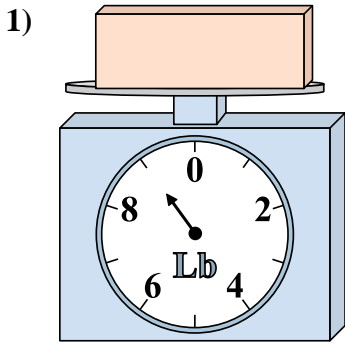
Si vous avez 7 blocs qui font le même poids, combien de onces total pèsent tous les blocs?



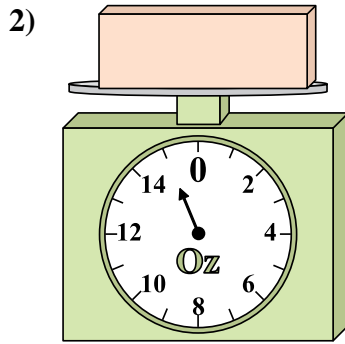
Quel est le poids (en livres) d'un bloc?



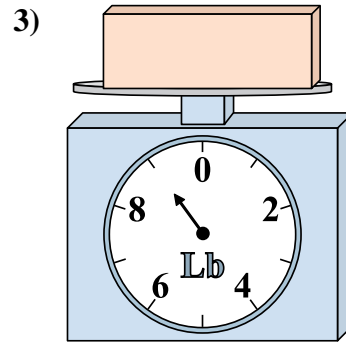
Utilisez la balance pour répondre à chaque question.



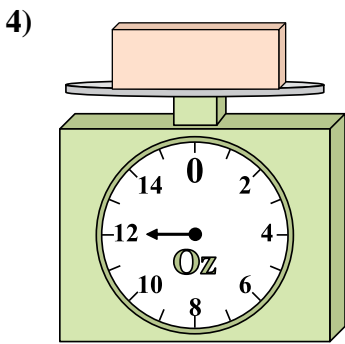
1) Si vous avez 7 blocs qui font le même poids, combien de livres total pèsent tous les blocs?



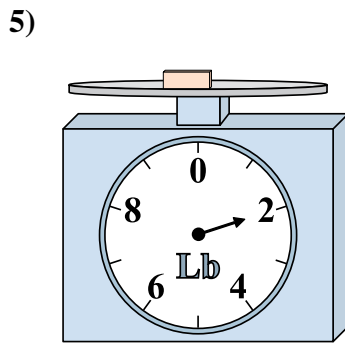
2) Si le bloc indique qu'il est 7 onces plus lourd, combien pèse t-il?



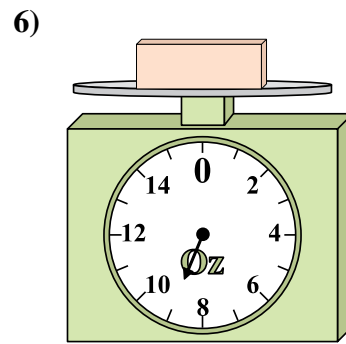
3) Quel est le poids (en livres) d'un bloce?



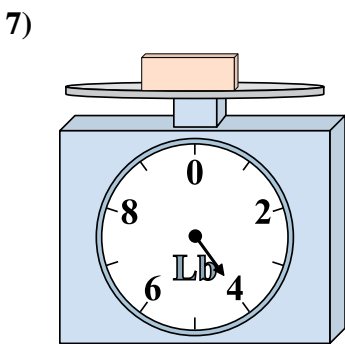
4) Si le bloc indique qu'il est 10 onces plus léger, combien pèse t-il?



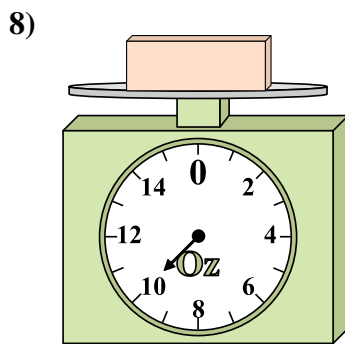
5) Si le bloc indique qu'il est 6 livres plus lourd, combien pèse t-il?



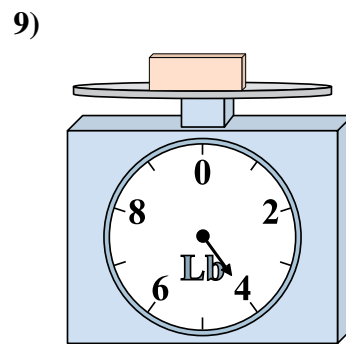
6) Si le bloc indique qu'il est 4 onces plus léger, combien pèse t-il?



7) Quel est le poids (en livres) d'un bloce?



8) Si vous avez 7 blocs qui font le même poids, combien de onces total pèsent tous les blocs?



9) Quel est le poids (en livres) d'un bloce?

Réponses

- 1. 63
- 2. 22
- 3. 9
- 4. 2
- 5. 8
- 6. 5
- 7. 4
- 8. 70
- 9. 4