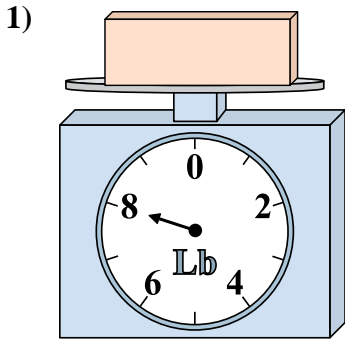


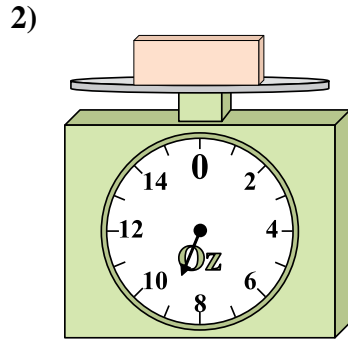


Utilisez la balance pour répondre à chaque question.

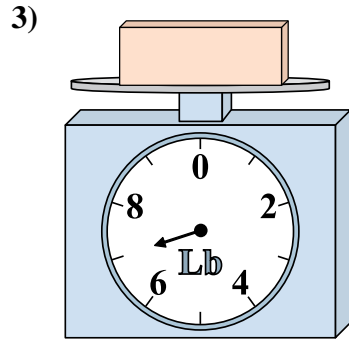
Réponses



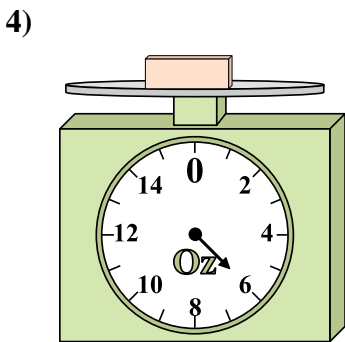
Si le bloc indique qu'il est 6 livres plus léger, combien pèse t-il?



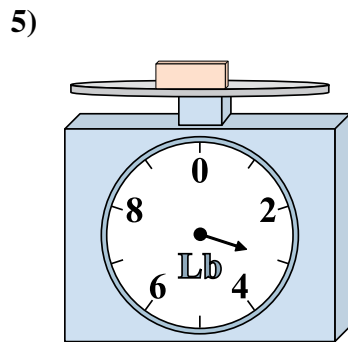
Si le bloc indique qu'il est 8 onces plus léger, combien pèse t-il?



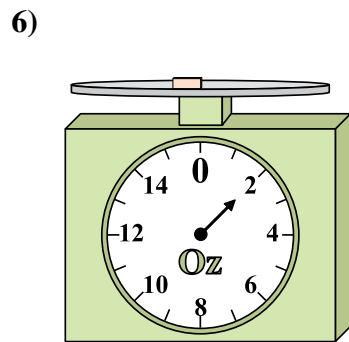
Si vous avez 2 blocs qui font le même poids, combien de livres total pèsent tous les blocs?



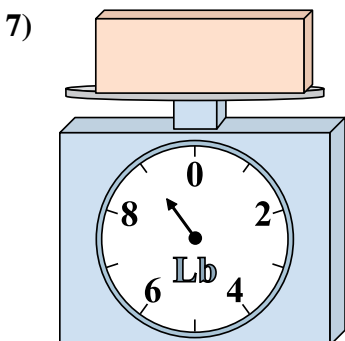
Si le bloc indique qu'il est 2 onces plus lourd, combien pèse t-il?



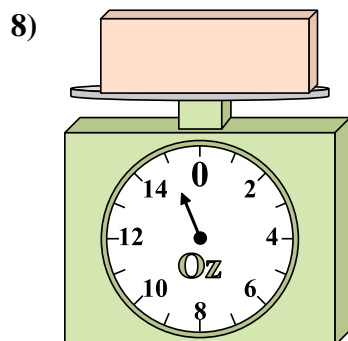
Si vous avez 8 blocs qui font le même poids, combien de livres total pèsent tous les blocs?



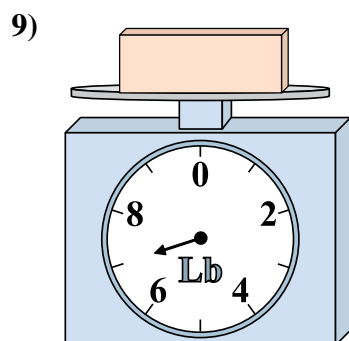
Si le bloc indique qu'il est 2 onces plus lourd, combien pèse t-il?



Quel est le poids (en livres) d'un bloc?



Quel est le poids (en onces)) d'un bloc?

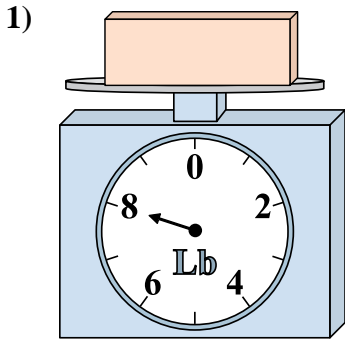


Si le bloc indique qu'il est 3 livres plus léger, combien pèse t-il?

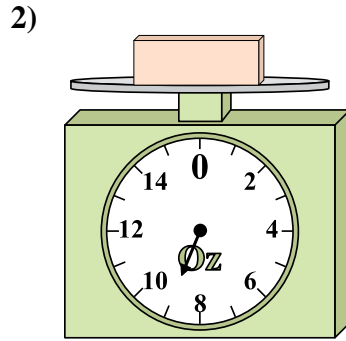
1. _____
2. _____
3. _____
4. _____
5. _____
6. _____
7. _____
8. _____
9. _____



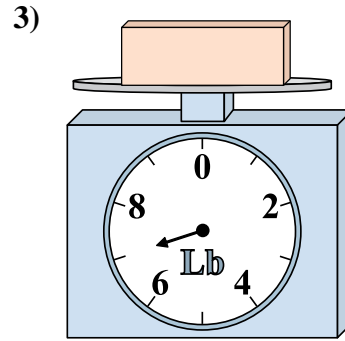
Utilisez la balance pour répondre à chaque question.



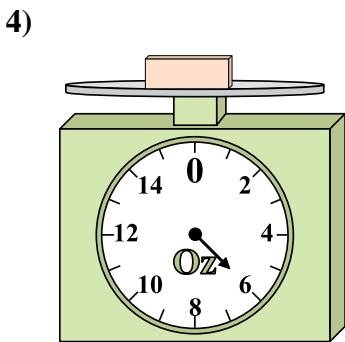
1) Si le bloc indique qu'il est 6 livres plus léger, combien pèse t-il?



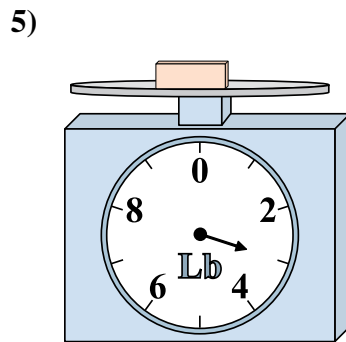
2) Si le bloc indique qu'il est 8 onces plus léger, combien pèse t-il?



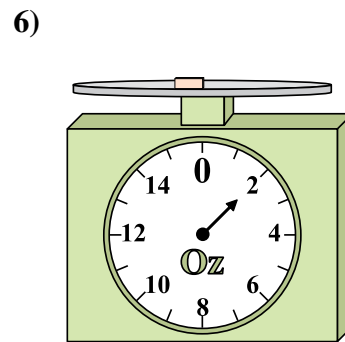
3) Si vous avez 2 blocs qui font le même poids, combien de livres total pèsent tous les blocs?



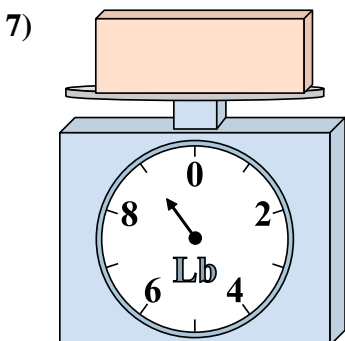
4) Si le bloc indique qu'il est 2 onces plus lourd, combien pèse t-il?



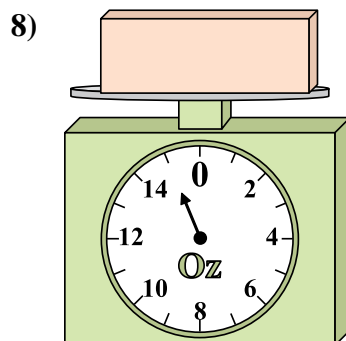
5) Si vous avez 8 blocs qui font le même poids, combien de livres total pèsent tous les blocs?



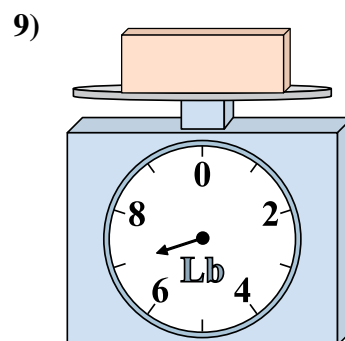
6) Si le bloc indique qu'il est 2 onces plus lourd, combien pèse t-il?



7) Quel est le poids (en livres) d'un bloc?



8) Quel est le poids (en onces)) d'un bloc?



9) Si le bloc indique qu'il est 3 livres plus léger, combien pèse t-il?

Réponses

- 1. 2
- 2. 1
- 3. 14
- 4. 8
- 5. 24
- 6. 4
- 7. 9
- 8. 15
- 9. 4