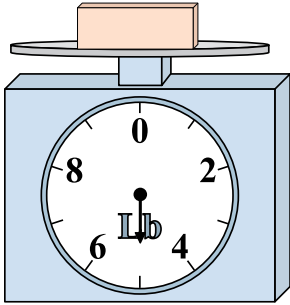




Utilisez la balance pour répondre à chaque question.


Réponses

1)



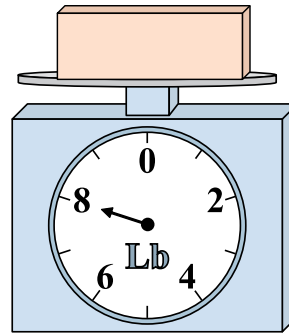
Si le bloc indique qu'il est 3 livres plus léger, combien pèse t-il?

2)



Si le bloc indique qu'il est 5 onces plus léger, combien pèse t-il?

3)



Quel est le poids (en livres) d'un bloc?

1. _____

2. _____

3. _____

4. _____

5. _____


6. _____

7. _____

8. _____

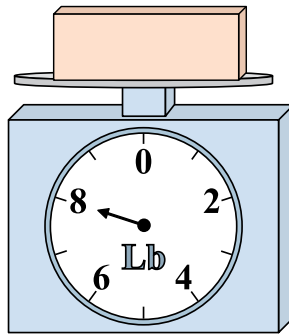
9. _____

4)




Quel est le poids (en onces)) d'un bloc?

5)




Si le bloc indique qu'il est 7 livres plus lourd, combien pèse t-il?

6)




Si vous avez 10 blocs qui font le même poids, combien de onces total pèsent tous les blocs?

7)




Si le bloc indique qu'il est 6 livres plus lourd, combien pèse t-il?

8)



Quel est le poids (en onces)) d'un bloc?

9)

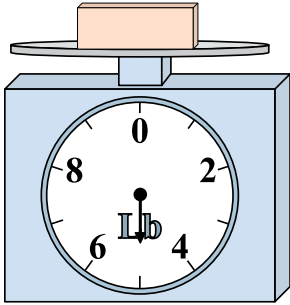


Si vous avez 6 blocs qui font le même poids, combien de livres total pèsent tous les blocs?




Utilisez la balance pour répondre à chaque question.

1)



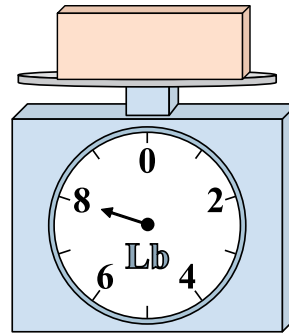
Si le bloc indique qu'il est 3 livres plus léger, combien pèse t-il?

2)




Si le bloc indique qu'il est 5 onces plus léger, combien pèse t-il?

3)



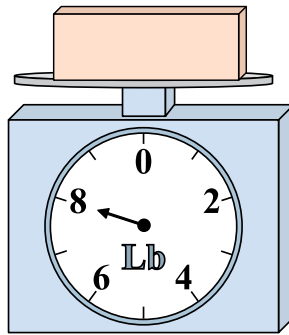
Quel est le poids (en livres) d'un bloc?

4)




Quel est le poids (en onces)) d'un bloc?

5)




Si le bloc indique qu'il est 7 livres plus lourd, combien pèse t-il?

6)




Si vous avez 10 blocs qui font le même poids, combien de onces total pèsent tous les blocs?

7)




Si le bloc indique qu'il est 6 livres plus lourd, combien pèse t-il?

8)



Quel est le poids (en onces)) d'un bloc?

9)



Si vous avez 6 blocs qui font le même poids, combien de livres total pèsent tous les blocs?

Réponses

1. **2**

2. **3**

3. **8**

4. **8**

5. **15**

6. **140**

7. **12**

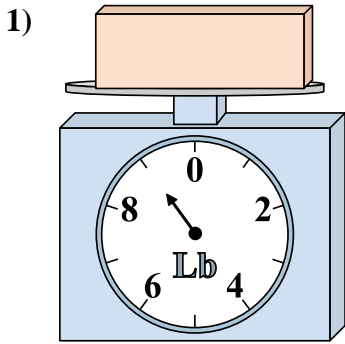
8. **15**

9. **24**

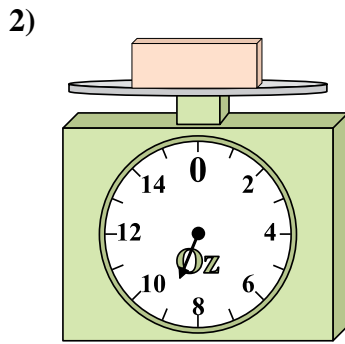


Utilisez la balance pour répondre à chaque question.

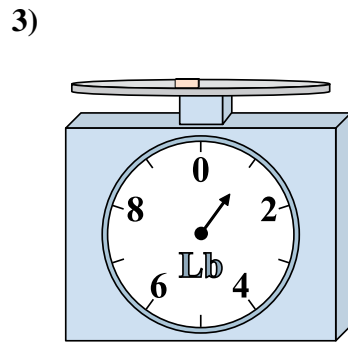
Réponses



Si vous avez 5 blocs qui font le même poids, combien de livres total pèsent tous les blocs?

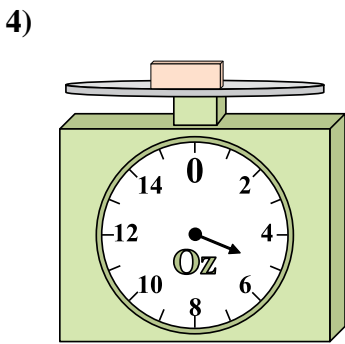


Quel est le poids (en onces) d'un bloc?

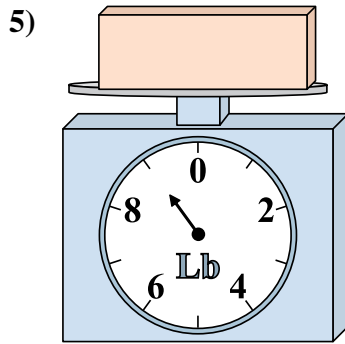


Si le bloc indique qu'il est 8 livres plus lourd, combien pèse t-il?

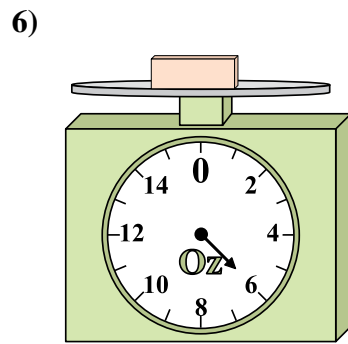
1. _____
2. _____
3. _____
4. _____
5. _____
6. _____
7. _____
8. _____
9. _____



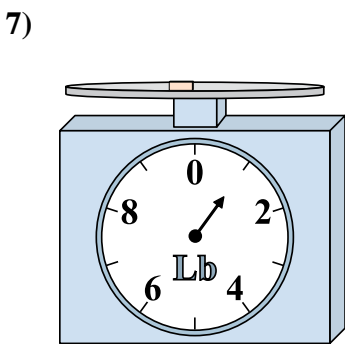
Si le bloc indique qu'il est 9 onces plus lourd, combien pèse t-il?



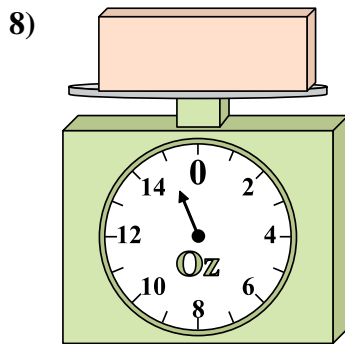
Si le bloc indique qu'il est 6 livres plus léger, combien pèse t-il?



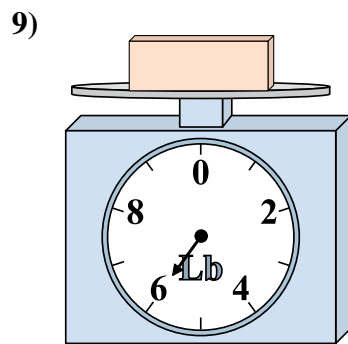
Quel est le poids (en onces) d'un bloc?



Quel est le poids (en livres) d'un bloc?



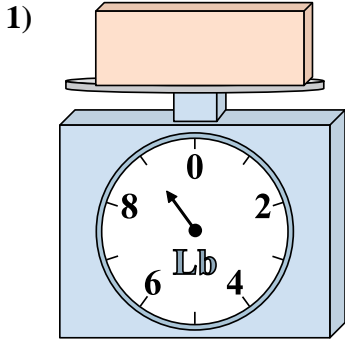
Si le bloc indique qu'il est 13 onces plus léger, combien pèse t-il?



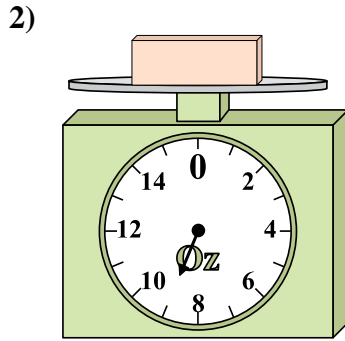
Si vous avez 3 blocs qui font le même poids, combien de livres total pèsent tous les blocs?



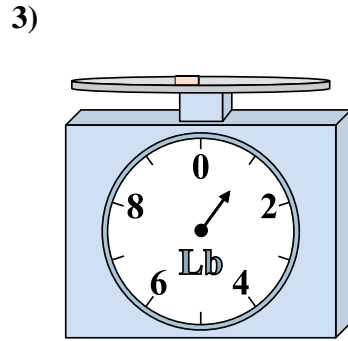
Utilisez la balance pour répondre à chaque question.



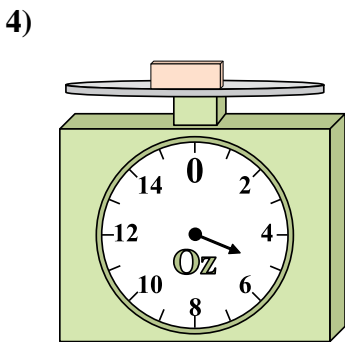
Si vous avez 5 blocs qui font le même poids, combien de livres total pèsent tous les blocs?



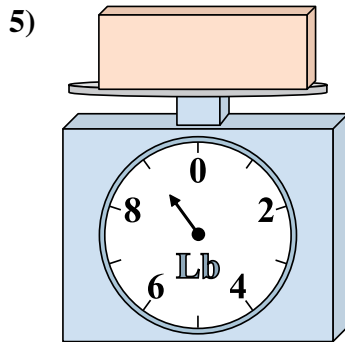
Quel est le poids (en onces) d'un bloc?



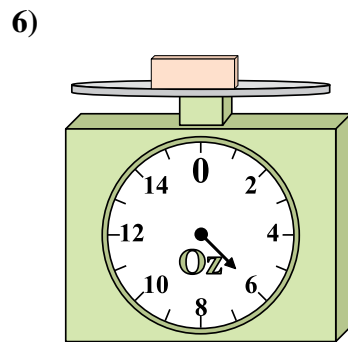
Si le bloc indique qu'il est 8 livres plus lourd, combien pèse t-il?



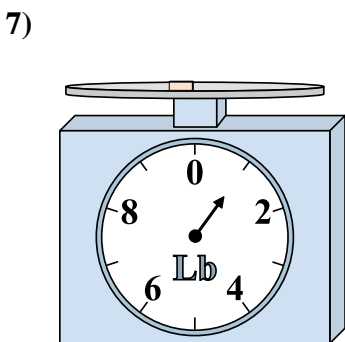
Si le bloc indique qu'il est 9 onces plus lourd, combien pèse t-il?



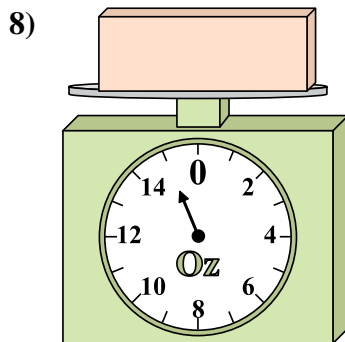
Si le bloc indique qu'il est 6 livres plus léger, combien pèse t-il?




Quel est le poids (en onces) d'un bloc?



Quel est le poids (en livres) d'un bloc?



Si le bloc indique qu'il est 13 onces plus léger, combien pèse t-il?



Si vous avez 3 blocs qui font le même poids, combien de livres total pèsent tous les blocs?

Réponses

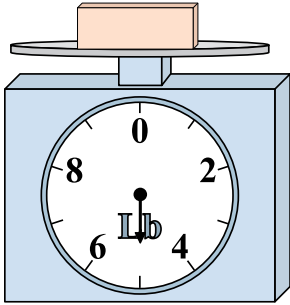
- 1. 45
- 2. 9
- 3. 9
- 4. 14
- 5. 3
- 6. 6
- 7. 1
- 8. 2
- 9. 18



Utilisez la balance pour répondre à chaque question.


Réponses

1)




Si le bloc indique qu'il est 10 livres plus lourd, combien pèse t-il?

2)




Quel est le poids (en onces)) d'un bloce?

3)



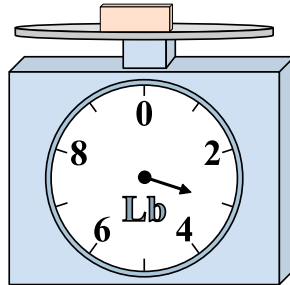
Si vous avez 3 blocs qui font le même poids, combien de livres total pèsent tous les blocs?

4)



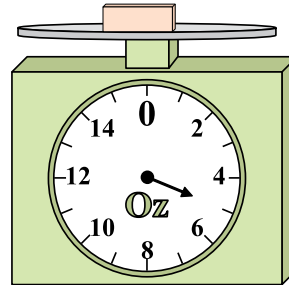
Quel est le poids (en onces)) d'un bloce?

5)



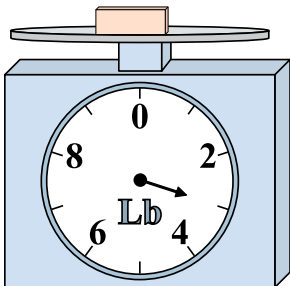
Si le bloc indique qu'il est 2 livres plus léger, combien pèse t-il?

6)




Si vous avez 5 blocs qui font le même poids, combien de onces total pèsent tous les blocs?

7)



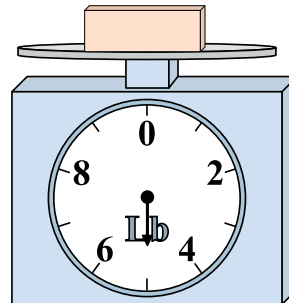
Si le bloc indique qu'il est 2 livres plus léger, combien pèse t-il?

8)



Si vous avez 10 blocs qui font le même poids, combien de onces total pèsent tous les blocs?

9)



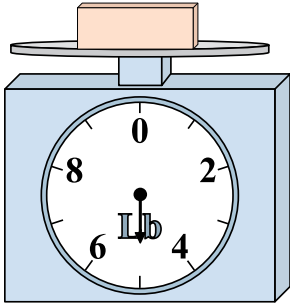
Si le bloc indique qu'il est 9 livres plus lourd, combien pèse t-il?

1. _____
2. _____
3. _____
4. _____
5. _____
6. _____
7. _____
8. _____
9. _____




Utilisez la balance pour répondre à chaque question.

1)




Si le bloc indique qu'il est 10 livres plus lourd, combien pèse t-il?

2)




Quel est le poids (en onces)) d'un bloce?

3)



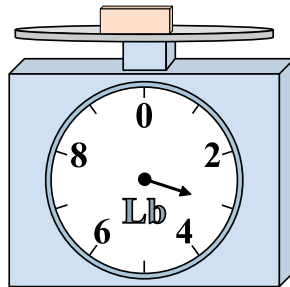
Si vous avez 3 blocs qui font le même poids, combien de livres total pèsent tous les blocs?

4)




Quel est le poids (en onces)) d'un bloce?

5)



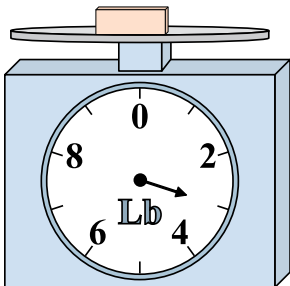
Si le bloc indique qu'il est 2 livres plus léger, combien pèse t-il?

6)




Si vous avez 5 blocs qui font le même poids, combien de onces total pèsent tous les blocs?

7)



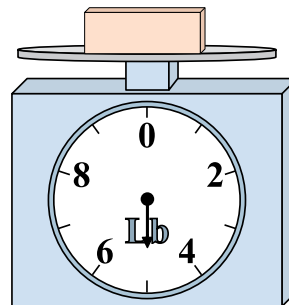
Si le bloc indique qu'il est 2 livres plus léger, combien pèse t-il?

8)



Si vous avez 10 blocs qui font le même poids, combien de onces total pèsent tous les blocs?

9)



Si le bloc indique qu'il est 9 livres plus lourd, combien pèse t-il?

Réponses

1. **15**

2. **8**

3. **27**

4. **2**

5. **1**

6. **25**

7. **1**

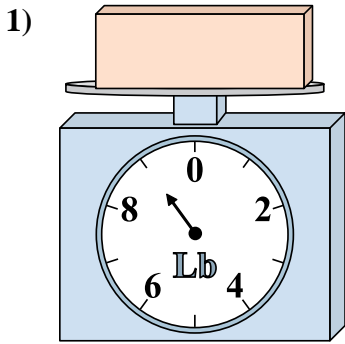
8. **150**

9. **14**

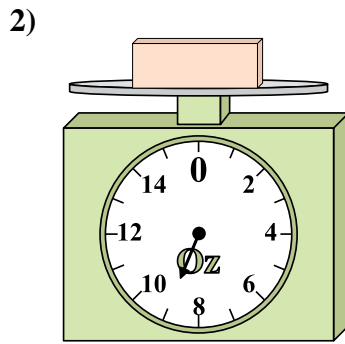


Utilisez la balance pour répondre à chaque question.

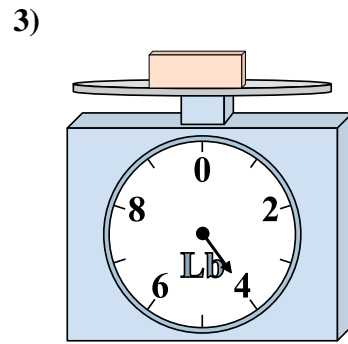
Réponses



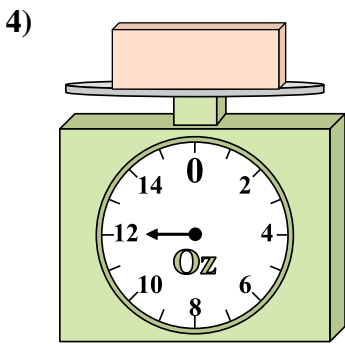
Si le bloc indique qu'il est 4 livres plus léger, combien pèse t-il?



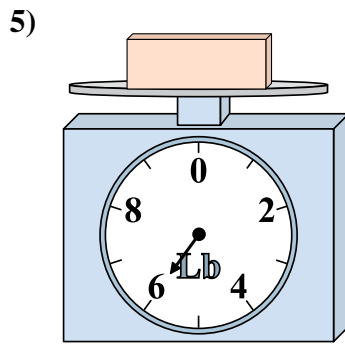
Quel est le poids (en onces) d'un bloc?



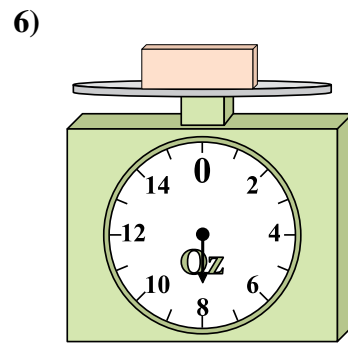
Quel est le poids (en livres) d'un bloc?



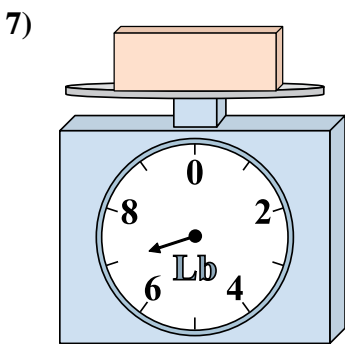
Si vous avez 2 blocs qui font le même poids, combien de onces total pèsent tous les blocs?



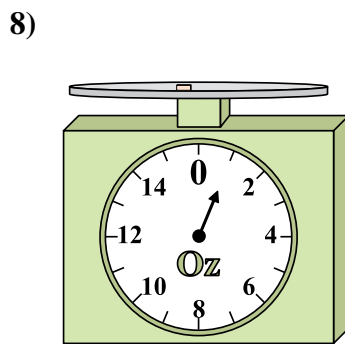
Si le bloc indique qu'il est 2 livres plus léger, combien pèse t-il?



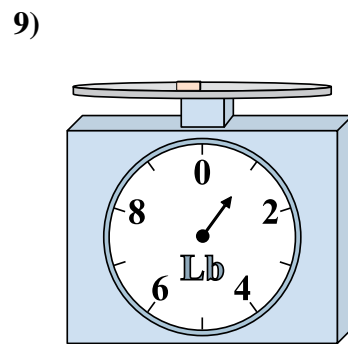
Si vous avez 5 blocs qui font le même poids, combien de onces total pèsent tous les blocs?



Si le bloc indique qu'il est 2 livres plus lourd, combien pèse t-il?



Si vous avez 6 blocs qui font le même poids, combien de onces total pèsent tous les blocs?

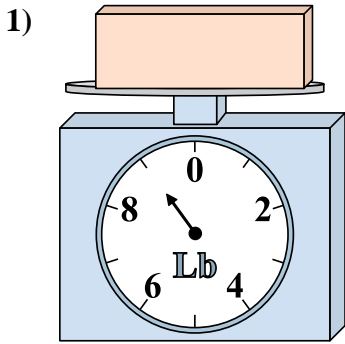


Si le bloc indique qu'il est 4 livres plus lourd, combien pèse t-il?

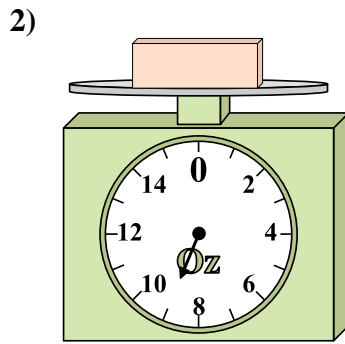
- 1. _____
- 2. _____
- 3. _____
- 4. _____
- 5. _____
- 6. _____
- 7. _____
- 8. _____
- 9. _____



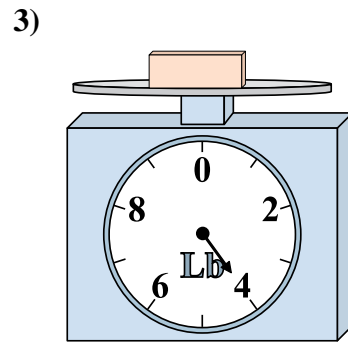
Utilisez la balance pour répondre à chaque question.



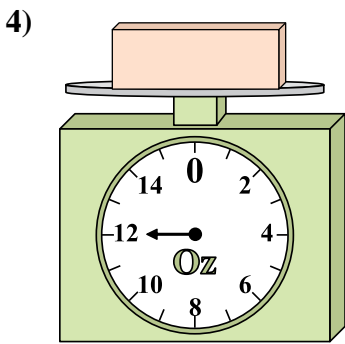
1) Si le bloc indique qu'il est 4 livres plus léger, combien pèse t-il?



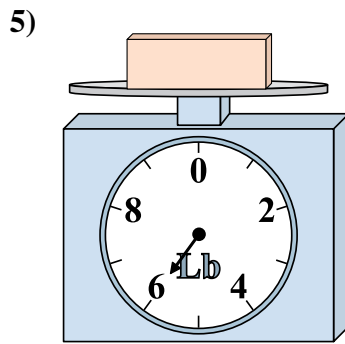
2) Quel est le poids (en onces) d'un bloce?



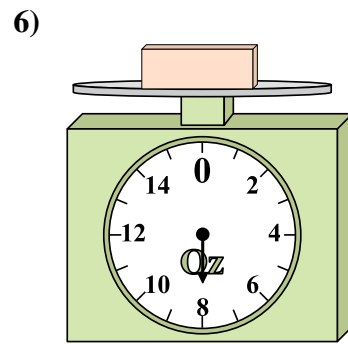
3) Quel est le poids (en livres) d'un bloce?



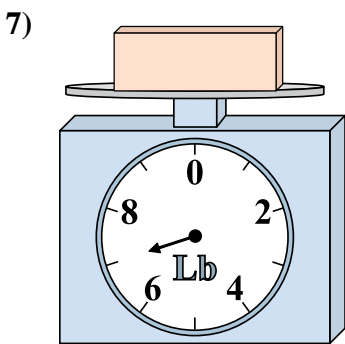
4) Si vous avez 2 blocs qui font le même poids, combien de onces total pèsent tous les blocs?



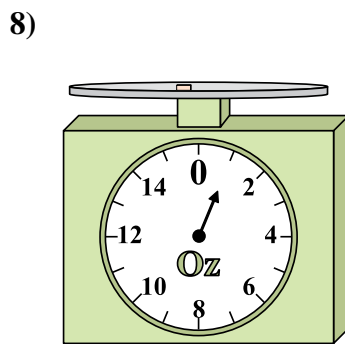
5) Si le bloc indique qu'il est 2 livres plus léger, combien pèse t-il?



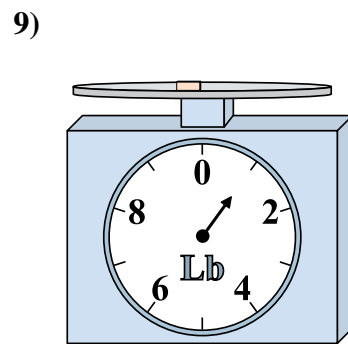
6) Si vous avez 5 blocs qui font le même poids, combien de onces total pèsent tous les blocs?



7) Si le bloc indique qu'il est 2 livres plus lourd, combien pèse t-il?



8) Si vous avez 6 blocs qui font le même poids, combien de onces total pèsent tous les blocs?



9) Si le bloc indique qu'il est 4 livres plus lourd, combien pèse t-il?

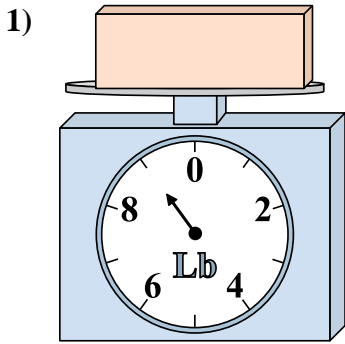
Réponses

- 1. 5
- 2. 9
- 3. 4
- 4. 24
- 5. 4
- 6. 40
- 7. 9
- 8. 6
- 9. 5

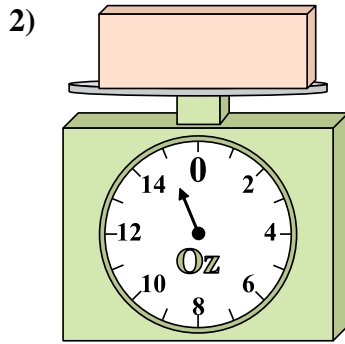


Utilisez la balance pour répondre à chaque question.

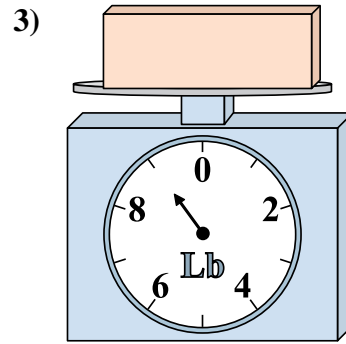
Réponses



Si vous avez 7 blocs qui font le même poids, combien de livres total pèsent tous les blocs?

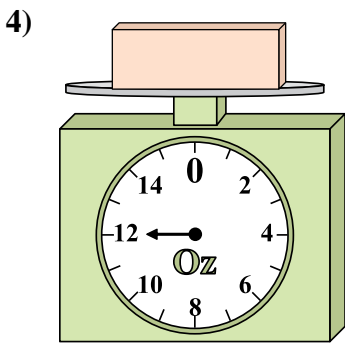


Si le bloc indique qu'il est 7 onces plus lourd, combien pèse t-il?

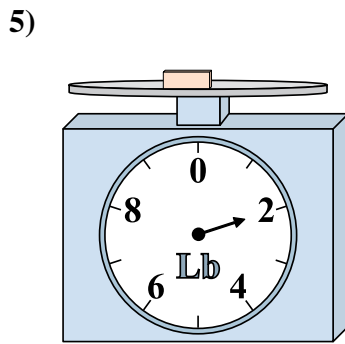


Quel est le poids (en livres) d'un bloc?

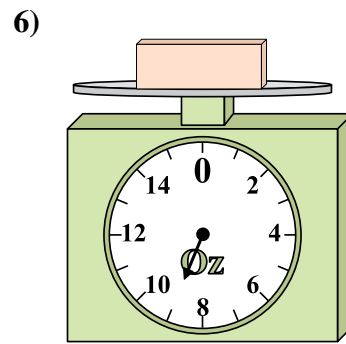
1. _____
2. _____
3. _____
4. _____
5. _____
6. _____
7. _____
8. _____
9. _____



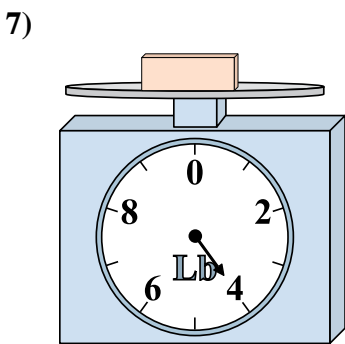
Si le bloc indique qu'il est 10 onces plus léger, combien pèse t-il?



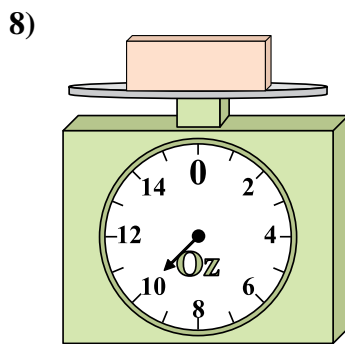
Si le bloc indique qu'il est 6 livres plus lourd, combien pèse t-il?



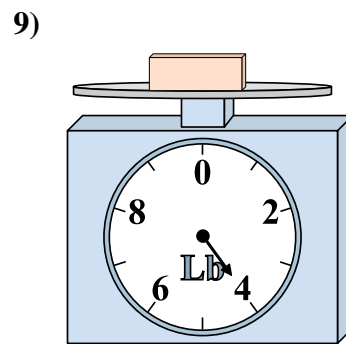
Si le bloc indique qu'il est 4 onces plus léger, combien pèse t-il?



Quel est le poids (en livres) d'un bloc?



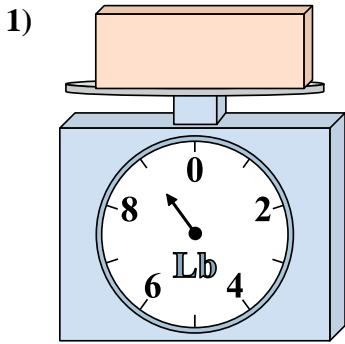
Si vous avez 7 blocs qui font le même poids, combien de onces total pèsent tous les blocs?



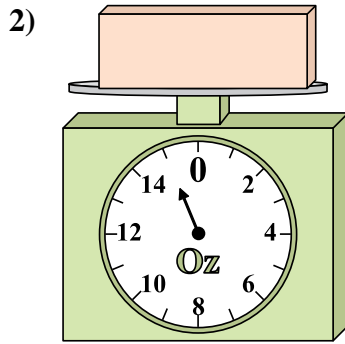
Quel est le poids (en livres) d'un bloc?



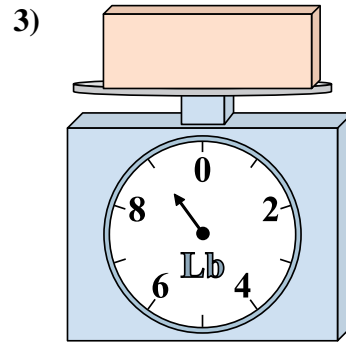
Utilisez la balance pour répondre à chaque question.



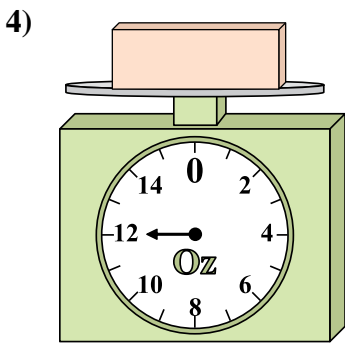
1) Si vous avez 7 blocs qui font le même poids, combien de livres total pèsent tous les blocs?



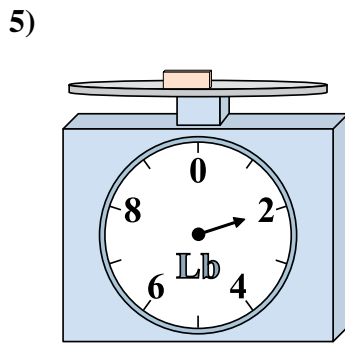
2) Si le bloc indique qu'il est 7 onces plus lourd, combien pèse t-il?



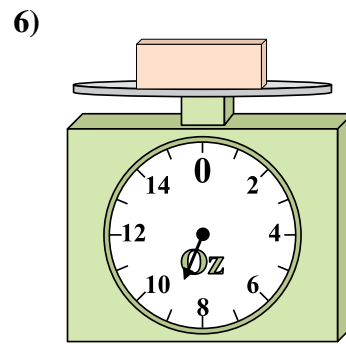
3) Quel est le poids (en livres) d'un bloce?



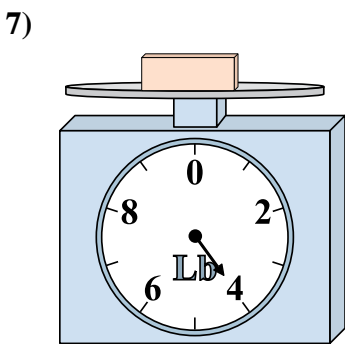
4) Si le bloc indique qu'il est 10 onces plus léger, combien pèse t-il?



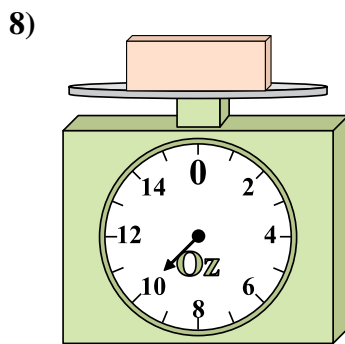
5) Si le bloc indique qu'il est 6 livres plus lourd, combien pèse t-il?



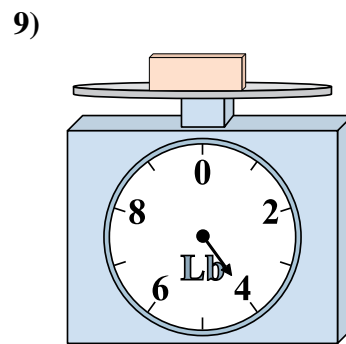
6) Si le bloc indique qu'il est 4 onces plus léger, combien pèse t-il?



7) Quel est le poids (en livres) d'un bloce?



8) Si vous avez 7 blocs qui font le même poids, combien de onces total pèsent tous les blocs?



9) Quel est le poids (en livres) d'un bloce?

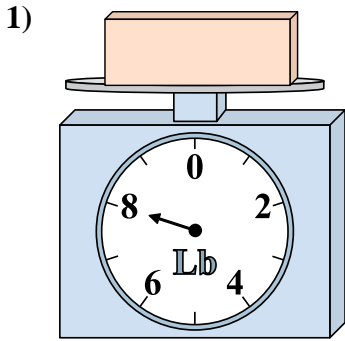
Réponses

- 1. 63
- 2. 22
- 3. 9
- 4. 2
- 5. 8
- 6. 5
- 7. 4
- 8. 70
- 9. 4

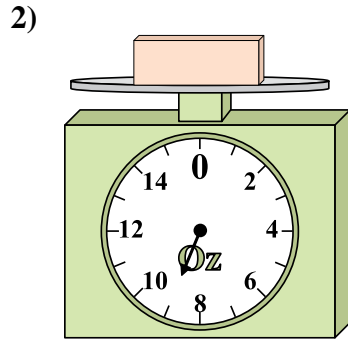


Utilisez la balance pour répondre à chaque question.

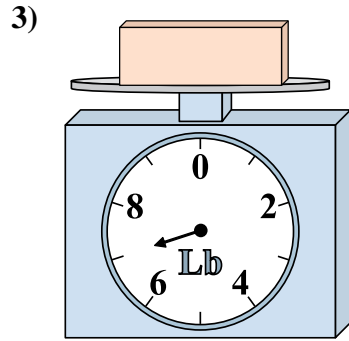
Réponses



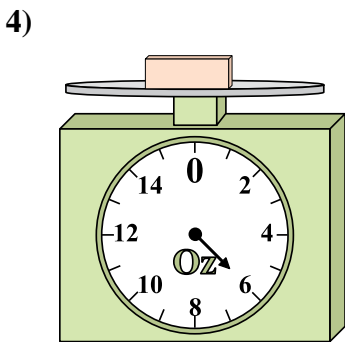
Si le bloc indique qu'il est 6 livres plus léger, combien pèse t-il?



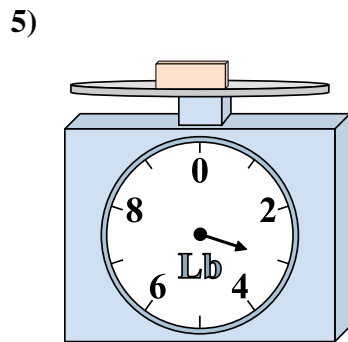
Si le bloc indique qu'il est 8 onces plus léger, combien pèse t-il?



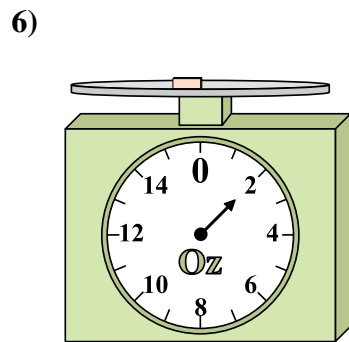
Si vous avez 2 blocs qui font le même poids, combien de livres total pèsent tous les blocs?



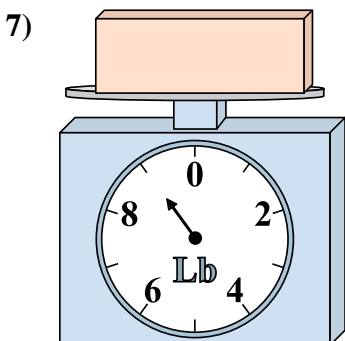
Si le bloc indique qu'il est 2 onces plus lourd, combien pèse t-il?



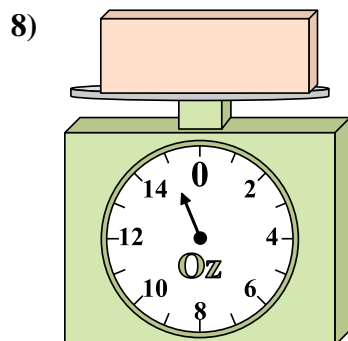
Si vous avez 8 blocs qui font le même poids, combien de livres total pèsent tous les blocs?



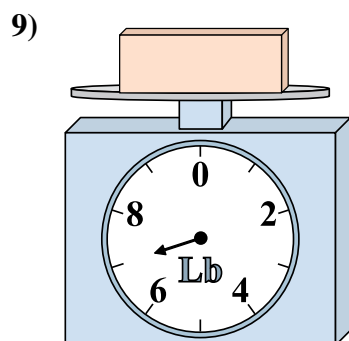
Si le bloc indique qu'il est 2 onces plus lourd, combien pèse t-il?



Quel est le poids (en livres) d'un bloc?



Quel est le poids (en onces)) d'un bloc?

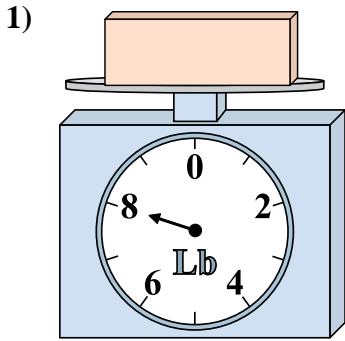


Si le bloc indique qu'il est 3 livres plus léger, combien pèse t-il?

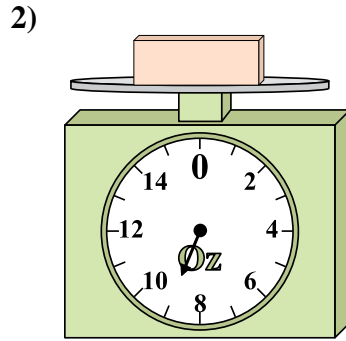
1. _____
2. _____
3. _____
4. _____
5. _____
6. _____
7. _____
8. _____
9. _____



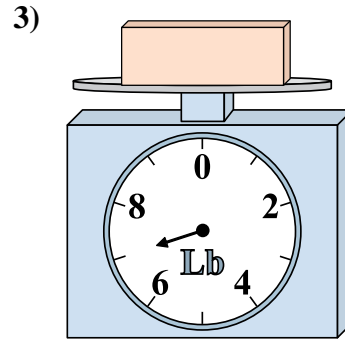
Utilisez la balance pour répondre à chaque question.



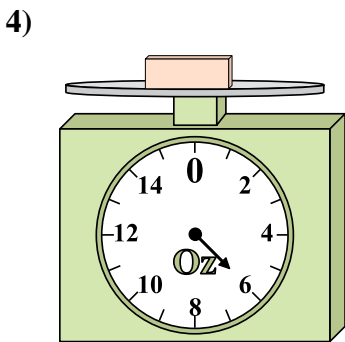
1) Si le bloc indique qu'il est 6 livres plus léger, combien pèse t-il?



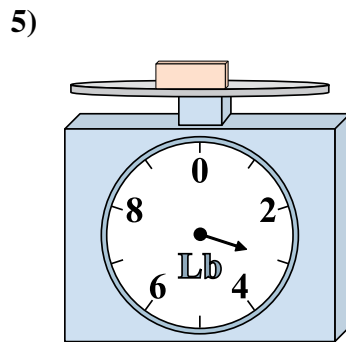
2) Si le bloc indique qu'il est 8 onces plus léger, combien pèse t-il?



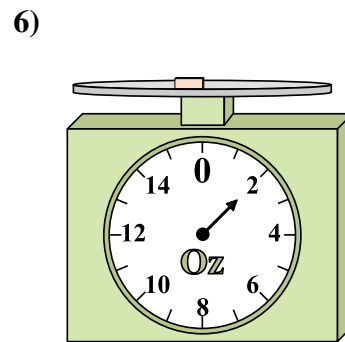
3) Si vous avez 2 blocs qui font le même poids, combien de livres total pèsent tous les blocs?



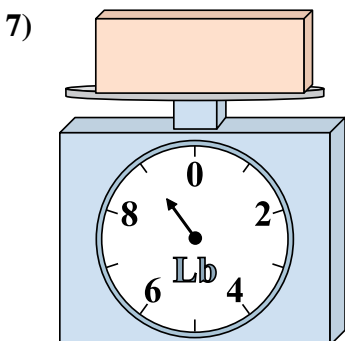
4) Si le bloc indique qu'il est 2 onces plus lourd, combien pèse t-il?



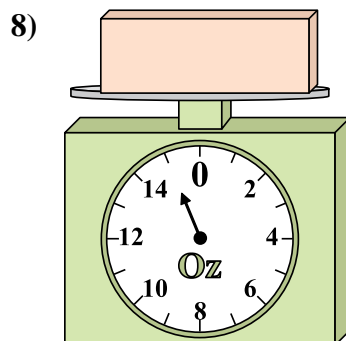
5) Si vous avez 8 blocs qui font le même poids, combien de livres total pèsent tous les blocs?



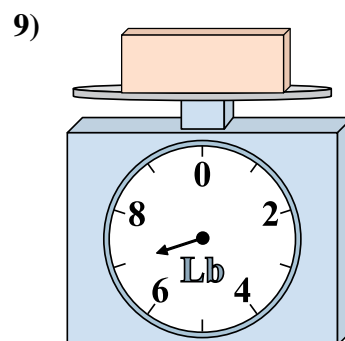
6) Si le bloc indique qu'il est 2 onces plus lourd, combien pèse t-il?



7) Quel est le poids (en livres) d'un bloc?



8) Quel est le poids (en onces)) d'un bloc?



9) Si le bloc indique qu'il est 3 livres plus léger, combien pèse t-il?

Réponses


- 1. 2
- 2. 1
- 3. 14
- 4. 8
- 5. 24
- 6. 4
- 7. 9
- 8. 15
- 9. 4



Utilisez la balance pour répondre à chaque question.


Réponses

1)




Quel est le poids (en livres) d'un bloc?

2)




Si le bloc indique qu'il est 8 onces plus lourd, combien pèse t-il?

3)



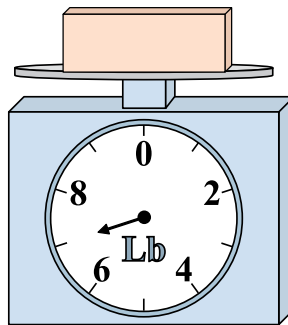
Si vous avez 2 blocs qui font le même poids, combien de livres total pèsent tous les blocs?

4)




Si vous avez 8 blocs qui font le même poids, combien de onces total pèsent tous les blocs?

5)




Si le bloc indique qu'il est 2 livres plus lourd, combien pèse t-il?

6)




Si le bloc indique qu'il est 4 onces plus léger, combien pèse t-il?

7)




Si vous avez 8 blocs qui font le même poids, combien de livres total pèsent tous les blocs?

8)



Quel est le poids (en onces) d'un bloc?

9)

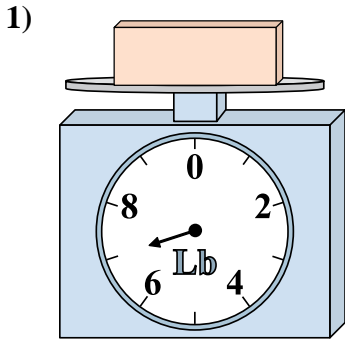


Si le bloc indique qu'il est 3 livres plus léger, combien pèse t-il?

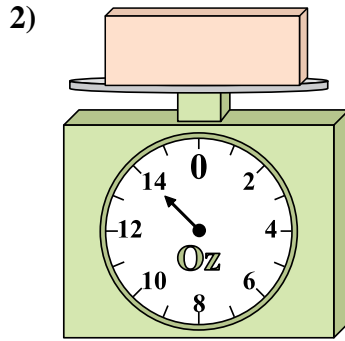
1. _____
2. _____
3. _____
4. _____
5. _____
6. _____
7. _____
8. _____
9. _____



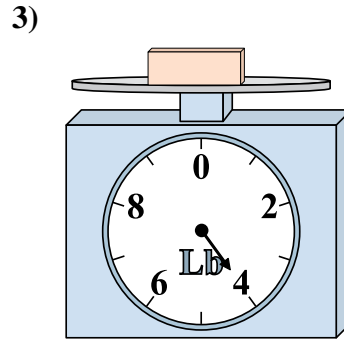
Utilisez la balance pour répondre à chaque question.



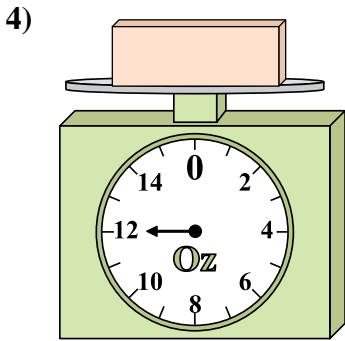
1) Quel est le poids (en livres) d'un bloc?



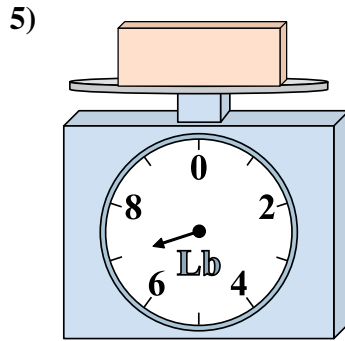
2) Si le bloc indique qu'il est 8 onces plus lourd, combien pèse t-il?



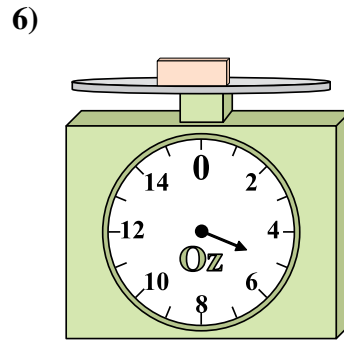
3) Si vous avez 2 blocs qui font le même poids, combien de livres total pèsent tous les blocs?



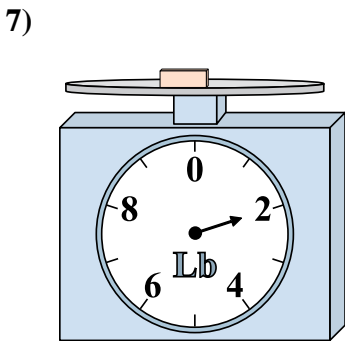
4) Si vous avez 8 blocs qui font le même poids, combien de onces total pèsent tous les blocs?



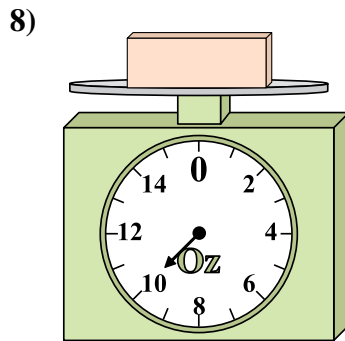
5) Si le bloc indique qu'il est 2 livres plus lourd, combien pèse t-il?



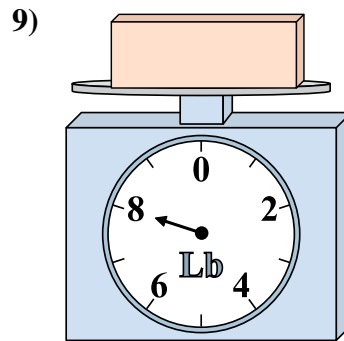
6) Si le bloc indique qu'il est 4 onces plus léger, combien pèse t-il?



7) Si vous avez 8 blocs qui font le même poids, combien de livres total pèsent tous les blocs?



8) Quel est le poids (en onces) d'un bloc?



9) Si le bloc indique qu'il est 3 livres plus léger, combien pèse t-il?

Réponses


- 1. 7
- 2. 22
- 3. 8
- 4. 96
- 5. 9
- 6. 1
- 7. 16
- 8. 10
- 9. 5



Utilisez la balance pour répondre à chaque question.


Réponses

1)




Quel est le poids (en livres) d'un bloc?

2)



Quel est le poids (en onces) d'un bloc?

3)



Si le bloc indique qu'il est 3 livres plus léger, combien pèse t-il?

1. _____

2. _____

3. _____

4. _____

5. _____


6. _____

7. _____

8. _____


9. _____

4)




Si le bloc indique qu'il est 7 onces plus lourd, combien pèse t-il?

5)



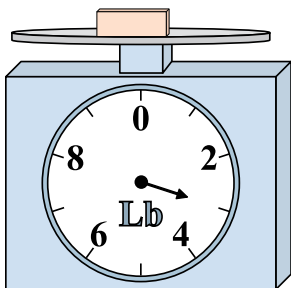
Si le bloc indique qu'il est 4 livres plus lourd, combien pèse t-il?

6)




Si vous avez 9 blocs qui font le même poids, combien de onces total pèsent tous les blocs?

7)




Si vous avez 10 blocs qui font le même poids, combien de livres total pèsent tous les blocs?

8)



Si le bloc indique qu'il est 5 onces plus léger, combien pèse t-il?

9)




Si le bloc indique qu'il est 6 livres plus léger, combien pèse t-il?




Utilisez la balance pour répondre à chaque question.

1)




Quel est le poids (en livres) d'un bloc?

2)




Quel est le poids (en onces) d'un bloc?

3)




Si le bloc indique qu'il est 3 livres plus léger, combien pèse t-il?

4)




Si le bloc indique qu'il est 7 onces plus lourd, combien pèse t-il?

5)



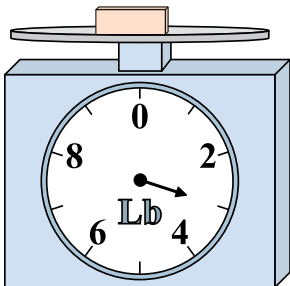
Si le bloc indique qu'il est 4 livres plus lourd, combien pèse t-il?

6)




Si vous avez 9 blocs qui font le même poids, combien de onces total pèsent tous les blocs?

7)




Si vous avez 10 blocs qui font le même poids, combien de livres total pèsent tous les blocs?

8)



Si le bloc indique qu'il est 5 onces plus léger, combien pèse t-il?

9)



Si le bloc indique qu'il est 6 livres plus léger, combien pèse t-il?

Réponses

1. 6

2. 8

3. 1

4. 21

5. 10

6. 108

7. 30

8. 9


9. 2



Utilisez la balance pour répondre à chaque question.


Réponses

1)



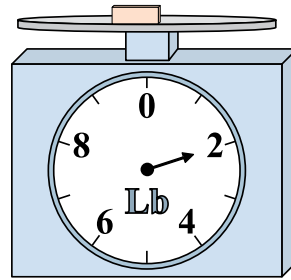
Si le bloc indique qu'il est 3 livres plus léger, combien pèse t-il?

2)



Si le bloc indique qu'il est 3 onces plus léger, combien pèse t-il?

3)



Si le bloc indique qu'il est 7 livres plus lourd, combien pèse t-il?

1. _____

2. _____

3. _____

4. _____

5. _____

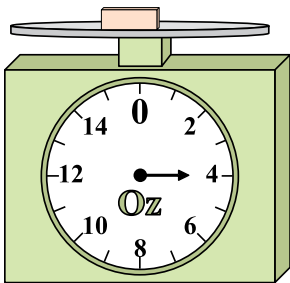
6. _____

7. _____

8. _____

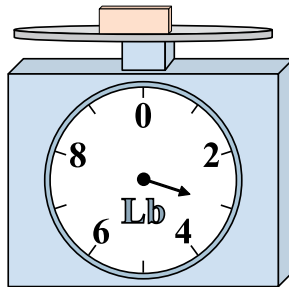
9. _____

4)




Quel est le poids (en onces)) d'un bloc?

5)



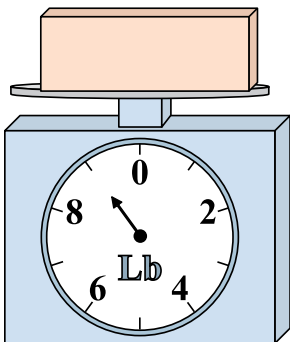
Si le bloc indique qu'il est 2 livres plus léger, combien pèse t-il?

6)




Quel est le poids (en onces)) d'un bloc?

7)




Si vous avez 9 blocs qui font le même poids, combien de livres total pèsent tous les blocs?

8)



Si vous avez 10 blocs qui font le même poids, combien de onces total pèsent tous les blocs?

9)




Si le bloc indique qu'il est 9 livres plus lourd, combien pèse t-il?




Utilisez la balance pour répondre à chaque question.

1)



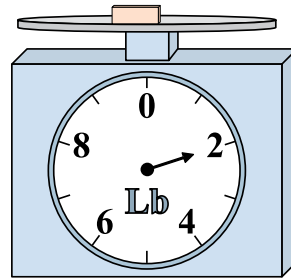
Si le bloc indique qu'il est 3 livres plus léger, combien pèse t-il?

2)



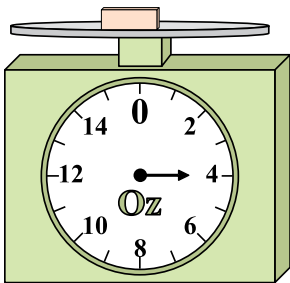
Si le bloc indique qu'il est 3 onces plus léger, combien pèse t-il?

3)



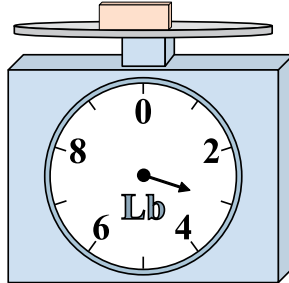
Si le bloc indique qu'il est 7 livres plus lourd, combien pèse t-il?

4)




Quel est le poids (en onces)) d'un bloc?

5)



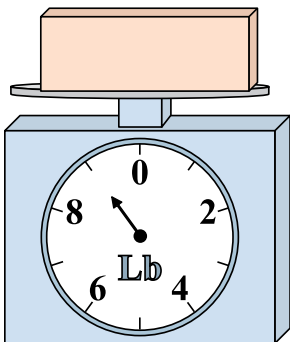
Si le bloc indique qu'il est 2 livres plus léger, combien pèse t-il?

6)




Quel est le poids (en onces)) d'un bloc?

7)




Si vous avez 9 blocs qui font le même poids, combien de livres total pèsent tous les blocs?

8)



Si vous avez 10 blocs qui font le même poids, combien de onces total pèsent tous les blocs?

9)



Si le bloc indique qu'il est 9 livres plus lourd, combien pèse t-il?

Réponses

1. 1

2. 3

3. 9

4. 4

5. 1

6. 13

7. 81

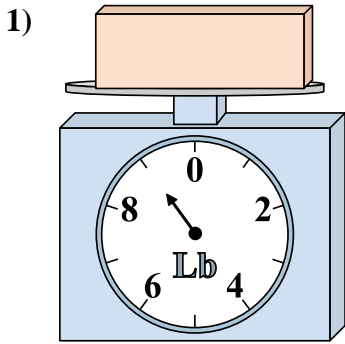
8. 70

9. 14

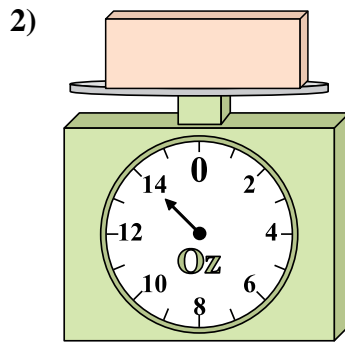


Utilisez la balance pour répondre à chaque question.

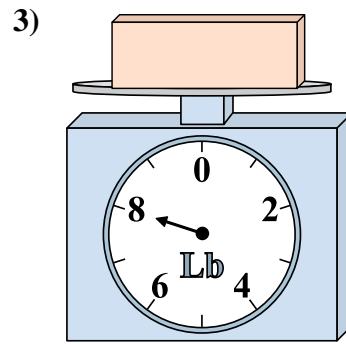
Réponses



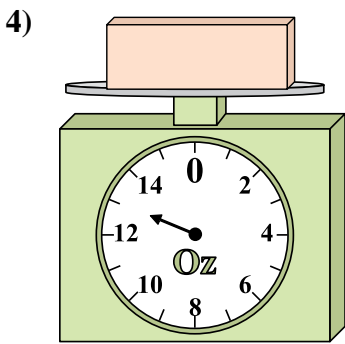
Quel est le poids (en livres) d'un bloc?



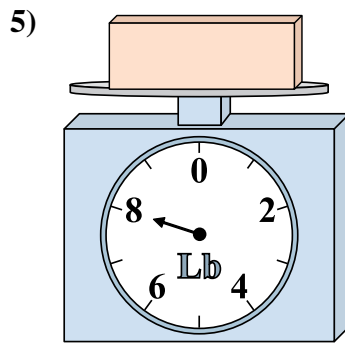
Si le bloc indique qu'il est 5 onces plus lourd, combien pèse t-il?



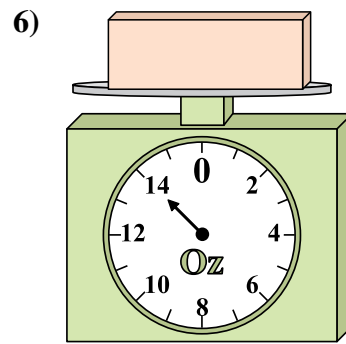
Si le bloc indique qu'il est 5 livres plus léger, combien pèse t-il?



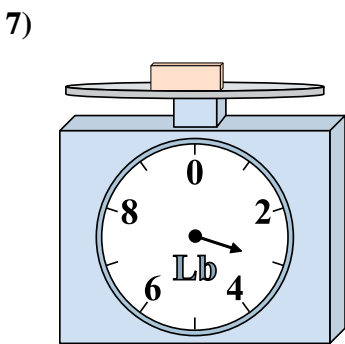
Si le bloc indique qu'il est 8 onces plus léger, combien pèse t-il?



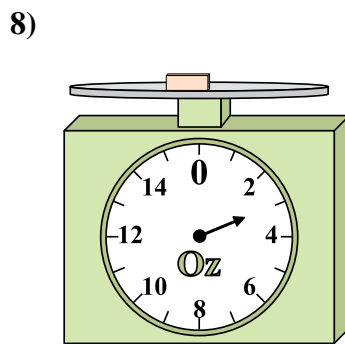
Si vous avez 10 blocs qui font le même poids, combien de livres total pèsent tous les blocs?



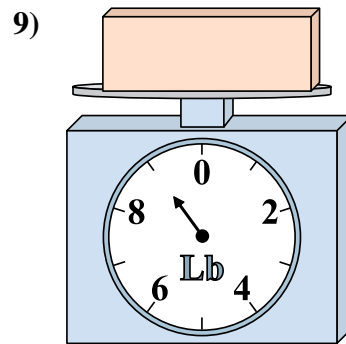
Si le bloc indique qu'il est 2 onces plus lourd, combien pèse t-il?



Si vous avez 9 blocs qui font le même poids, combien de livres total pèsent tous les blocs?



Si le bloc indique qu'il est 3 onces plus lourd, combien pèse t-il?

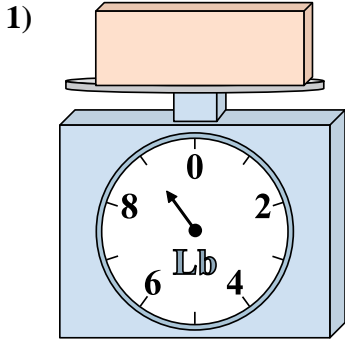


Quel est le poids (en livres) d'un bloc?

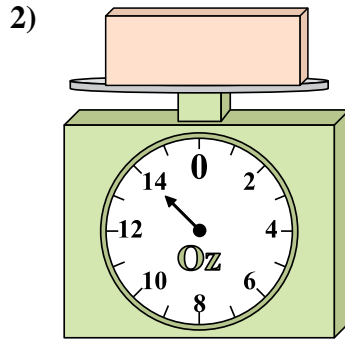
- 1. _____
- 2. _____
- 3. _____
- 4. _____
- 5. _____
- 6. _____
- 7. _____
- 8. _____
- 9. _____



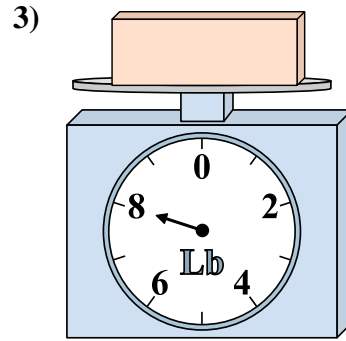
Utilisez la balance pour répondre à chaque question.



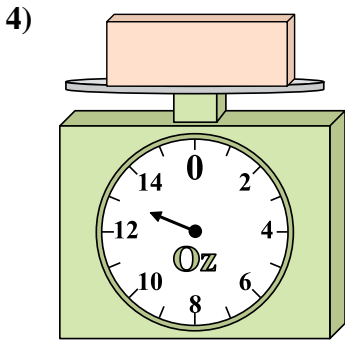
1) Quel est le poids (en livres) d'un bloc?



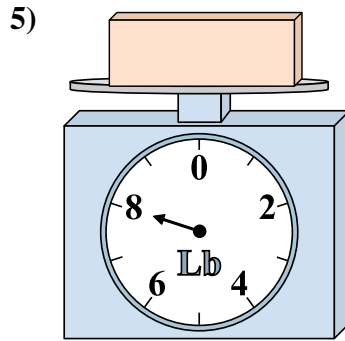
2) Si le bloc indique qu'il est 5 onces plus lourd, combien pèse t-il?



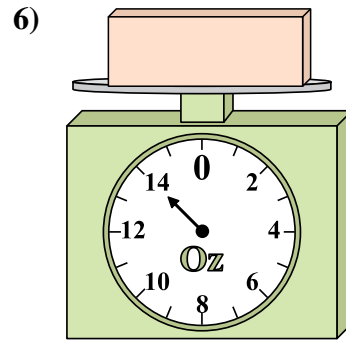
3) Si le bloc indique qu'il est 5 livres plus léger, combien pèse t-il?



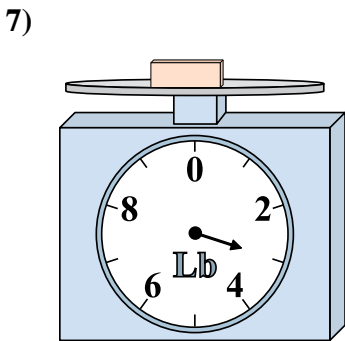
4) Si le bloc indique qu'il est 8 onces plus léger, combien pèse t-il?



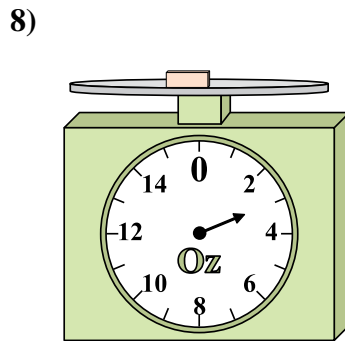
5) Si vous avez 10 blocs qui font le même poids, combien de livres total pèsent tous les blocs?



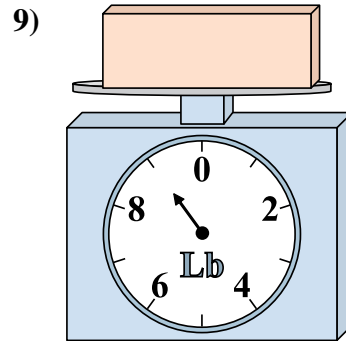
6) Si le bloc indique qu'il est 2 onces plus lourd, combien pèse t-il?



7) Si vous avez 9 blocs qui font le même poids, combien de livres total pèsent tous les blocs?



8) Si le bloc indique qu'il est 3 onces plus lourd, combien pèse t-il?



9) Quel est le poids (en livres) d'un bloc?

Réponses

- 1. 9
- 2. 19
- 3. 3
- 4. 5
- 5. 80
- 6. 16
- 7. 27
- 8. 6
- 9. 9