



Indiquez si l'angle est 'inférieur', 'supérieur' ou égal à 90°.

Réponses

Ex)



1)



2)



Ex. **égal**

1. _____

2. _____

3)



4)



5)



3. _____

4. _____

5. _____

6)



7)



8)



6. _____

7. _____

8. _____

9)



10)



11)

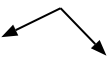


9. _____

10. _____

11. _____

12)



13)



14)



12. _____

13. _____

14. _____

15)



16)



17)



15. _____

16. _____

17. _____

18)



19)



20)



18. _____

19. _____

20. _____



Indiquez si l'angle est 'inférieur', 'supérieur' ou égal à 90°.

Ex)



1)



2)



3)



4)



5)



6)



7)



8)



9)



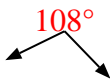
10)



11)



12)



13)



14)



15)



16)



17)



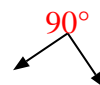
18)



19)



20)

**Réponses**

Ex.

égal

1.

supérieur

2.

inférieur

3.

inférieur

4.

supérieur

5.

supérieur

6.

supérieur

7.

égal

8.

inférieur

9.

inférieur

10.

inférieur

11.

égal

12.

supérieur

13.

inférieur

14.

inférieur

15.

égal

16.

supérieur

17.

supérieur

18.

égal

19.

égal

20.

égal