
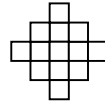




Utilisez les modèles de grille pour répondre à chaque question. Chaque $\square = 1$ unité carrée.

Réponses

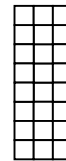
1) _____



A. Si le motif ci-dessus continue, quelle sera l'aire de la grille 6 ?

B. Si le motif ci-dessus continue, quelle sera l'aire de la grille 7 ?

2) _____



A. Si le motif ci-dessus continue, quelle sera l'aire de la grille 5 ?

B. Si le motif ci-dessus continue, quelle sera l'aire de la grille 8 ?

3) _____



A. Si le motif ci-dessus continue, quelle sera l'aire de la grille 6 ?

B. Si le motif ci-dessus continue, quelle sera l'aire de la grille 8 ?

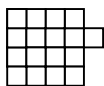
4) _____



A. Si le motif ci-dessus continue, quelle sera l'aire de la grille 7 ?

B. Si le motif ci-dessus continue, quelle sera l'aire de la grille 8 ?

5) _____



A. Si le motif ci-dessus continue, quelle sera l'aire de la grille 5 ?

B. Si le motif ci-dessus continue, quelle sera l'aire de la grille 8 ?

1. _____

2. _____

3. _____

4. _____

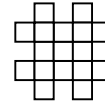
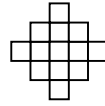
5. _____



Utilisez les modèles de grille pour répondre à chaque question. Chaque $\square = 1$ unité carrée.

Réponses

1) 1 2 3 4



1. **25** **29**

2. **30** **48**

3. **16** **22**

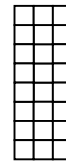
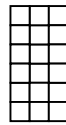
4. **15** **17**

5. **9** **3**

A. Si le motif ci-dessus continue, quelle sera l'aire de la grille 6 ?

B. Si le motif ci-dessus continue, quelle sera l'aire de la grille 7 ?

2) 1 2 3 4



A. Si le motif ci-dessus continue, quelle sera l'aire de la grille 5 ?

B. Si le motif ci-dessus continue, quelle sera l'aire de la grille 8 ?

3) 1 2 3 4



A. Si le motif ci-dessus continue, quelle sera l'aire de la grille 6 ?

B. Si le motif ci-dessus continue, quelle sera l'aire de la grille 8 ?

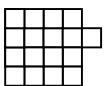
4) 1 2 3 4



A. Si le motif ci-dessus continue, quelle sera l'aire de la grille 7 ?

B. Si le motif ci-dessus continue, quelle sera l'aire de la grille 8 ?

5) 1 2 3 4



A. Si le motif ci-dessus continue, quelle sera l'aire de la grille 5 ?

B. Si le motif ci-dessus continue, quelle sera l'aire de la grille 8 ?