



Utilisez les modèles de grille pour répondre à chaque question. Chaque SVGREPLACE = 1 unité carrée.

**Réponses**


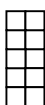
1) \_\_\_\_\_

1

2

3

4



A. Si le schéma ci-dessus se poursuit, quelle sera l'aire de la grille 5 ?

B. Si le schéma ci-dessus se poursuit, quelle sera l'aire de la grille 8 ?

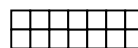
2) \_\_\_\_\_

1

2

3

4



A. Si le schéma ci-dessus se poursuit, quelle sera l'aire de la grille 5 ?

B. Si le schéma ci-dessus se poursuit, quelle sera l'aire de la grille 8 ?

3) \_\_\_\_\_

1

2

3

4



A. Si le schéma ci-dessus se poursuit, quelle sera l'aire de la grille 5 ?

B. Si le schéma ci-dessus se poursuit, quelle sera l'aire de la grille 8 ?

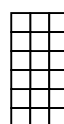
4) \_\_\_\_\_

1

2

3

4



A. Si le schéma ci-dessus se poursuit, quelle sera l'aire de la grille 6 ?

B. Si le schéma ci-dessus se poursuit, quelle sera l'aire de la grille 8 ?


5) \_\_\_\_\_

1

2

3

4



A. Si le schéma ci-dessus se poursuit, quelle sera l'aire de la grille 6 ?

B. Si le schéma ci-dessus se poursuit, quelle sera l'aire de la grille 7 ?

1. \_\_\_\_\_
2. \_\_\_\_\_
3. \_\_\_\_\_
4. \_\_\_\_\_
5. \_\_\_\_\_



Utilisez les modèles de grille pour répondre à chaque question. Chaque SVGREPLACE = 1 unité carrée.

**Réponses**


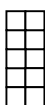
1) \_\_\_\_\_

1

2

3

4



A. Si le schéma ci-dessus se poursuit, quelle sera l'aire de la grille 5 ?

B. Si le schéma ci-dessus se poursuit, quelle sera l'aire de la grille 8 ?

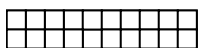
2) \_\_\_\_\_

1

2

3

4



A. Si le schéma ci-dessus se poursuit, quelle sera l'aire de la grille 5 ?

B. Si le schéma ci-dessus se poursuit, quelle sera l'aire de la grille 8 ?

3) \_\_\_\_\_

1

2

3

4



A. Si le schéma ci-dessus se poursuit, quelle sera l'aire de la grille 5 ?

B. Si le schéma ci-dessus se poursuit, quelle sera l'aire de la grille 8 ?

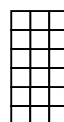
4) \_\_\_\_\_

1

2

3

4



A. Si le schéma ci-dessus se poursuit, quelle sera l'aire de la grille 6 ?

B. Si le schéma ci-dessus se poursuit, quelle sera l'aire de la grille 8 ?


5) \_\_\_\_\_

1

2

3

4



A. Si le schéma ci-dessus se poursuit, quelle sera l'aire de la grille 6 ?

B. Si le schéma ci-dessus se poursuit, quelle sera l'aire de la grille 7 ?

1. 18    302. 12    63. 11    174. 24    305. 36    42