





Utilisez les diagrammes ci-dessous pour créer un rectangle avec l'aire/le périmètre indiqué. Chaque SVGREPLACE = 1 unité(u). Répondez avec la longueur et la hauteur. Les réponses varieront.


1) Périmètre des unités 34.




2) Superficie des unités carrées 6.




3) Périmètre des unités 8.




4) Superficie des unités carrées 30.




5) Superficie des unités carrées 18.




6) Périmètre des unités 16.




7) Superficie des unités carrées 27.




8) Superficie des unités carrées 7.




9) Superficie des unités carrées 56.




10) Périmètre des unités 10.



11) Superficie des unités carrées 48.



12) Périmètre des unités 22.

**Réponses**

1. _____ =34u

2. _____ =6u²

3. _____ =8u

4. _____ =30u²5. _____ =18u²

6. _____ =16u

7. _____ =27u²8. _____ =7u²9. _____ =56u²

10. _____ =10u


11. _____ =48u²

12. _____ =22u




Utilisez les diagrammes ci-dessous pour créer un rectangle avec l'aire/le périmètre indiqué. Chaque SVGREPLACE = 1 unité(u). Répondez avec la longueur et la hauteur. Les réponses varieront.


1) Périmètre des unités 34.




2) Superficie des unités carrées 6.




3) Périmètre des unités 8.




4) Superficie des unités carrées 30.




5) Superficie des unités carrées 18.




6) Périmètre des unités 16.




7) Superficie des unités carrées 27.




8) Superficie des unités carrées 7.




9) Superficie des unités carrées 56.




10) Périmètre des unités 10.



11) Superficie des unités carrées 48.



12) Périmètre des unités 22.

**Réponses**

1. _____ =34u
 2. _____ =6u²
 3. _____ =8u
 4. _____ =30u²
 5. _____ =18u²
 6. _____ =16u
 7. _____ =27u²
 8. _____ =7u²
 9. _____ =56u²
 10. _____ =10u
 11. _____ =48u²
 12. _____ =22u