



Résoudre chaque problème.

- 1) Le rectangle ci-dessous a les dimensions 2×6 . Créez un rectangle avec la même aire, mais un périmètre différent.




- 2) Le rectangle ci-dessous a les dimensions 2×2 . Créez un rectangle avec la même aire, mais un périmètre différent.



- 3) Le rectangle ci-dessous a les dimensions 2×3 . Créez un rectangle avec la même aire, mais un périmètre différent.



- 4) Le rectangle ci-dessous a les dimensions 5×8 . Créez un rectangle avec la même aire, mais un périmètre différent.



- 5) Le rectangle ci-dessous a les dimensions 3×8 . Créez un rectangle avec la même aire, mais un périmètre différent.



Réponses

1. _____

2. _____

3. _____


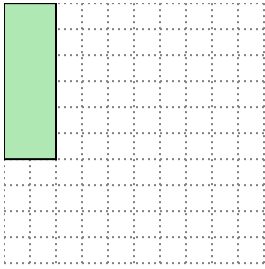
4. _____

5. _____




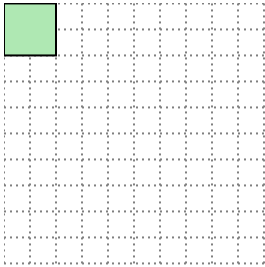
Résoudre chaque problème.

- 1) Le rectangle ci-dessous a les dimensions 2×6 . Créez un rectangle avec la même aire, mais un périmètre différent.




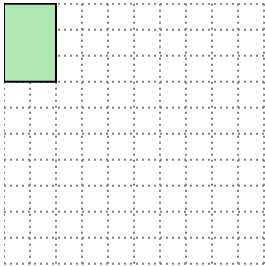
3×4

- 2) Le rectangle ci-dessous a les dimensions 2×2 . Créez un rectangle avec la même aire, mais un périmètre différent.




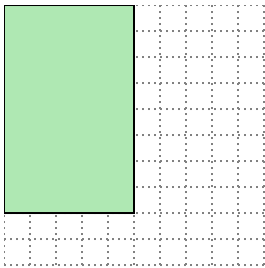
1×4

- 3) Le rectangle ci-dessous a les dimensions 2×3 . Créez un rectangle avec la même aire, mais un périmètre différent.




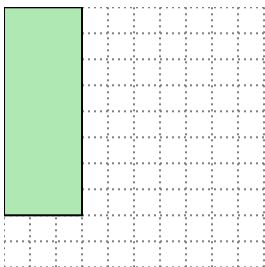
1×6

- 4) Le rectangle ci-dessous a les dimensions 5×8 . Créez un rectangle avec la même aire, mais un périmètre différent.



4×10

- 5) Le rectangle ci-dessous a les dimensions 3×8 . Créez un rectangle avec la même aire, mais un périmètre différent.



4×6

Réponses

1. 3×4

2. 1×4

3. 1×6

4. 4×10

5. 4×6