



**Déterminez quelle lettre représente le mieux le volume.**

**Réponses**

**Xícara**

Una taza se refiere a la cantidad de leche que se obtiene de la cafetería.



**Pinta**

Uma pinta é aproximadamente a quantidade que você recebe em um copo grande.  
1 pinta = 2 xícaras



**Quarto**

Um quarto é mais ou menos a quantidade que você consegue em um recipiente grande de leite.  
1 cuarto = 2 pintas



**Galón**

Un galón es la cantidad que viene en un recipiente de plástico grande.  
1 galón = 4 cuartos



1. \_\_\_\_\_
2. \_\_\_\_\_
3. \_\_\_\_\_
4. \_\_\_\_\_
5. \_\_\_\_\_
6. \_\_\_\_\_
7. \_\_\_\_\_
8. \_\_\_\_\_
9. \_\_\_\_\_


1)



Coller dans une bouteille

- A. 1 pint
- B. 3 gallons
- C. 2 quarts
- D. 0.5 tasses


2)



Sable une brouette tient

- A. 8 quarts
- B. 45 gallons
- C. 4 tasses
- D. 1000 grammes

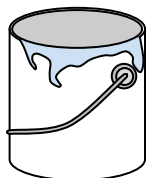
3)



Glacière

- A. 16 tasses
- B. 2 quarts
- C. 100 quarts
- D. 5 gallons


4)



Peindre dans un pot

- A. 3 fluid ounces
- B. 1 tasse
- C. 0.5 pints
- D. 1 gallon

5)



La pipette tient

- A. 3 gallons
- B. 1 pint
- C. moins que 1 tasse
- D. 1 tasse

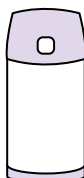
6)



Dentifrice en tube

- A. 0.5 tasses
- B. 5 grammes
- C. 5 quarts
- D. 0.5 gallons

7)



Liquide dans un thermos

- A. 1 gallon
- B. 1 tasse
- C. 4 quarts
- D. 2 livres


8)



Sable dans un seau

- A. 32 gallons
- B. 1 tasse
- C. 1 gallon
- D. 7 fluid ounces

9)



Baignoire

- A. 20 pints
- B. 45 gallons
- C. 40 tasses
- D. 8 quarts



**Déterminez quelle lettre représente le mieux le volume.**

**Réponses**

**Xícara**

Una taza se refiere a la cantidad de leche que se obtiene de la cafetería.



**Pinta**

Uma pinta é aproximadamente a quantidade que você recebe em um copo grande.  
1 pinta = 2 xícaras



**Quarto**

Um quarto é mais ou menos a quantidade que você consegue em um recipiente grande de leite.  
1 cuarto = 2 pintas



**Galón**

Un galón es la cantidad que viene en un recipiente de plástico grande.  
1 galón = 4 cuartos




1)



Coller dans une bouteille

- A. 1 pint
- B. 3 gallons
- C. 2 quarts
- D. 0.5 tasses


2)



Sable une brouette tient

- A. 8 quarts
- B. 45 gallons
- C. 4 tasses
- D. 1000 grammes

3)



Glacière

- A. 16 tasses
- B. 2 quarts
- C. 100 quarts
- D. 5 gallons


4)



Peindre dans un pot

- A. 3 fluid ounces
- B. 1 tasse
- C. 0.5 pints
- D. 1 gallon

5)



La pipette tient

- A. 3 gallons
- B. 1 pint
- C. moins que 1 tasse
- D. 1 tasse

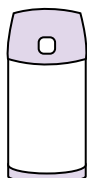
6)



Dentifrice en tube

- A. 0.5 tasses
- B. 5 grammes
- C. 5 quarts
- D. 0.5 gallons

7)



Liquide dans un thermos

- A. 1 gallon
- B. 1 tasse
- C. 4 quarts
- D. 2 livres

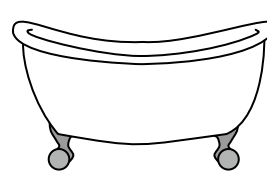
8)



Sable dans un seau

- A. 32 gallons
- B. 1 tasse
- C. 1 gallon
- D. 7 fluid ounces

9)



Baignoire

- A. 20 pints
- B. 45 gallons
- C. 40 tasses
- D. 8 quarts

- 1.   **D**
- 2.   **B**
- 3.   **C**
- 4.   **D**
- 5.   **C**
- 6.   **A**
- 7.   **B**
- 8.   **C**
- 9.   **B**