



**Déterminez quelle lettre représente le mieux le volume.**

**Réponses**

**Xícara**

Una taza se refiere a la cantidad de leche que se obtiene de la cafetería.



**Pinta**

Uma pinta é aproximadamente a quantidade que você recebe em um copo grande.  
1 pinta = 2 xícaras



**Quarto**

Um quarto é mais ou menos a quantidade que você consegue em um recipiente grande de leite.  
1 cuarto = 2 pintas




**Galón**

Un galón es la cantidad que viene en un recipiente de plástico grande.  
1 galón = 4 cuartos



1. \_\_\_\_\_
2. \_\_\_\_\_
3. \_\_\_\_\_
4. \_\_\_\_\_
5. \_\_\_\_\_
6. \_\_\_\_\_
7. \_\_\_\_\_
8. \_\_\_\_\_
9. \_\_\_\_\_


1)



L'eau qu'un baril contient

- A. 20 tasses
- B. 10 pintas
- C. 3 inches
- D. 50 gallons


2)



Réservoir d'essence dans une voiture

- A. 3 quarts
- B. 4 pintas
- C. 15 gallons
- D. 16 tasses

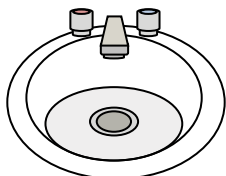
3)



Sable une brouette tient

- A. 8 quarts
- B. 45 gallons
- C. 1000 grammes
- D. 4 tasses

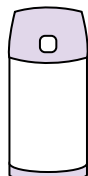
4)



Eau dans le lavabo de la salle de bain

- A. 2 fluid ounces
- B. 2 gallons
- C. 2 tasses
- D. 2 pintas

5)



Liquide dans un thermos

- A. 1 tasse
- B. 1 gallon
- C. 2 livres
- D. 4 quarts


6)



Liquide qu'une cuillère contient

- A. 1 tasse
- B. Less than a cup
- C. 1 pint
- D. 1 quart

7)



Liquide dans un pichet

- A. 1 pint
- B. 2 quarts
- C. 2 tasses
- D. 8 gallons

8)



Encre dans un stylo

- A. 1 gallon
- B. 2 pintas
- C. moins que 1 tasse
- D. 1 quart

9)



Soda en canette

- A. 4 tasses
- B. 1.5 tasses
- C. 4 pintas
- D. 1 gallon



**Déterminez quelle lettre représente le mieux le volume.**

**Réponses**

**Xícara**

Una taza se refiere a la cantidad de leche que se obtiene de la cafetería.



**Pinta**

Uma pinta é aproximadamente a quantidade que você recebe em um copo grande.  
1 pinta = 2 xícaras



**Quarto**

Um quarto é mais ou menos a quantidade que você consegue em um recipiente grande de leite.  
1 cuarto = 2 pintas




**Galón**

Un galón es la cantidad que viene en un recipiente de plástico grande.  
1 galón = 4 cuartos



1)



L'eau qu'un baril contient

- A. 20 tasses
- B. 10 pintas
- C. 3 inches
- D. 50 gallons


2)



Réservoir d'essence dans une voiture

- A. 3 quarts
- B. 4 pintas
- C. 15 gallons
- D. 16 tasses

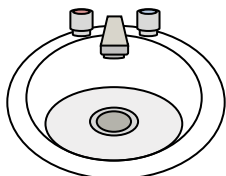
3)



Sable une brouette tient

- A. 8 quarts
- B. 45 gallons
- C. 1000 grammes
- D. 4 tasses

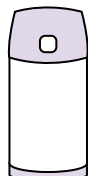
4)



Eau dans le lavabo de la salle de bain

- A. 2 fluid ounces
- B. 2 gallons
- C. 2 tasses
- D. 2 pintas

5)



Liquide dans un thermos

- A. 1 tasse
- B. 1 gallon
- C. 2 livres
- D. 4 quarts


6)



Liquide qu'une cuillère contient

- A. 1 tasse
- B. Less than a cup
- C. 1 pint
- D. 1 quart

7)



Liquide dans un pichet

- A. 1 pint
- B. 2 quarts
- C. 2 tasses
- D. 8 gallons

8)



Encre dans un stylo

- A. 1 gallon
- B. 2 pintas
- C. moins que 1 tasse
- D. 1 quart

9)



Soda en canette

- A. 4 tasses
- B. 1.5 tasses
- C. 4 pintas
- D. 1 gallon

- 1.     **D**
- 2.     **C**
- 3.     **B**
- 4.     **B**
- 5.     **A**
- 6.     **B**
- 7.     **B**
- 8.     **C**
- 9.     **B**