



Déterminez quelle lettre représente le mieux le volume.

Réponses

**Milliliter**

Un mililitro equivale a unas 20 gotas de agua.



**Liter**

Muchas botellas grandes de refrescos tienen 1 o 2 litros.

1 Liter = 1,000 Milliliters



1. \_\_\_\_\_
2. \_\_\_\_\_
3. \_\_\_\_\_
4. \_\_\_\_\_
5. \_\_\_\_\_
6. \_\_\_\_\_
7. \_\_\_\_\_
8. \_\_\_\_\_
9. \_\_\_\_\_

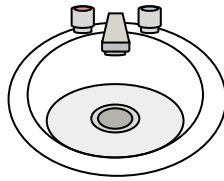
1)



Coller dans une bouteille

- A. 5 Litres
- B. 120 Millilitres
- C. 2 Litres
- D. 3 Millilitres

2)



Eau dans le lavabo de la salle de bain

- A. 10 Millilitres
- B. 7.5 Litres
- C. 500 Millilitres
- D. 2 Litres


3)



Shampooing en bouteille

- A. 20 Litres
- B. 1 milliliter
- C. 1.5 Litres
- D. 20 Millilitres

4)



Glacière

- A. 20 Millilitres
- B. 100 Millilitres
- C. 200 Millilitres
- D. 100 Litres


5)



Liquide dans une tasse de thé

- A. 250 Millilitres
- B. 2 Litres
- C. 2 Millilitres
- D. 5 Litres


6)



La pipette tient

- A. 1000 Millilitres
- B. 2 Millilitres
- C. 500 Millilitres
- D. 2 Litres

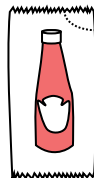
7)



Sable une brouette tient

- A. 50 Millilitres
- B. 3 Litres
- C. 170 Litres
- D. 500 Millilitres


8)



Ketchup dans un paquet

- A. 500 Millilitres
- B. 1 milliliter
- C. 1 Litre
- D. 50 Millilitres

9)



Réservoir d'essence dans une voiture

- A. 60 Litres
- B. 70 Millilitres
- C. 15 Millilitres



Déterminez quelle lettre représente le mieux le volume.

**Milliliter**

Un mililitro equivale a unas 20 gotas de agua.



**Liter**

Muchas botellas grandes de refrescos tienen 1 o 2 litros.

1 Liter = 1,000 Milliliters



**Réponses**

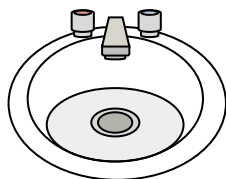
1)



Coller dans une bouteille

- A. 5 Litres
- B. 120 Millilitres
- C. 2 Litres
- D. 3 Millilitres

2)



Eau dans le lavabo de la salle de bain

- A. 10 Millilitres
- B. 7.5 Litres
- C. 500 Millilitres
- D. 2 Litres


3)



Shampooing en bouteille

- A. 20 Litres
- B. 1 milliliter
- C. 1.5 Litres
- D. 20 Millilitres

4)



Glacière

- A. 20 Millilitres
- B. 100 Millilitres
- C. 200 Millilitres
- D. 100 Litres


5)



Liquide dans une tasse de thé

- A. 250 Millilitres
- B. 2 Litres
- C. 2 Millilitres
- D. 5 Litres


6)



La pipette tient

- A. 1000 Millilitres
- B. 2 Millilitres
- C. 500 Millilitres
- D. 2 Litres

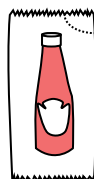
7)



Sable une brouette tient

- A. 50 Millilitres
- B. 3 Litres
- C. 170 Litres
- D. 500 Millilitres


8)



Ketchup dans un paquet

- A. 500 Millilitres
- B. 1 milliliter
- C. 1 Litre
- D. 50 Millilitres

9)



Réservoir d'essence dans une voiture

- A. 60 Litres
- B. 70 Millilitres
- C. 15 Millilitres

- 1.   **B**
- 2.   **B**
- 3.   **C**
- 4.   **D**
- 5.   **A**
- 6.   **B**
- 7.   **C**
- 8.   **B**
- 9.   **A**