




Déterminez quelle lettre représente le mieux le volume.

Réponses

**Milliliter**

Un mililitro equivale a unas 20 gotas de agua.



**Liter**

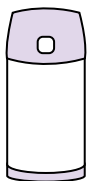
Muchas botellas grandes de refrescos tienen 1 o 2 litros.

1 Liter = 1,000 Milliliters



1. \_\_\_\_\_
2. \_\_\_\_\_
3. \_\_\_\_\_
4. \_\_\_\_\_
5. \_\_\_\_\_
6. \_\_\_\_\_
7. \_\_\_\_\_
8. \_\_\_\_\_
9. \_\_\_\_\_

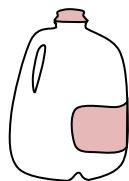
1)



Liquide dans un thermos

- A. 20 Litres
- B. 3 Litres
- C. 440 Millilitres
- D. 20 Millilitres

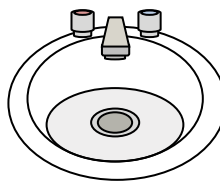
2)



Gallon de lait

- A. 1 Litre
- B. 3.75 Litres
- C. 50 Millilitres
- D. 750 Millilitres

3)



Eau dans le lavabo de la salle de bain

- A. 500 Millilitres
- B. 10 Millilitres
- C. 7.5 Litres
- D. 2 Litres

4)



Tasse à mesurer

- A. 50 Millilitres
- B. 237 Millilitres
- C. 1 Litre
- D. 237 Litres

5)



Soda en canette

- A. 2 Litres
- B. 350 Millilitres
- C. 350 Litres
- D. 2 Millilitres

6)



De l'eau pour une plante d'intérieur

- A. 2 Millilitres
- B. 80 Litres
- C. 500 Millilitres
- D. 3 Litres

7)



Cafétéria Lait

- A. 237 Litres
- B. 1 Litre
- C. 237 Millilitres
- D. 2 Litres

8)



Encre dans un stylo

- A. 2 Millilitres
- B. 0.25 Millilitres
- C. 1 Litre
- D. 400 Millilitres

9)



Liquide dans une tasse de thé

- A. 2 Millilitres
- B. 250 Millilitres
- C. 2 Litres
- D. 5 Litres



Déterminez quelle lettre représente le mieux le volume.

Réponses

**Milliliter**

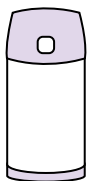
Un millilitro equivale a unas 20 gotas de agua.

Muchas botellas grandes de refrescos tienen 1 o 2 litros.

1 Liter = 1,000 Milliliters



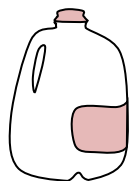
1)



Liquide dans un thermos

- A. 20 Litres
- B. 3 Litres
- C. 440 Millilitres
- D. 20 Millilitres

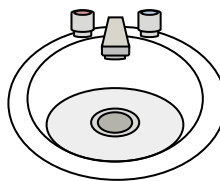
2)



Gallon de lait

- A. 1 Litre
- B. 3.75 Litres
- C. 50 Millilitres
- D. 750 Millilitres

3)



Eau dans le lavabo de la salle de bain

- A. 500 Millilitres
- B. 10 Millilitres
- C. 7.5 Litres
- D. 2 Litres

4)



Tasse à mesurer

- A. 50 Millilitres
- B. 237 Millilitres
- C. 1 Litre
- D. 237 Litres

5)



Soda en canette

- A. 2 Litres
- B. 350 Millilitres
- C. 350 Litres
- D. 2 Millilitres

6)



De l'eau pour une plante d'intérieur

- A. 2 Millilitres
- B. 80 Litres
- C. 500 Millilitres
- D. 3 Litres

7)



Cafétéria Lait

- A. 237 Litres
- B. 1 Litre
- C. 237 Millilitres
- D. 2 Litres

8)



Encre dans un stylo

- A. 2 Millilitres
- B. 0.25 Millilitres
- C. 1 Litre
- D. 400 Millilitres

9)



Liquide dans une tasse de thé

- A. 2 Millilitres
- B. 250 Millilitres
- C. 2 Litres
- D. 5 Litres

- 1.   **C**
- 2.   **B**
- 3.   **C**
- 4.   **B**
- 5.   **B**
- 6.   **C**
- 7.   **C**
- 8.   **B**
- 9.   **B**