




Déterminez quelle lettre représente le mieux le volume.

Réponses

**Milliliter**

Un mililitro equivale a unas 20 gotas de agua.



**Liter**

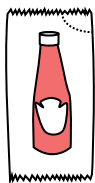
Muchas botellas grandes de refrescos tienen 1 o 2 litros.

1 Liter = 1,000 Milliliters



1. \_\_\_\_\_
2. \_\_\_\_\_
3. \_\_\_\_\_
4. \_\_\_\_\_
5. \_\_\_\_\_
6. \_\_\_\_\_
7. \_\_\_\_\_
8. \_\_\_\_\_
9. \_\_\_\_\_

1)



Ketchup dans un paquet

- A. 1 milliliter
- B. 50 Millilitres
- C. 1 Litre
- D. 500 Millilitres

2)



Coller dans une bouteille

- A. 120 Millilitres
- B. 3 Millilitres
- C. 2 Litres
- D. 5 Litres

3)



Farine dans une poêle de brownies

- A. 3 Litres
- B. 10 Millilitres
- C. 16 Litres
- D. 0.5 Litres

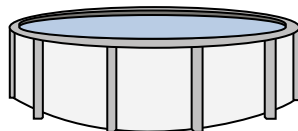
4)



Sable dans un seau

- A. 1 milliliter
- B. 20 Litres
- C. 4 Litres
- D. 4 Millilitres

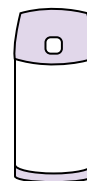
5)



De l'eau dans une piscine

- A. 12000 Millilitres
- B. 800 Litres
- C. 12000 Litres
- D. 800 Millilitres


6)



Liquide dans un thermos

- A. 440 Millilitres
- B. 20 Litres
- C. 3 Litres
- D. 20 Millilitres


7)



Réservoir d'essence dans une voiture

- A. 15 Millilitres
- B. 60 Litres
- C. 3 Litres

8)



Sable une brouette tient

- A. 50 Millilitres
- B. 170 Litres
- C. 500 Millilitres
- D. 3 Litres

9)



Soda en canette

- A. 350 Litres
- B. 2 Litres
- C. 2 Millilitres
- D. 350 Millilitres



Déterminez quelle lettre représente le mieux le volume.

**Milliliter**

Un mililitro equivale a unas 20 gotas de agua.



**Liter**

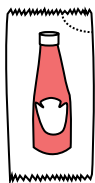
Muchas botellas grandes de refrescos tienen 1 o 2 litros.

1 Liter = 1,000 Milliliters



**Réponses**

1)



Ketchup dans un paquet

- A. 1 milliliter
- B. 50 Millilitres
- C. 1 Litre
- D. 500 Millilitres

2)



Coller dans une bouteille

- A. 120 Millilitres
- B. 3 Millilitres
- C. 2 Litres
- D. 5 Litres

3)



Farine dans une poêle de brownies

- A. 3 Litres
- B. 10 Millilitres
- C. 16 Litres
- D. 0.5 Litres

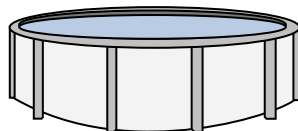
4)



Sable dans un seau

- A. 1 milliliter
- B. 20 Litres
- C. 4 Litres
- D. 4 Millilitres

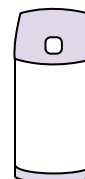
5)



De l'eau dans une piscine

- A. 12000 Millilitres
- B. 800 Litres
- C. 12000 Litres
- D. 800 Millilitres


6)



Liquide dans un thermos

- A. 440 Millilitres
- B. 20 Litres
- C. 3 Litres
- D. 20 Millilitres


7)



Réservoir d'essence dans une voiture

- A. 15 Millilitres
- B. 60 Litres
- C. 3 Litres

8)



Sable une brouette tient

- A. 50 Millilitres
- B. 170 Litres
- C. 500 Millilitres
- D. 3 Litres

9)



Soda en canette

- A. 350 Litres
- B. 2 Litres
- C. 2 Millilitres
- D. 350 Millilitres

- 1.   **A**
- 2.   **A**
- 3.   **D**
- 4.   **C**
- 5.   **C**
- 6.   **A**
- 7.   **B**
- 8.   **B**
- 9.   **D**