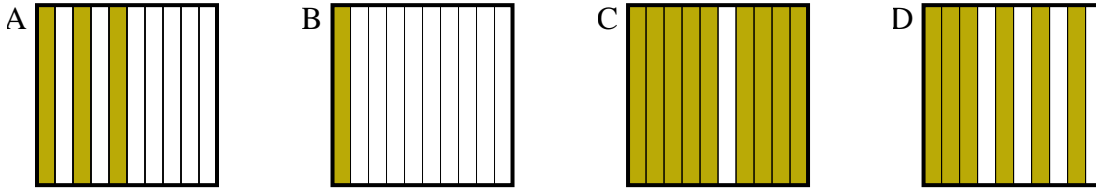




Choisir la réponse la plus appropriée.

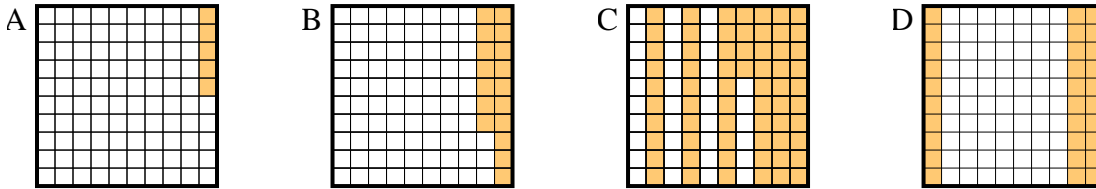
Réponses

1) Quelle grille de 10×1 cases, où le nombre de cases colorées permette, lorsqu'il est ajouté à 0,9, donne un résultat de 1,00?



1. _____

2) Quelle grille de 10×10 cases, où le nombre de cases colorées permette, lorsqu'il est ajouté à 0,7, donne un résultat de 1,00?



2. _____

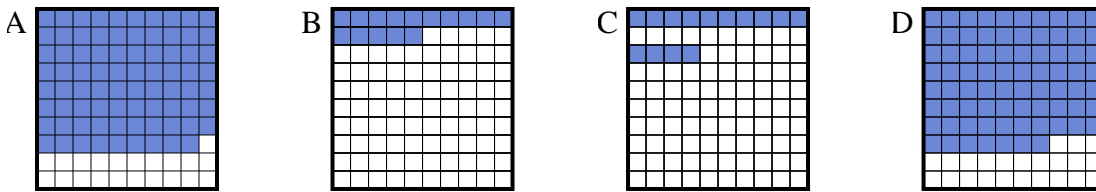
3. _____

4. _____

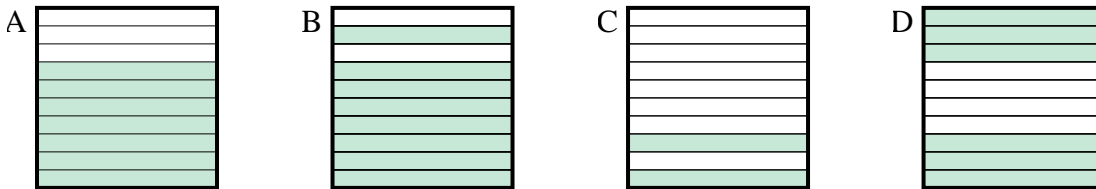
5. _____

6. _____

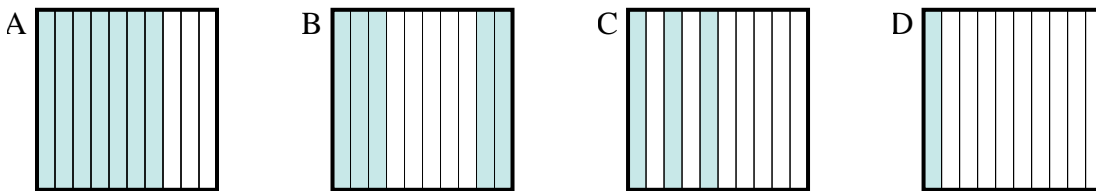
3) Quelle grille de 10×10 cases, où le nombre de cases colorées permette, lorsqu'il est ajouté à 0,21, donne un résultat de 1,00?



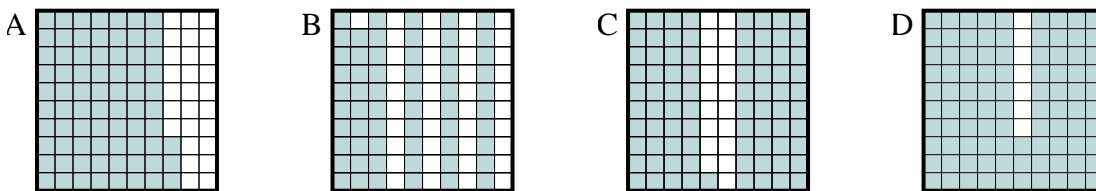
4) Quelle grille de 10×1 cases, où le nombre de cases colorées permette, lorsqu'il est ajouté à 0,3, donne un résultat de 1,00?



5) Quelle grille de 10×1 cases, où le nombre de cases colorées permette, lorsqu'il est ajouté à 0,5, donne un résultat de 1,00?



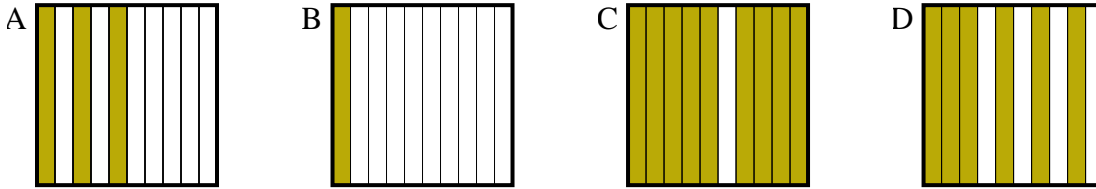
6) Quelle grille de 10×10 cases, où le nombre de cases colorées permette, lorsqu'il est ajouté à 0,07, donne un résultat de 1,00?



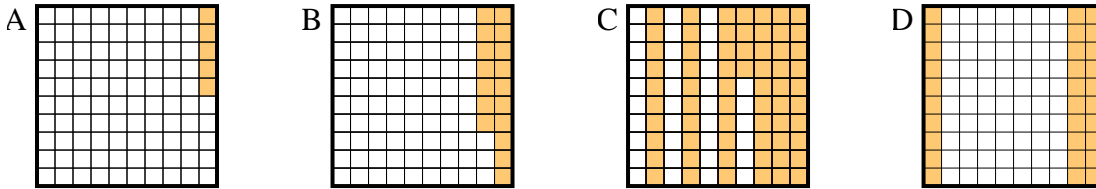


Choisir la réponse la plus appropriée.

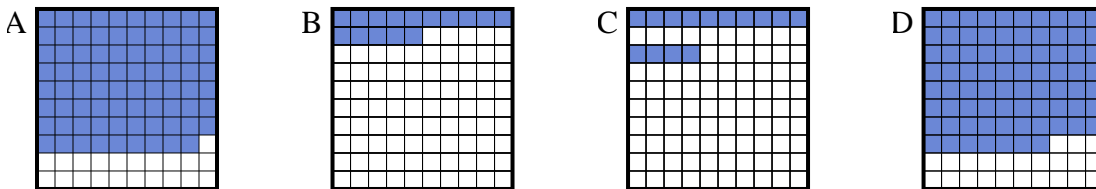
1) Quelle grille de 10×1 cases, où le nombre de cases colorées permette, lorsqu'il est ajouté à 0,9, donne un résultat de 1,00?



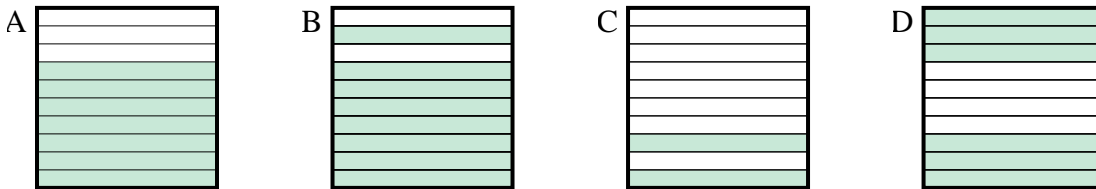
2) Quelle grille de 10×10 cases, où le nombre de cases colorées permette, lorsqu'il est ajouté à 0,7, donne un résultat de 1,00?



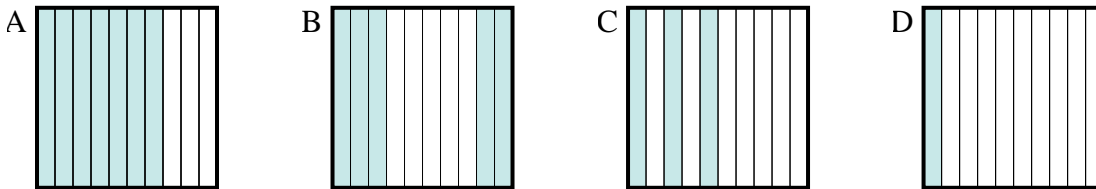
3) Quelle grille de 10×10 cases, où le nombre de cases colorées permette, lorsqu'il est ajouté à 0,21, donne un résultat de 1,00?



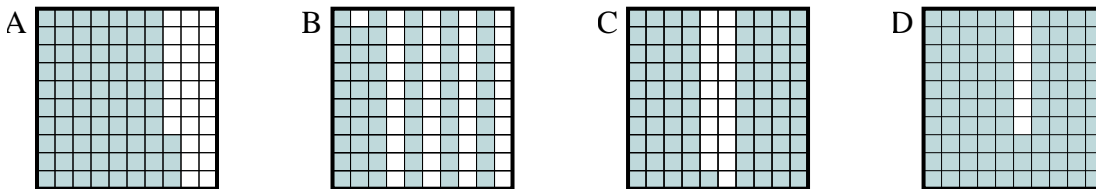
4) Quelle grille de 10×1 cases, où le nombre de cases colorées permette, lorsqu'il est ajouté à 0,3, donne un résultat de 1,00?



5) Quelle grille de 10×1 cases, où le nombre de cases colorées permette, lorsqu'il est ajouté à 0,5, donne un résultat de 1,00?



6) Quelle grille de 10×10 cases, où le nombre de cases colorées permette, lorsqu'il est ajouté à 0,07, donne un résultat de 1,00?



Réponses

- 1. **B**
- 2. **D**
- 3. **A**
- 4. **A**
- 5. **B**
- 6. **D**