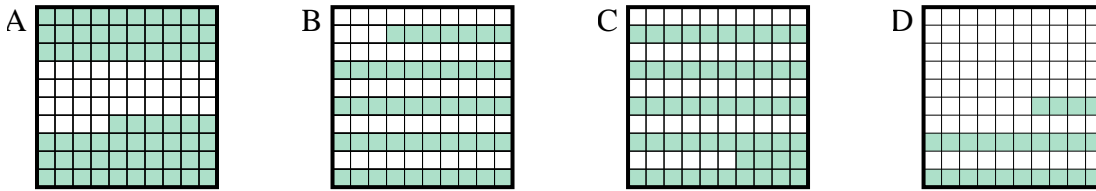




Choisir la réponse la plus appropriée.

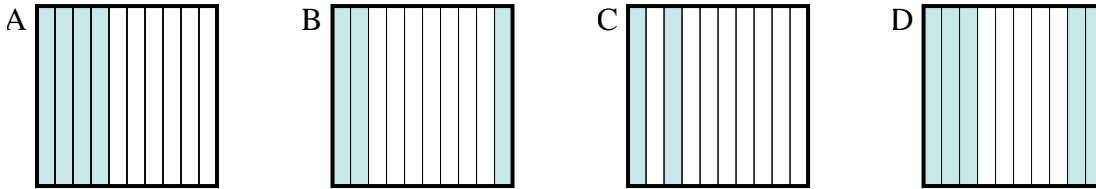
Réponses

1) Quelle grille de 10×10 cases, où le nombre de cases colorées permette, lorsqu'il est ajouté à 0,76, donne un résultat de 1,00?



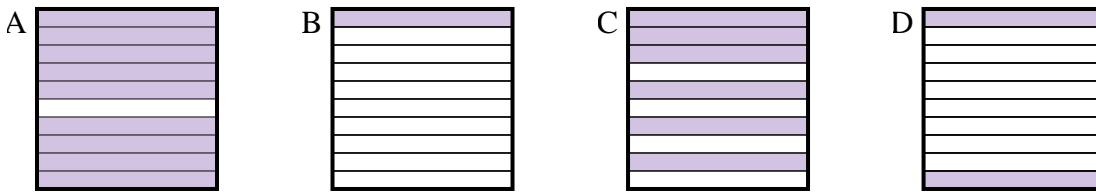
1. _____

2) Quelle grille de 10×1 cases, où le nombre de cases colorées permette, lorsqu'il est ajouté à 0,5, donne un résultat de 1,00?



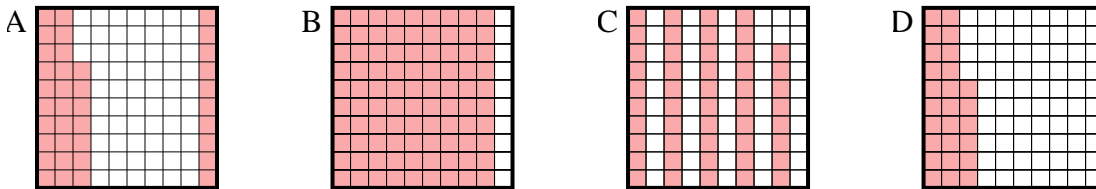
2. _____

3) Quelle grille de 10×1 cases, où le nombre de cases colorées permette, lorsqu'il est ajouté à 0,1, donne un résultat de 1,00?



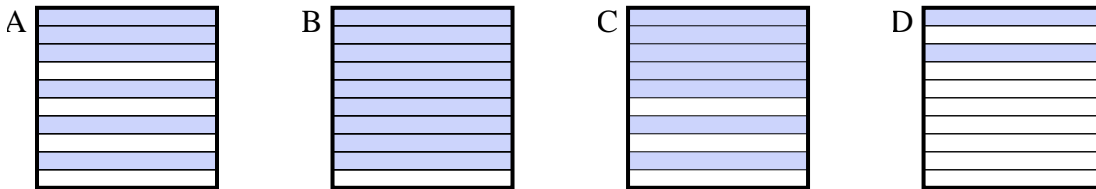
3. _____

4) Quelle grille de 10×10 cases, où le nombre de cases colorées permette, lorsqu'il est ajouté à 0,63, donne un résultat de 1,00?



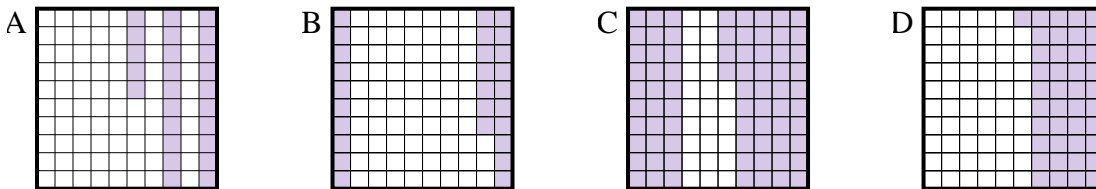
4. _____

5) Quelle grille de 10×1 cases, où le nombre de cases colorées permette, lorsqu'il est ajouté à 0,3, donne un résultat de 1,00?



5. _____

6) Quelle grille de 10×10 cases, où le nombre de cases colorées permette, lorsqu'il est ajouté à 0,75, donne un résultat de 1,00?

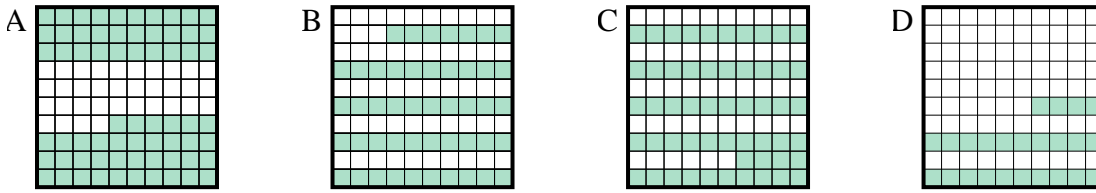


6. _____

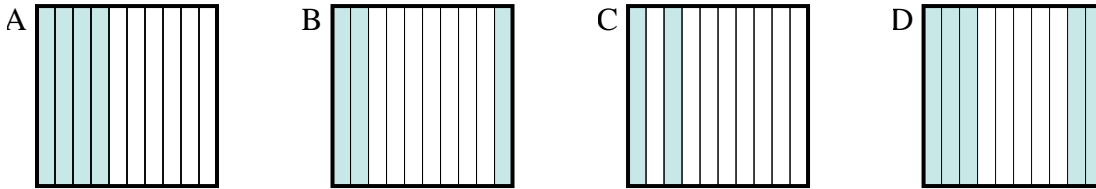


Choisir la réponse la plus appropriée.

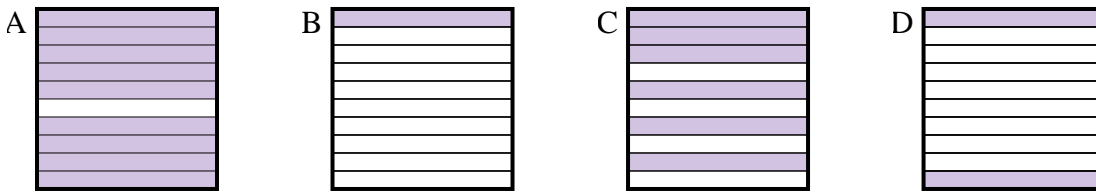
1) Quelle grille de 10×10 cases, où le nombre de cases colorées permette, lorsqu'il est ajouté à 0,76, donne un résultat de 1,00?



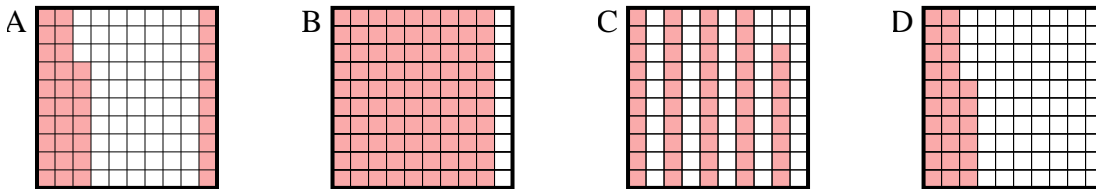
2) Quelle grille de 10×1 cases, où le nombre de cases colorées permette, lorsqu'il est ajouté à 0,5, donne un résultat de 1,00?



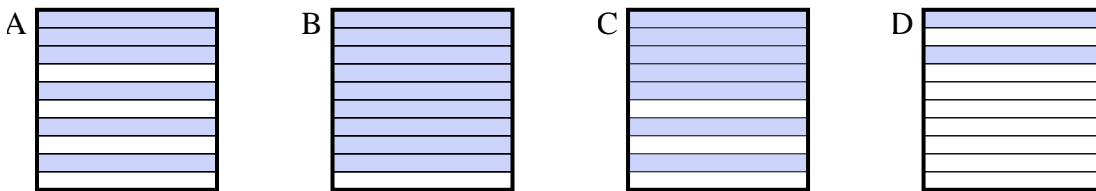
3) Quelle grille de 10×1 cases, où le nombre de cases colorées permette, lorsqu'il est ajouté à 0,1, donne un résultat de 1,00?



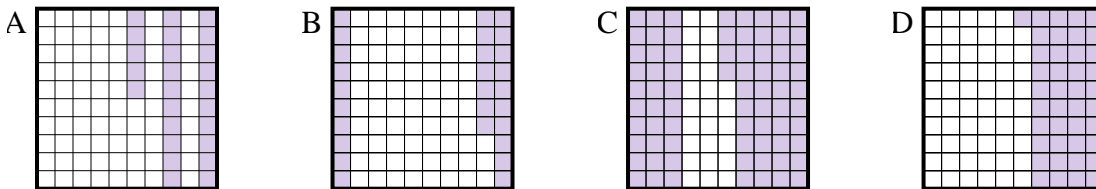
4) Quelle grille de 10×10 cases, où le nombre de cases colorées permette, lorsqu'il est ajouté à 0,63, donne un résultat de 1,00?



5) Quelle grille de 10×1 cases, où le nombre de cases colorées permette, lorsqu'il est ajouté à 0,3, donne un résultat de 1,00?



6) Quelle grille de 10×10 cases, où le nombre de cases colorées permette, lorsqu'il est ajouté à 0,75, donne un résultat de 1,00?



Réponses

1. **D**

2. **D**

3. **A**

4. **A**

5. **C**

6. **A**