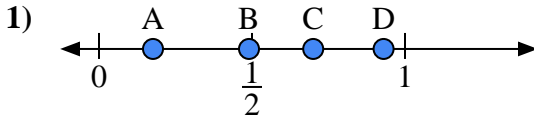


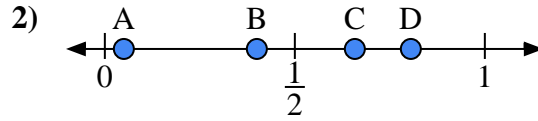


Utilisez la droite numérique pour répondre aux questions.

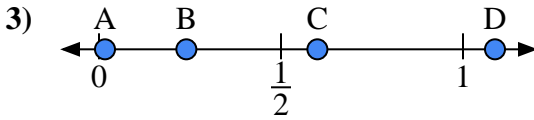
**Réponses**



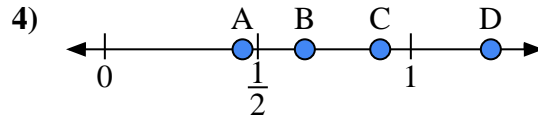
- a) Quelle lettre représente le mieux l'emplacement de 0,7 ?
- b) Quelle lettre représente le mieux l'emplacement de 0,93 ?



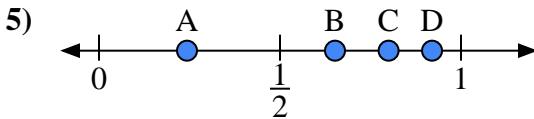
- a) Quelle lettre représente le mieux l'emplacement de 0,40 ?
- b) Quelle lettre représente le mieux l'emplacement de 0,05 ?



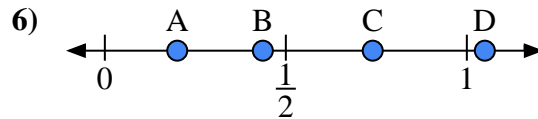
- a) Quelle lettre représente le mieux l'emplacement de 0,60 ?
- b) Quelle lettre représente le mieux l'emplacement de 0,24 ?



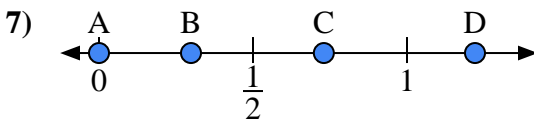
- a) Quelle lettre représente le mieux l'emplacement de 0,90 ?
- b) Quelle lettre représente le mieux l'emplacement de 0,45 ?



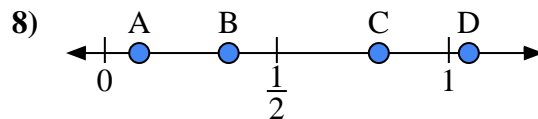
- a) Quelle lettre représente le mieux l'emplacement de 0,8 ?
- b) Quelle lettre représente le mieux l'emplacement de 0,92 ?



- a) Quelle lettre représente le mieux l'emplacement de 0,20 ?
- b) Quelle lettre représente le mieux l'emplacement de 0,74 ?



- a) Quelle lettre représente le mieux l'emplacement de 0,00 ?
- b) Quelle lettre représente le mieux l'emplacement de 0,73 ?



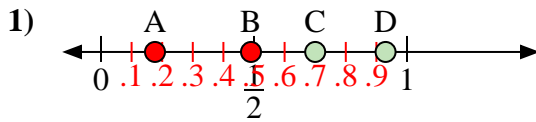
- a) Quelle lettre représente le mieux l'emplacement de 0,1 ?
- b) Quelle lettre représente le mieux l'emplacement de 0,36 ?

- 1. \_\_\_\_\_
- 2. \_\_\_\_\_
- 3. \_\_\_\_\_
- 4. \_\_\_\_\_
- 5. \_\_\_\_\_
- 6. \_\_\_\_\_
- 7. \_\_\_\_\_
- 8. \_\_\_\_\_

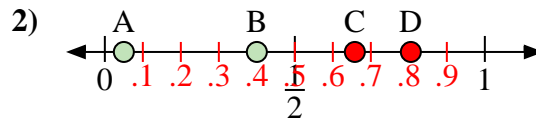


Utilisez la droite numérique pour répondre aux questions.

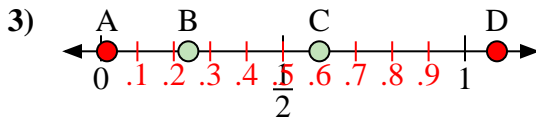
Réponses



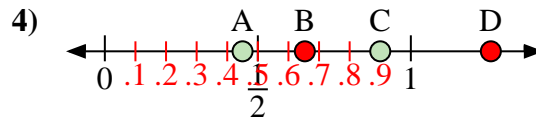
- a) Quelle lettre représente le mieux l'emplacement de 0,7 ?  
 b) Quelle lettre représente le mieux l'emplacement de 0,93 ?



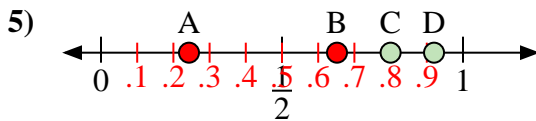
- a) Quelle lettre représente le mieux l'emplacement de 0,40 ?  
 b) Quelle lettre représente le mieux l'emplacement de 0,05 ?



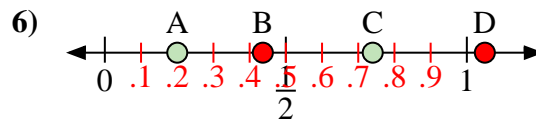
- a) Quelle lettre représente le mieux l'emplacement de 0,60 ?  
 b) Quelle lettre représente le mieux l'emplacement de 0,24 ?



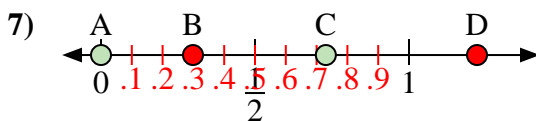
- a) Quelle lettre représente le mieux l'emplacement de 0,90 ?  
 b) Quelle lettre représente le mieux l'emplacement de 0,45 ?



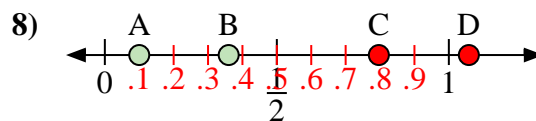
- a) Quelle lettre représente le mieux l'emplacement de 0,8 ?  
 b) Quelle lettre représente le mieux l'emplacement de 0,92 ?



- a) Quelle lettre représente le mieux l'emplacement de 0,20 ?  
 b) Quelle lettre représente le mieux l'emplacement de 0,74 ?



- a) Quelle lettre représente le mieux l'emplacement de 0,00 ?  
 b) Quelle lettre représente le mieux l'emplacement de 0,73 ?



- a) Quelle lettre représente le mieux l'emplacement de 0,1 ?  
 b) Quelle lettre représente le mieux l'emplacement de 0,36 ?

1. C D  
 2. B A  
 3. C B  
 4. C A  
 5. C D  
 6. A C  
 7. A C  
 8. A B