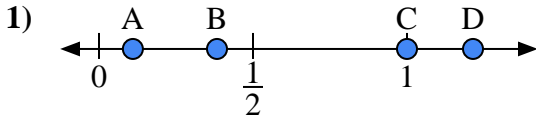


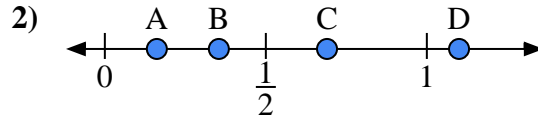


Utilisez la droite numérique pour répondre aux questions.

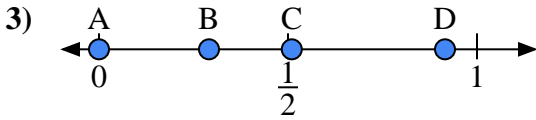
Réponses



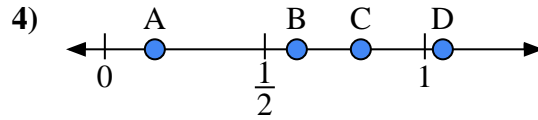
- a) Quelle lettre représente le mieux l'emplacement de 1,00 ?
- b) Quelle lettre représente le mieux l'emplacement de 0,11 ?



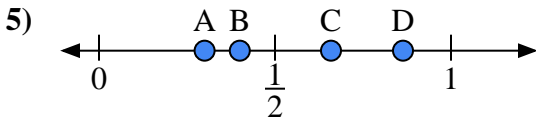
- a) Quelle lettre représente le mieux l'emplacement de 1,1 ?
- b) Quelle lettre représente le mieux l'emplacement de 0,69 ?



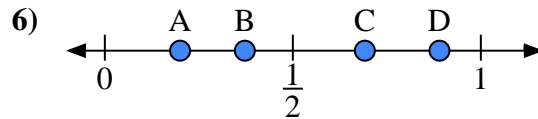
- a) Quelle lettre représente le mieux l'emplacement de 0,0 ?
- b) Quelle lettre représente le mieux l'emplacement de 0,51 ?



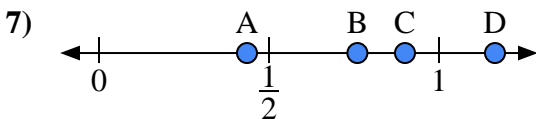
- a) Quelle lettre représente le mieux l'emplacement de 0,60 ?
- b) Quelle lettre représente le mieux l'emplacement de 0,80 ?



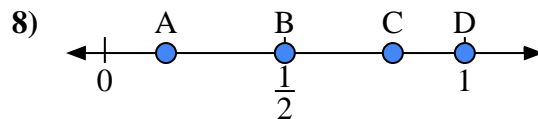
- a) Quelle lettre représente le mieux l'emplacement de 0,4 ?
- b) Quelle lettre représente le mieux l'emplacement de 0,30 ?



- a) Quelle lettre représente le mieux l'emplacement de 0,2 ?
- b) Quelle lettre représente le mieux l'emplacement de 0,89 ?



- a) Quelle lettre représente le mieux l'emplacement de 0,9 ?
- b) Quelle lettre représente le mieux l'emplacement de 0,76 ?



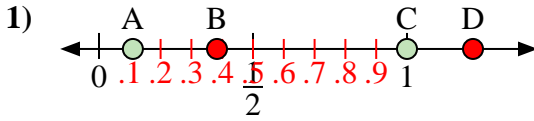
- a) Quelle lettre représente le mieux l'emplacement de 0,50 ?
- b) Quelle lettre représente le mieux l'emplacement de 0,17 ?

- 1. _____
- 2. _____
- 3. _____
- 4. _____
- 5. _____
- 6. _____
- 7. _____
- 8. _____

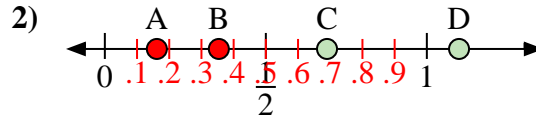


Utilisez la droite numérique pour répondre aux questions.

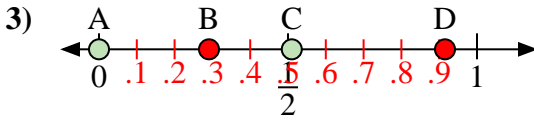
Réponses



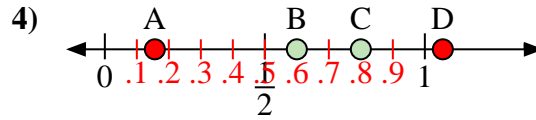
- a) Quelle lettre représente le mieux l'emplacement de 1,00 ?
- b) Quelle lettre représente le mieux l'emplacement de 0,11 ?



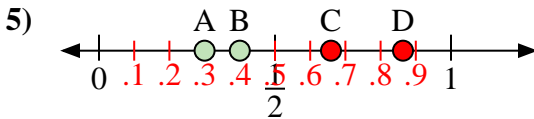
- a) Quelle lettre représente le mieux l'emplacement de 1,1 ?
- b) Quelle lettre représente le mieux l'emplacement de 0,69 ?



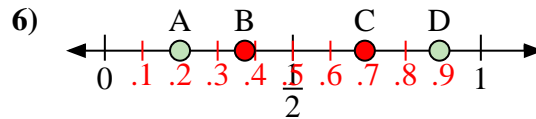
- a) Quelle lettre représente le mieux l'emplacement de 0,0 ?
- b) Quelle lettre représente le mieux l'emplacement de 0,51 ?



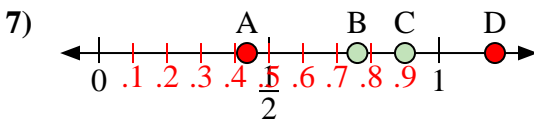
- a) Quelle lettre représente le mieux l'emplacement de 0,60 ?
- b) Quelle lettre représente le mieux l'emplacement de 0,80 ?



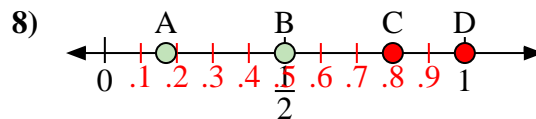
- a) Quelle lettre représente le mieux l'emplacement de 0,4 ?
- b) Quelle lettre représente le mieux l'emplacement de 0,30 ?



- a) Quelle lettre représente le mieux l'emplacement de 0,2 ?
- b) Quelle lettre représente le mieux l'emplacement de 0,89 ?



- a) Quelle lettre représente le mieux l'emplacement de 0,9 ?
- b) Quelle lettre représente le mieux l'emplacement de 0,76 ?



- a) Quelle lettre représente le mieux l'emplacement de 0,50 ?
- b) Quelle lettre représente le mieux l'emplacement de 0,17 ?

- 1. C A
- 2. D C
- 3. A C
- 4. B C
- 5. B A
- 6. A D
- 7. C B
- 8. B A