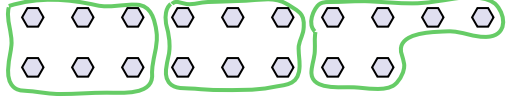




Utilisez les formes pour répondre aux questions.

**Réponses**

Ex) Combien de groupes de 6 pouvez-vous faire avec les 18 formes ci-dessous?



1) Combien de groupes de 3 pouvez-vous faire avec les 27 formes ci-dessous?

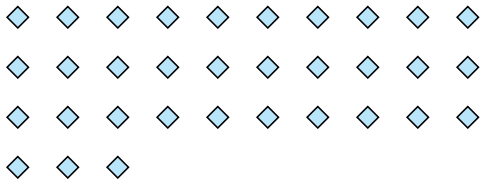


Ex. 3

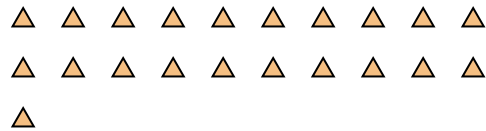
1. \_\_\_\_\_

2. \_\_\_\_\_

2) Combien de groupes de 3 pouvez-vous faire avec les 33 formes ci-dessous?



3) Combien de groupes de 7 pouvez-vous faire avec les 21 formes ci-dessous?




3. \_\_\_\_\_

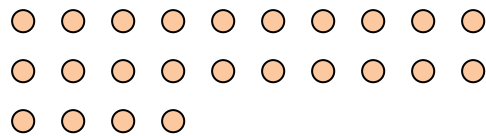
4. \_\_\_\_\_

5. \_\_\_\_\_

4) Combien de groupes de 7 pouvez-vous faire avec les 14 formes ci-dessous?



5) Combien de groupes de 8 pouvez-vous faire avec les 24 formes ci-dessous?




6. \_\_\_\_\_

7. \_\_\_\_\_


8. \_\_\_\_\_

9. \_\_\_\_\_

6) Combien de groupes de 4 pouvez-vous faire avec les 40 formes ci-dessous?




7) Combien de groupes de 8 pouvez-vous faire avec les 32 formes ci-dessous?



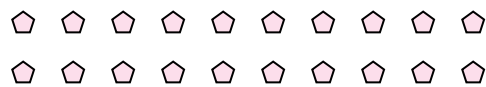
10. \_\_\_\_\_

11. \_\_\_\_\_

8) Combien de groupes de 7 pouvez-vous faire avec les 28 formes ci-dessous?



9) Combien de groupes de 5 pouvez-vous faire avec les 20 formes ci-dessous?



10) Combien de groupes de 4 pouvez-vous faire avec les 12 formes ci-dessous?



11) Combien de groupes de 7 pouvez-vous faire avec les 21 formes ci-dessous?

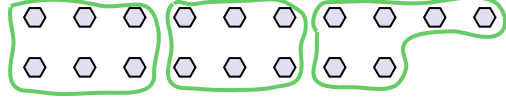




Utilisez les formes pour répondre aux questions.

**Réponses**

Ex) Combien de groupes de 6 pouvez-vous faire avec les 18 formes ci-dessous?




1) Combien de groupes de 3 pouvez-vous faire avec les 27 formes ci-dessous?

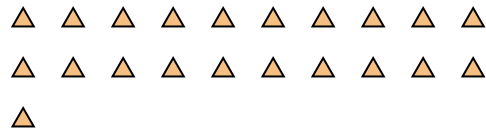


Ex. 3

2) Combien de groupes de 3 pouvez-vous faire avec les 33 formes ci-dessous?



3) Combien de groupes de 7 pouvez-vous faire avec les 21 formes ci-dessous?



1. 9

2. 11


3. 3

4. 2

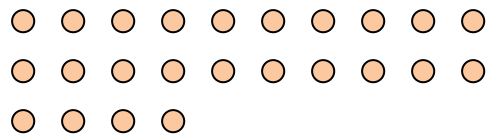
5. 3

6. 10

4) Combien de groupes de 7 pouvez-vous faire avec les 14 formes ci-dessous?



5) Combien de groupes de 8 pouvez-vous faire avec les 24 formes ci-dessous?

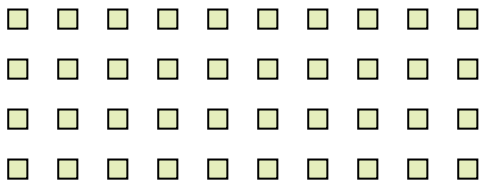


7. 4


8. 4

9. 4

6) Combien de groupes de 4 pouvez-vous faire avec les 40 formes ci-dessous?



7) Combien de groupes de 8 pouvez-vous faire avec les 32 formes ci-dessous?



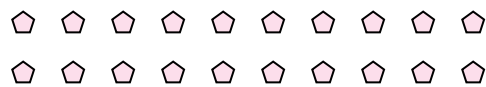
10. 3

11. 3

8) Combien de groupes de 7 pouvez-vous faire avec les 28 formes ci-dessous?



9) Combien de groupes de 5 pouvez-vous faire avec les 20 formes ci-dessous?



10) Combien de groupes de 4 pouvez-vous faire avec les 12 formes ci-dessous?



11) Combien de groupes de 7 pouvez-vous faire avec les 21 formes ci-dessous?

