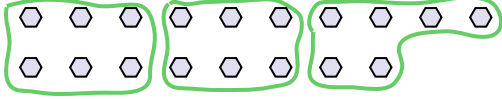






Utilisez les formes pour répondre aux questions.

Ex) Combien de groupes de 6 pouvez-vous faire avec les 18 formes ci-dessous?




1) Combien de groupes de 3 pouvez-vous faire avec les 27 formes ci-dessous?

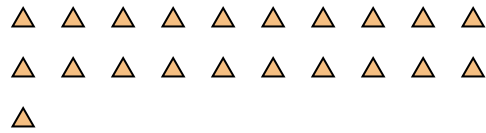


Ex. 3

2) Combien de groupes de 3 pouvez-vous faire avec les 33 formes ci-dessous?




3) Combien de groupes de 7 pouvez-vous faire avec les 21 formes ci-dessous?

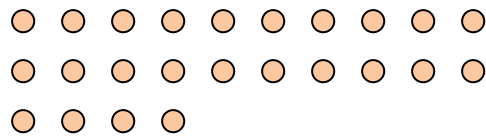


1. 9

4) Combien de groupes de 7 pouvez-vous faire avec les 14 formes ci-dessous?

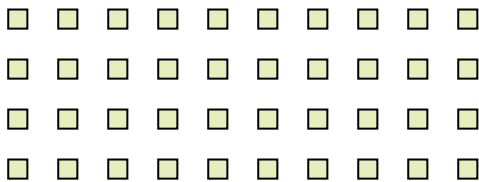


5) Combien de groupes de 8 pouvez-vous faire avec les 24 formes ci-dessous?




2. 11

6) Combien de groupes de 4 pouvez-vous faire avec les 40 formes ci-dessous?



7) Combien de groupes de 8 pouvez-vous faire avec les 32 formes ci-dessous?

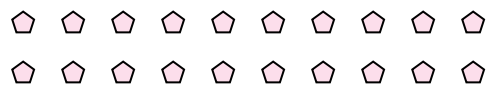


3. 3

8) Combien de groupes de 7 pouvez-vous faire avec les 28 formes ci-dessous?



9) Combien de groupes de 5 pouvez-vous faire avec les 20 formes ci-dessous?



4. 2

10) Combien de groupes de 4 pouvez-vous faire avec les 12 formes ci-dessous?



11) Combien de groupes de 7 pouvez-vous faire avec les 21 formes ci-dessous?



5. 3

6. 10

7. 4

8. 4

9. 4

10. 3

11. 3