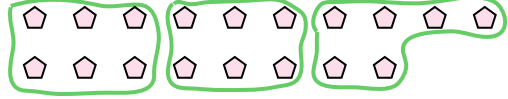




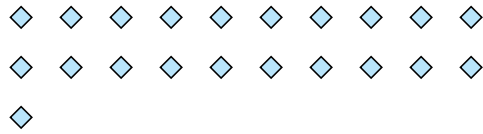
Utilisez les formes pour répondre aux questions.

**Réponses**

Ex) Combien de groupes de 6 pouvez-vous faire avec les 18 formes ci-dessous?



1) Combien de groupes de 7 pouvez-vous faire avec les 21 formes ci-dessous?



Ex. 3

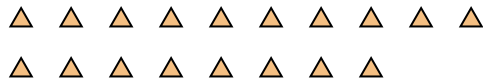
1. \_\_\_\_\_

2. \_\_\_\_\_

2) Combien de groupes de 3 pouvez-vous faire avec les 6 formes ci-dessous?



3) Combien de groupes de 6 pouvez-vous faire avec les 18 formes ci-dessous?

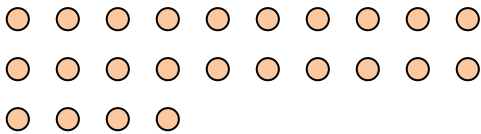


3. \_\_\_\_\_

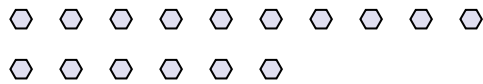
4. \_\_\_\_\_

5. \_\_\_\_\_

4) Combien de groupes de 8 pouvez-vous faire avec les 24 formes ci-dessous?



5) Combien de groupes de 8 pouvez-vous faire avec les 16 formes ci-dessous?




6. \_\_\_\_\_


7. \_\_\_\_\_

8. \_\_\_\_\_

6) Combien de groupes de 4 pouvez-vous faire avec les 16 formes ci-dessous?



7) Combien de groupes de 7 pouvez-vous faire avec les 35 formes ci-dessous?



9. \_\_\_\_\_

10. \_\_\_\_\_

11. \_\_\_\_\_

8) Combien de groupes de 3 pouvez-vous faire avec les 15 formes ci-dessous?



9) Combien de groupes de 2 pouvez-vous faire avec les 18 formes ci-dessous?



10) Combien de groupes de 4 pouvez-vous faire avec les 8 formes ci-dessous?



11) Combien de groupes de 7 pouvez-vous faire avec les 14 formes ci-dessous?



