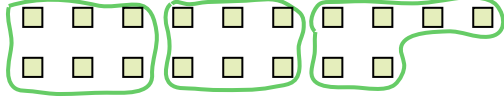





Utilisez les formes pour répondre aux questions.

Réponses

Ex) Combien de groupes de 6 pouvez-vous faire avec les 18 formes ci-dessous?



1) Combien de groupes de 3 pouvez-vous faire avec les 30 formes ci-dessous?




Ex. 3


1. _____

2. _____

2) Combien de groupes de 4 pouvez-vous faire avec les 28 formes ci-dessous?



3) Combien de groupes de 2 pouvez-vous faire avec les 40 formes ci-dessous?

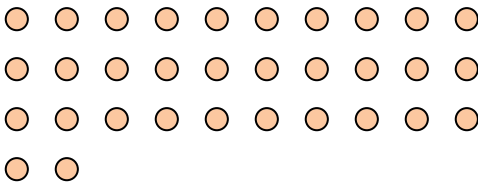


3. _____

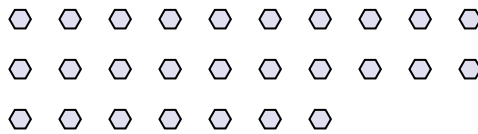
4. _____

5. _____

4) Combien de groupes de 4 pouvez-vous faire avec les 32 formes ci-dessous?



5) Combien de groupes de 9 pouvez-vous faire avec les 27 formes ci-dessous?



6. _____


7. _____

8. _____

6) Combien de groupes de 6 pouvez-vous faire avec les 36 formes ci-dessous?



7) Combien de groupes de 3 pouvez-vous faire avec les 36 formes ci-dessous?




9. _____

10. _____

11. _____

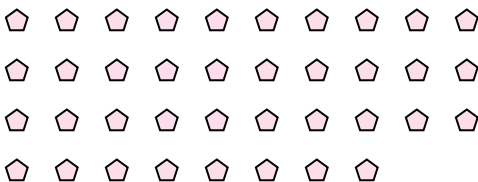
8) Combien de groupes de 6 pouvez-vous faire avec les 36 formes ci-dessous?



9) Combien de groupes de 4 pouvez-vous faire avec les 36 formes ci-dessous?



10) Combien de groupes de 2 pouvez-vous faire avec les 38 formes ci-dessous?



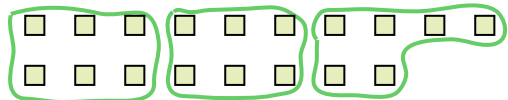
11) Combien de groupes de 7 pouvez-vous faire avec les 14 formes ci-dessous?






Utilisez les formes pour répondre aux questions.

Ex) Combien de groupes de 6 pouvez-vous faire avec les 18 formes ci-dessous?




1) Combien de groupes de 3 pouvez-vous faire avec les 30 formes ci-dessous?




Ex. 3

2) Combien de groupes de 4 pouvez-vous faire avec les 28 formes ci-dessous?



3) Combien de groupes de 2 pouvez-vous faire avec les 40 formes ci-dessous?



1. 10

2. 7

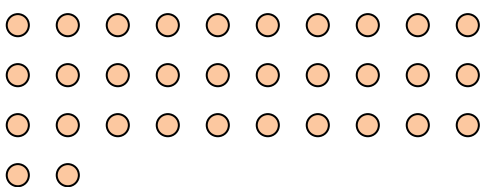
3. 20

4. 8

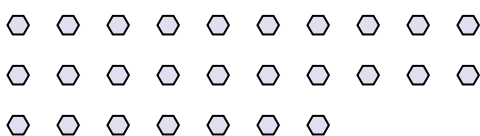
5. 3

6. 6

4) Combien de groupes de 4 pouvez-vous faire avec les 32 formes ci-dessous?



5) Combien de groupes de 9 pouvez-vous faire avec les 27 formes ci-dessous?




7. 12


8. 6

9. 9

6) Combien de groupes de 6 pouvez-vous faire avec les 36 formes ci-dessous?




7) Combien de groupes de 3 pouvez-vous faire avec les 36 formes ci-dessous?



10. 19

11. 2

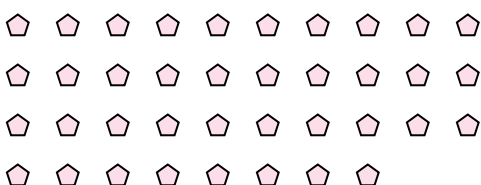
8) Combien de groupes de 6 pouvez-vous faire avec les 36 formes ci-dessous?



9) Combien de groupes de 4 pouvez-vous faire avec les 36 formes ci-dessous?



10) Combien de groupes de 2 pouvez-vous faire avec les 38 formes ci-dessous?



11) Combien de groupes de 7 pouvez-vous faire avec les 14 formes ci-dessous?

