




Utilisez les formes pour répondre aux questions.

Ex) Combien de groupes de 6 pouvez-vous faire avec les 18 formes ci-dessous?



1) Combien de groupes de 3 pouvez-vous faire avec les 9 formes ci-dessous?



Réponses

Ex. 3

1. 3

2. 3

3. 2

4. 2

5. 2

6. 12

7. 9

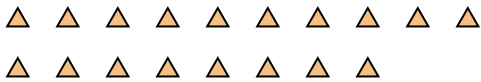
8. 3

9. 4

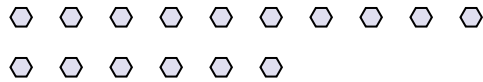
10. 5

11. 13

2) Combien de groupes de 6 pouvez-vous faire avec les 18 formes ci-dessous?



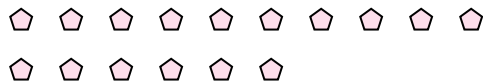
3) Combien de groupes de 8 pouvez-vous faire avec les 16 formes ci-dessous?



4) Combien de groupes de 4 pouvez-vous faire avec les 8 formes ci-dessous?



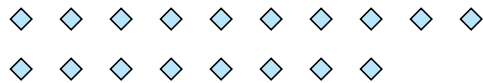
5) Combien de groupes de 8 pouvez-vous faire avec les 16 formes ci-dessous?




6) Combien de groupes de 2 pouvez-vous faire avec les 24 formes ci-dessous?




7) Combien de groupes de 2 pouvez-vous faire avec les 18 formes ci-dessous?



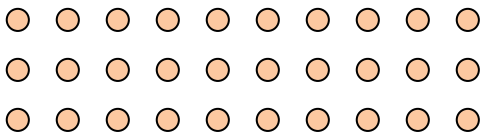
8) Combien de groupes de 9 pouvez-vous faire avec les 27 formes ci-dessous?



9) Combien de groupes de 9 pouvez-vous faire avec les 36 formes ci-dessous?



10) Combien de groupes de 6 pouvez-vous faire avec les 30 formes ci-dessous?



11) Combien de groupes de 3 pouvez-vous faire avec les 39 formes ci-dessous?

