




Utilisez les formes pour répondre aux questions.

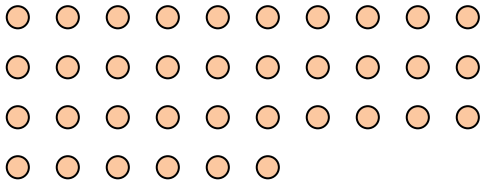
Ex) Combien de groupes de 6 pouvez-vous faire avec les 18 formes ci-dessous?




1) Combien de groupes de 2 pouvez-vous faire avec les 26 formes ci-dessous?



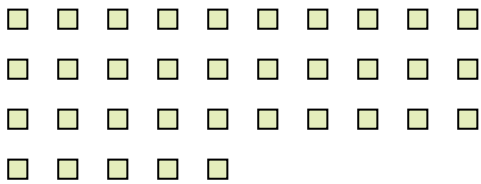
2) Combien de groupes de 9 pouvez-vous faire avec les 36 formes ci-dessous?



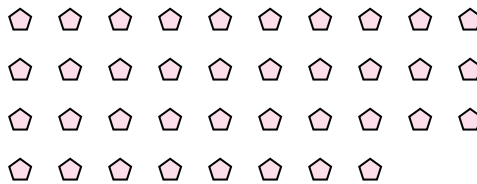
3) Combien de groupes de 3 pouvez-vous faire avec les 24 formes ci-dessous?



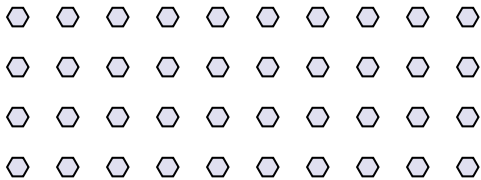
4) Combien de groupes de 7 pouvez-vous faire avec les 35 formes ci-dessous?



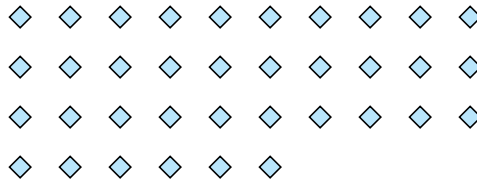
5) Combien de groupes de 2 pouvez-vous faire avec les 38 formes ci-dessous?



6) Combien de groupes de 8 pouvez-vous faire avec les 40 formes ci-dessous?



7) Combien de groupes de 9 pouvez-vous faire avec les 36 formes ci-dessous?



8) Combien de groupes de 4 pouvez-vous faire avec les 40 formes ci-dessous?




9) Combien de groupes de 7 pouvez-vous faire avec les 35 formes ci-dessous?



10) Combien de groupes de 5 pouvez-vous faire avec les 10 formes ci-dessous?



11) Combien de groupes de 9 pouvez-vous faire avec les 27 formes ci-dessous?



Réponses

Ex. 3

1. 13

2. 4

3. 8

4. 5

5. 19

6. 5

7. 4

8. 10

9. 5

10. 2

11. 3