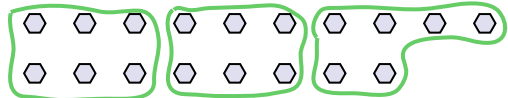




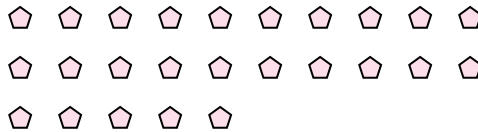
Utilisez les formes pour répondre aux questions.

Réponses

Ex) Combien de groupes de 6 pouvez-vous faire avec les 18 formes ci-dessous?



1) Combien de groupes de 5 pouvez-vous faire avec les 25 formes ci-dessous?



Ex. 3

1. 5

2. 4

3. 7

4. 7

5. 4

6. 3

7. 5

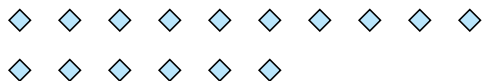
8. 14

9. 3

10. 3

11. 9


2) Combien de groupes de 4 pouvez-vous faire avec les 16 formes ci-dessous?




3) Combien de groupes de 2 pouvez-vous faire avec les 14 formes ci-dessous?



4) Combien de groupes de 4 pouvez-vous faire avec les 28 formes ci-dessous?



5) Combien de groupes de 9 pouvez-vous faire avec les 36 formes ci-dessous?




6) Combien de groupes de 9 pouvez-vous faire avec les 27 formes ci-dessous?




7) Combien de groupes de 6 pouvez-vous faire avec les 30 formes ci-dessous?



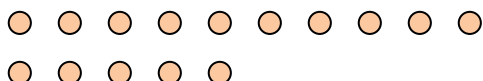
8) Combien de groupes de 2 pouvez-vous faire avec les 28 formes ci-dessous?



9) Combien de groupes de 9 pouvez-vous faire avec les 27 formes ci-dessous?



10) Combien de groupes de 5 pouvez-vous faire avec les 15 formes ci-dessous?



11) Combien de groupes de 4 pouvez-vous faire avec les 36 formes ci-dessous?

