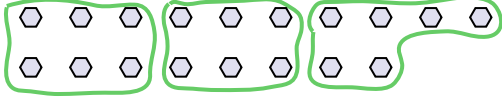




Utilisez les formes pour répondre aux questions.

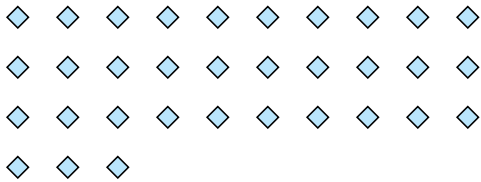
Ex) Combien de groupes de 6 pouvez-vous faire avec les 18 formes ci-dessous?



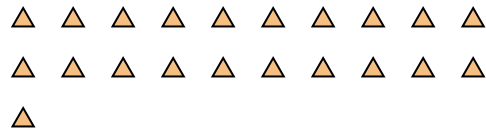
1) Combien de groupes de 3 pouvez-vous faire avec les 27 formes ci-dessous?




2) Combien de groupes de 3 pouvez-vous faire avec les 33 formes ci-dessous?



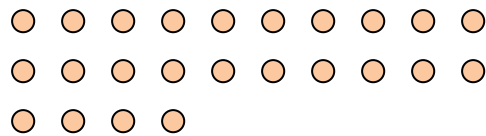
3) Combien de groupes de 7 pouvez-vous faire avec les 21 formes ci-dessous?




4) Combien de groupes de 7 pouvez-vous faire avec les 14 formes ci-dessous?




5) Combien de groupes de 8 pouvez-vous faire avec les 24 formes ci-dessous?




6) Combien de groupes de 4 pouvez-vous faire avec les 40 formes ci-dessous?



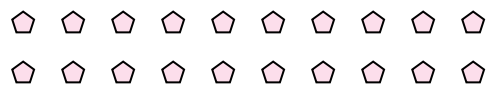
7) Combien de groupes de 8 pouvez-vous faire avec les 32 formes ci-dessous?



8) Combien de groupes de 7 pouvez-vous faire avec les 28 formes ci-dessous?



9) Combien de groupes de 5 pouvez-vous faire avec les 20 formes ci-dessous?



10) Combien de groupes de 4 pouvez-vous faire avec les 12 formes ci-dessous?



11) Combien de groupes de 7 pouvez-vous faire avec les 21 formes ci-dessous?



Réponses

Ex. 3

1. 9

2. 11

3. 3

4. 2

5. 3

6. 10

7. 4

8. 4

9. 4

10. 3

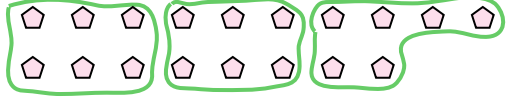
11. 3



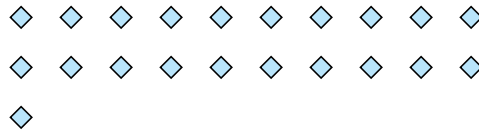
Utilisez les formes pour répondre aux questions.

Réponses

Ex) Combien de groupes de 6 pouvez-vous faire avec les 18 formes ci-dessous?



1) Combien de groupes de 7 pouvez-vous faire avec les 21 formes ci-dessous?



Ex. 3

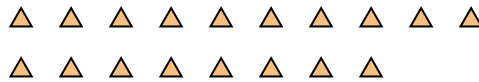
1. _____

2. _____

2) Combien de groupes de 3 pouvez-vous faire avec les 6 formes ci-dessous?



3) Combien de groupes de 6 pouvez-vous faire avec les 18 formes ci-dessous?

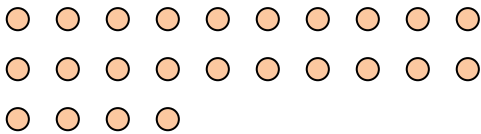


3. _____

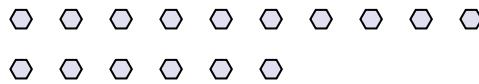
4. _____

5. _____

4) Combien de groupes de 8 pouvez-vous faire avec les 24 formes ci-dessous?



5) Combien de groupes de 8 pouvez-vous faire avec les 16 formes ci-dessous?



6. _____


7. _____

8. _____

6) Combien de groupes de 4 pouvez-vous faire avec les 16 formes ci-dessous?



7) Combien de groupes de 7 pouvez-vous faire avec les 35 formes ci-dessous?



9. _____

10. _____

11. _____

8) Combien de groupes de 3 pouvez-vous faire avec les 15 formes ci-dessous?



9) Combien de groupes de 2 pouvez-vous faire avec les 18 formes ci-dessous?



10) Combien de groupes de 4 pouvez-vous faire avec les 8 formes ci-dessous?



11) Combien de groupes de 7 pouvez-vous faire avec les 14 formes ci-dessous?

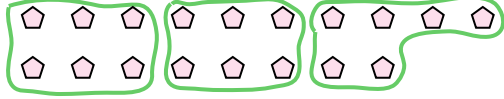




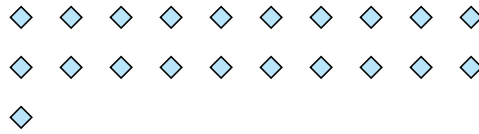
Utilisez les formes pour répondre aux questions.

Réponses

Ex) Combien de groupes de 6 pouvez-vous faire avec les 18 formes ci-dessous?



1) Combien de groupes de 7 pouvez-vous faire avec les 21 formes ci-dessous?

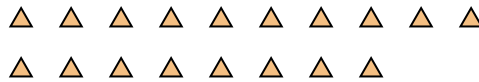


Ex. 3

2) Combien de groupes de 3 pouvez-vous faire avec les 6 formes ci-dessous?



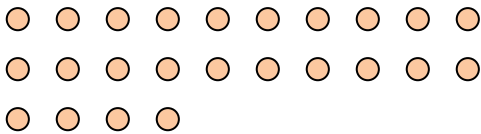
3) Combien de groupes de 6 pouvez-vous faire avec les 18 formes ci-dessous?



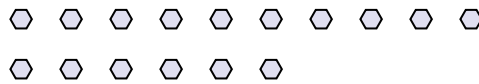
1. 3

2. 2

4) Combien de groupes de 8 pouvez-vous faire avec les 24 formes ci-dessous?



5) Combien de groupes de 8 pouvez-vous faire avec les 16 formes ci-dessous?




3. 3


4. 3

5. 2

6) Combien de groupes de 4 pouvez-vous faire avec les 16 formes ci-dessous?



7) Combien de groupes de 7 pouvez-vous faire avec les 35 formes ci-dessous?



6. 4

7. 5

8. 5

8) Combien de groupes de 3 pouvez-vous faire avec les 15 formes ci-dessous?



9) Combien de groupes de 2 pouvez-vous faire avec les 18 formes ci-dessous?



9. 9

10. 2

11. 2

10) Combien de groupes de 4 pouvez-vous faire avec les 8 formes ci-dessous?



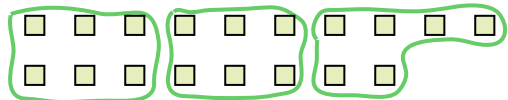
11) Combien de groupes de 7 pouvez-vous faire avec les 14 formes ci-dessous?






Utilisez les formes pour répondre aux questions.

Ex) Combien de groupes de 6 pouvez-vous faire avec les 18 formes ci-dessous?



1) Combien de groupes de 3 pouvez-vous faire avec les 30 formes ci-dessous?



Ex. 3

1. 10

2. 7

3. 20

4. 8

5. 3

6. 6

7. 12

8. 6

9. 9


10. 19

11. 2

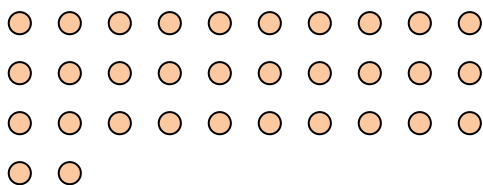
2) Combien de groupes de 4 pouvez-vous faire avec les 28 formes ci-dessous?



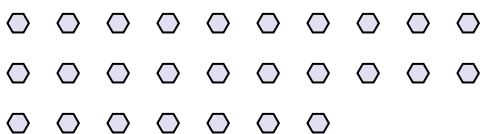
3) Combien de groupes de 2 pouvez-vous faire avec les 40 formes ci-dessous?



4) Combien de groupes de 4 pouvez-vous faire avec les 32 formes ci-dessous?




5) Combien de groupes de 9 pouvez-vous faire avec les 27 formes ci-dessous?




6) Combien de groupes de 6 pouvez-vous faire avec les 36 formes ci-dessous?



7) Combien de groupes de 3 pouvez-vous faire avec les 36 formes ci-dessous?




8) Combien de groupes de 6 pouvez-vous faire avec les 36 formes ci-dessous?



9) Combien de groupes de 4 pouvez-vous faire avec les 36 formes ci-dessous?



10) Combien de groupes de 2 pouvez-vous faire avec les 38 formes ci-dessous?




11) Combien de groupes de 7 pouvez-vous faire avec les 14 formes ci-dessous?





Utilisez les formes pour répondre aux questions.

Ex) Combien de groupes de 6 pouvez-vous faire avec les 18 formes ci-dessous?



1) Combien de groupes de 3 pouvez-vous faire avec les 9 formes ci-dessous?



Réponses

Ex. 3

1. 3

2. 3

3. 2

4. 2

5. 2

6. 12

7. 9

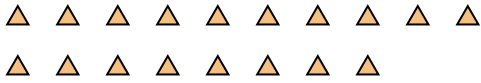
8. 3

9. 4

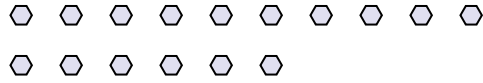
10. 5

11. 13

2) Combien de groupes de 6 pouvez-vous faire avec les 18 formes ci-dessous?



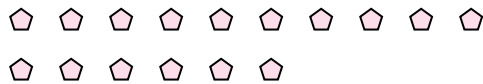
3) Combien de groupes de 8 pouvez-vous faire avec les 16 formes ci-dessous?



4) Combien de groupes de 4 pouvez-vous faire avec les 8 formes ci-dessous?



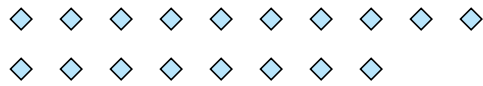
5) Combien de groupes de 8 pouvez-vous faire avec les 16 formes ci-dessous?




6) Combien de groupes de 2 pouvez-vous faire avec les 24 formes ci-dessous?




7) Combien de groupes de 2 pouvez-vous faire avec les 18 formes ci-dessous?



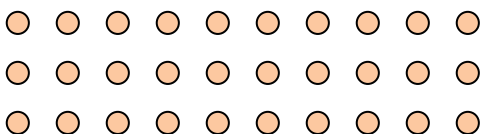
8) Combien de groupes de 9 pouvez-vous faire avec les 27 formes ci-dessous?



9) Combien de groupes de 9 pouvez-vous faire avec les 36 formes ci-dessous?



10) Combien de groupes de 6 pouvez-vous faire avec les 30 formes ci-dessous?



11) Combien de groupes de 3 pouvez-vous faire avec les 39 formes ci-dessous?






Utilisez les formes pour répondre aux questions.

Réponses

Ex) Combien de groupes de 6 pouvez-vous faire avec les 18 formes ci-dessous?



1) Combien de groupes de 5 pouvez-vous faire avec les 40 formes ci-dessous?



Ex. 3

1. _____

2. _____

3. _____

4. _____

5. _____

6. _____

7. _____

8. _____

9. _____

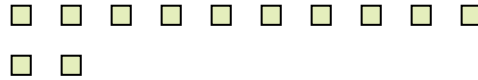
10. _____

11. _____


2) Combien de groupes de 7 pouvez-vous faire avec les 21 formes ci-dessous?



3) Combien de groupes de 6 pouvez-vous faire avec les 12 formes ci-dessous?



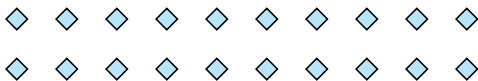
4) Combien de groupes de 3 pouvez-vous faire avec les 24 formes ci-dessous?



5) Combien de groupes de 2 pouvez-vous faire avec les 4 formes ci-dessous?




6) Combien de groupes de 5 pouvez-vous faire avec les 20 formes ci-dessous?



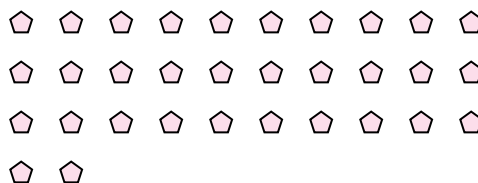
7) Combien de groupes de 9 pouvez-vous faire avec les 18 formes ci-dessous?



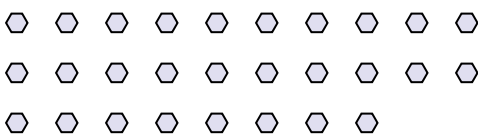
8) Combien de groupes de 9 pouvez-vous faire avec les 36 formes ci-dessous?



9) Combien de groupes de 2 pouvez-vous faire avec les 32 formes ci-dessous?



10) Combien de groupes de 2 pouvez-vous faire avec les 28 formes ci-dessous?



11) Combien de groupes de 8 pouvez-vous faire avec les 24 formes ci-dessous?






Utilisez les formes pour répondre aux questions.

Réponses

Ex) Combien de groupes de 6 pouvez-vous faire avec les 18 formes ci-dessous?




1) Combien de groupes de 5 pouvez-vous faire avec les 40 formes ci-dessous?



Ex. 3

2) Combien de groupes de 7 pouvez-vous faire avec les 21 formes ci-dessous?




1. 8

3) Combien de groupes de 6 pouvez-vous faire avec les 12 formes ci-dessous?



2. 3

4) Combien de groupes de 3 pouvez-vous faire avec les 24 formes ci-dessous?

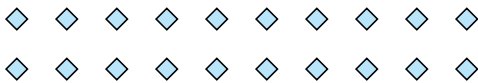


5) Combien de groupes de 2 pouvez-vous faire avec les 4 formes ci-dessous?



3. 2

6) Combien de groupes de 5 pouvez-vous faire avec les 20 formes ci-dessous?




7) Combien de groupes de 9 pouvez-vous faire avec les 18 formes ci-dessous?

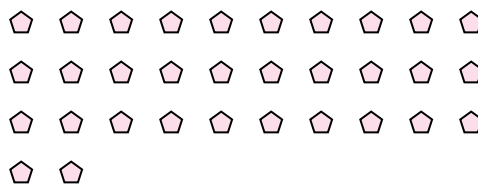


4. 8

8) Combien de groupes de 9 pouvez-vous faire avec les 36 formes ci-dessous?

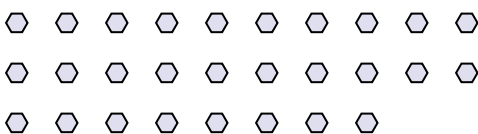


9) Combien de groupes de 2 pouvez-vous faire avec les 32 formes ci-dessous?



5. 2

10) Combien de groupes de 2 pouvez-vous faire avec les 28 formes ci-dessous?



11) Combien de groupes de 8 pouvez-vous faire avec les 24 formes ci-dessous?



6. 4

7. 2

8. 4

9. 16

10. 14


11. 3



Utilisez les formes pour répondre aux questions.

Réponses

Ex) Combien de groupes de 6 pouvez-vous faire avec les 18 formes ci-dessous?



1) Combien de groupes de 2 pouvez-vous faire avec les 26 formes ci-dessous?

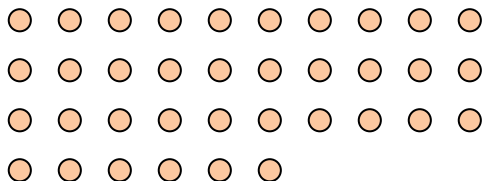


Ex. 3


1. _____

2. _____

2) Combien de groupes de 9 pouvez-vous faire avec les 36 formes ci-dessous?



3) Combien de groupes de 3 pouvez-vous faire avec les 24 formes ci-dessous?



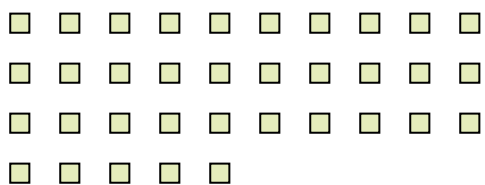
3. _____

4. _____

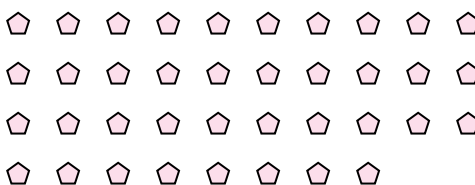
5. _____

6. _____

4) Combien de groupes de 7 pouvez-vous faire avec les 35 formes ci-dessous?



5) Combien de groupes de 2 pouvez-vous faire avec les 38 formes ci-dessous?

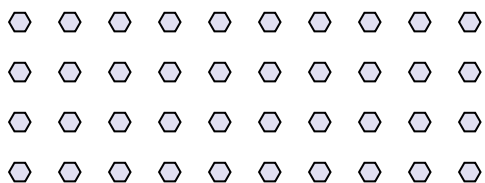


7. _____


8. _____

9. _____

6) Combien de groupes de 8 pouvez-vous faire avec les 40 formes ci-dessous?




7) Combien de groupes de 9 pouvez-vous faire avec les 36 formes ci-dessous?



10. _____

11. _____

8) Combien de groupes de 4 pouvez-vous faire avec les 40 formes ci-dessous?




9) Combien de groupes de 7 pouvez-vous faire avec les 35 formes ci-dessous?



10) Combien de groupes de 5 pouvez-vous faire avec les 10 formes ci-dessous?



11) Combien de groupes de 9 pouvez-vous faire avec les 27 formes ci-dessous?






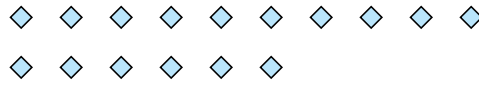
Utilisez les formes pour répondre aux questions.

Réponses

Ex) Combien de groupes de 6 pouvez-vous faire avec les 18 formes ci-dessous?



1) Combien de groupes de 8 pouvez-vous faire avec les 16 formes ci-dessous?



Ex. 3

1. _____

2. _____

3. _____

4. _____

5. _____

6. _____

7. _____


8. _____

9. _____

10. _____

11. _____

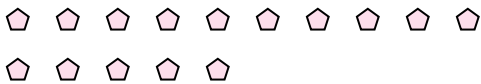
2) Combien de groupes de 6 pouvez-vous faire avec les 36 formes ci-dessous?



3) Combien de groupes de 5 pouvez-vous faire avec les 25 formes ci-dessous?



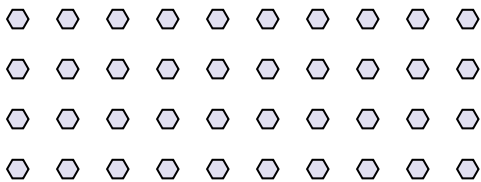
4) Combien de groupes de 5 pouvez-vous faire avec les 15 formes ci-dessous?



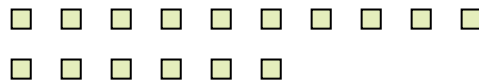
5) Combien de groupes de 3 pouvez-vous faire avec les 6 formes ci-dessous?




6) Combien de groupes de 4 pouvez-vous faire avec les 40 formes ci-dessous?




7) Combien de groupes de 2 pouvez-vous faire avec les 16 formes ci-dessous?



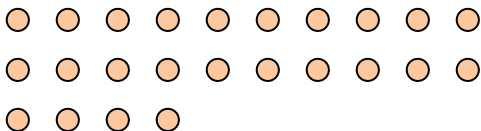
8) Combien de groupes de 6 pouvez-vous faire avec les 30 formes ci-dessous?




9) Combien de groupes de 7 pouvez-vous faire avec les 21 formes ci-dessous?



10) Combien de groupes de 8 pouvez-vous faire avec les 24 formes ci-dessous?




11) Combien de groupes de 2 pouvez-vous faire avec les 22 formes ci-dessous?



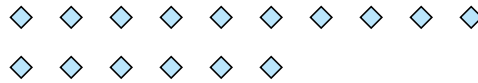


Utilisez les formes pour répondre aux questions.

Ex) Combien de groupes de 6 pouvez-vous faire avec les 18 formes ci-dessous?




1) Combien de groupes de 8 pouvez-vous faire avec les 16 formes ci-dessous?



Ex. 3

2) Combien de groupes de 6 pouvez-vous faire avec les 36 formes ci-dessous?



3) Combien de groupes de 5 pouvez-vous faire avec les 25 formes ci-dessous?



1. 2

2. 6

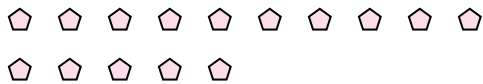
3. 5

4. 3

5. 2

6. 10

4) Combien de groupes de 5 pouvez-vous faire avec les 15 formes ci-dessous?



5) Combien de groupes de 3 pouvez-vous faire avec les 6 formes ci-dessous?

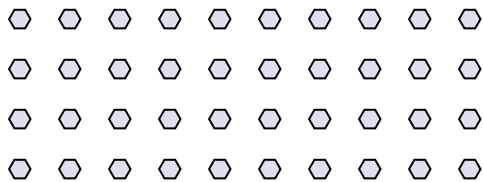


7. 8

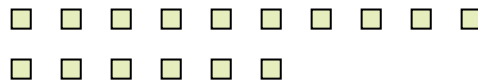
8. 5

9. 3

6) Combien de groupes de 4 pouvez-vous faire avec les 40 formes ci-dessous?




7) Combien de groupes de 2 pouvez-vous faire avec les 16 formes ci-dessous?




10. 3

11. 11

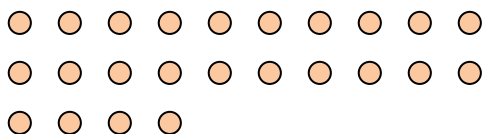
8) Combien de groupes de 6 pouvez-vous faire avec les 30 formes ci-dessous?




9) Combien de groupes de 7 pouvez-vous faire avec les 21 formes ci-dessous?



10) Combien de groupes de 8 pouvez-vous faire avec les 24 formes ci-dessous?



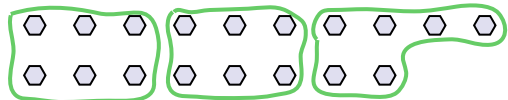
11) Combien de groupes de 2 pouvez-vous faire avec les 22 formes ci-dessous?



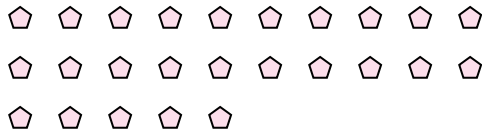


Utilisez les formes pour répondre aux questions.

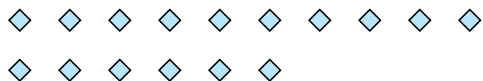
Ex) Combien de groupes de 6 pouvez-vous faire avec les 18 formes ci-dessous?



1) Combien de groupes de 5 pouvez-vous faire avec les 25 formes ci-dessous?




2) Combien de groupes de 4 pouvez-vous faire avec les 16 formes ci-dessous?




3) Combien de groupes de 2 pouvez-vous faire avec les 14 formes ci-dessous?



4) Combien de groupes de 4 pouvez-vous faire avec les 28 formes ci-dessous?



5) Combien de groupes de 9 pouvez-vous faire avec les 36 formes ci-dessous?




6) Combien de groupes de 9 pouvez-vous faire avec les 27 formes ci-dessous?




7) Combien de groupes de 6 pouvez-vous faire avec les 30 formes ci-dessous?



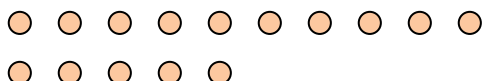
8) Combien de groupes de 2 pouvez-vous faire avec les 28 formes ci-dessous?




9) Combien de groupes de 9 pouvez-vous faire avec les 27 formes ci-dessous?



10) Combien de groupes de 5 pouvez-vous faire avec les 15 formes ci-dessous?



11) Combien de groupes de 4 pouvez-vous faire avec les 36 formes ci-dessous?



Réponses

Ex. 3

1. 5

2. 4

3. 7

4. 7

5. 4

6. 3

7. 5

8. 14

9. 3

10. 3


11. 9



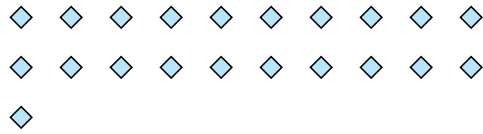
Utilisez les formes pour répondre aux questions.

Réponses

Ex) Combien de groupes de 6 pouvez-vous faire avec les 18 formes ci-dessous?



1) Combien de groupes de 7 pouvez-vous faire avec les 21 formes ci-dessous?



Ex. 3

1. 3

2. 5

3. 7

4. 3

5. 4

6. 10

7. 6

8. 2

9. 8

10. 8

11. 6


2) Combien de groupes de 6 pouvez-vous faire avec les 30 formes ci-dessous?



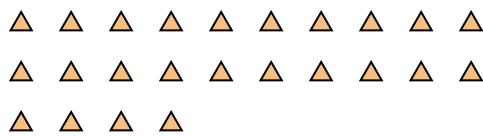
3) Combien de groupes de 4 pouvez-vous faire avec les 28 formes ci-dessous?




4) Combien de groupes de 9 pouvez-vous faire avec les 27 formes ci-dessous?



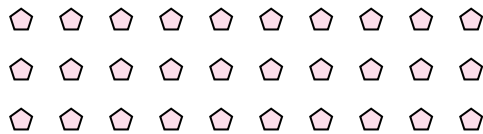
5) Combien de groupes de 6 pouvez-vous faire avec les 24 formes ci-dessous?



6) Combien de groupes de 3 pouvez-vous faire avec les 30 formes ci-dessous?



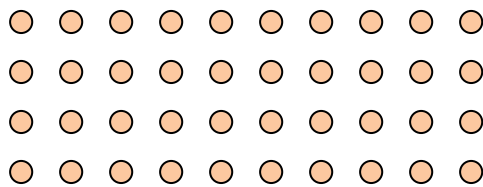
7) Combien de groupes de 5 pouvez-vous faire avec les 30 formes ci-dessous?



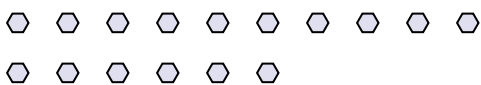
8) Combien de groupes de 7 pouvez-vous faire avec les 14 formes ci-dessous?




9) Combien de groupes de 5 pouvez-vous faire avec les 40 formes ci-dessous?



10) Combien de groupes de 2 pouvez-vous faire avec les 16 formes ci-dessous?



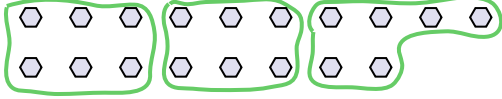
11) Combien de groupes de 5 pouvez-vous faire avec les 30 formes ci-dessous?





Utilisez les formes pour répondre aux questions.

Ex) Combien de groupes de 6 pouvez-vous faire avec les 18 formes ci-dessous?




1) Combien de groupes de 6 pouvez-vous faire avec les 12 formes ci-dessous?



Ex. 3

2) Combien de groupes de 7 pouvez-vous faire avec les 35 formes ci-dessous?




3) Combien de groupes de 4 pouvez-vous faire avec les 8 formes ci-dessous?

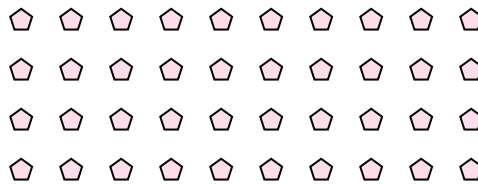


1. 2

4) Combien de groupes de 8 pouvez-vous faire avec les 24 formes ci-dessous?




5) Combien de groupes de 4 pouvez-vous faire avec les 40 formes ci-dessous?



2. 5

6) Combien de groupes de 6 pouvez-vous faire avec les 36 formes ci-dessous?




7) Combien de groupes de 5 pouvez-vous faire avec les 10 formes ci-dessous?

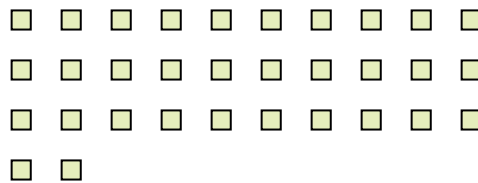


3. 2

8) Combien de groupes de 9 pouvez-vous faire avec les 27 formes ci-dessous?



9) Combien de groupes de 8 pouvez-vous faire avec les 32 formes ci-dessous?

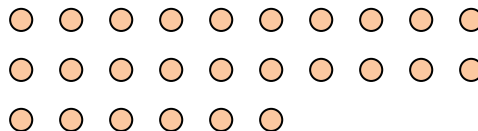


4. 3

10) Combien de groupes de 6 pouvez-vous faire avec les 18 formes ci-dessous?



11) Combien de groupes de 2 pouvez-vous faire avec les 26 formes ci-dessous?



5. 10

6. 6

7. 2

8. 3

9. 4

10. 3

11. 13

Réponses