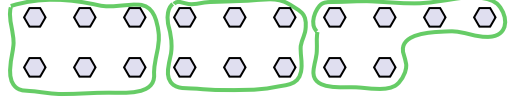





Utilisez les formes pour répondre aux questions.

Réponses

Ex) Combien de groupes de 6 pouvez-vous faire avec les 18 formes ci-dessous?

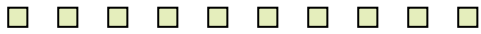


1) Combien de groupes de 6 pouvez-vous faire avec les 24 formes ci-dessous?




Ex. 3

2) Combien de groupes de 5 pouvez-vous faire avec les 10 formes ci-dessous?

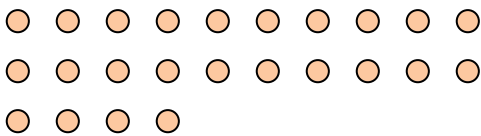


3) Combien de groupes de 4 pouvez-vous faire avec les 24 formes ci-dessous?



1. 4

4) Combien de groupes de 8 pouvez-vous faire avec les 24 formes ci-dessous?



5) Combien de groupes de 5 pouvez-vous faire avec les 40 formes ci-dessous?




2. 2

6) Combien de groupes de 6 pouvez-vous faire avec les 18 formes ci-dessous?




7) Combien de groupes de 6 pouvez-vous faire avec les 36 formes ci-dessous?




3. 6

8) Combien de groupes de 8 pouvez-vous faire avec les 32 formes ci-dessous?

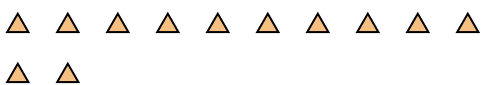


9) Combien de groupes de 3 pouvez-vous faire avec les 39 formes ci-dessous?

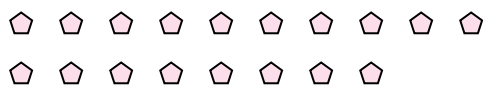


4. 3

10) Combien de groupes de 6 pouvez-vous faire avec les 12 formes ci-dessous?



11) Combien de groupes de 9 pouvez-vous faire avec les 18 formes ci-dessous?



5. 8

6. 3

7. 6

8. 4

9. 13

10. 2

11. 2