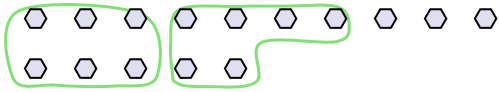




Utilisez les formes pour répondre aux questions.

**Réponses**

Ex) Il y a 15 formes ci-dessous. Combien de groupes de 6 pouvez-vous faire? Combien en restera-t-il?




1) Il y a 26 formes ci-dessous. Combien de groupes de 3 pouvez-vous faire? Combien en restera-t-il?



2) Il y a 10 formes ci-dessous. Combien de groupes de 3 pouvez-vous faire? Combien en restera-t-il?



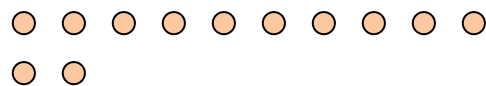
3) Il y a 30 formes ci-dessous. Combien de groupes de 7 pouvez-vous faire? Combien en restera-t-il?



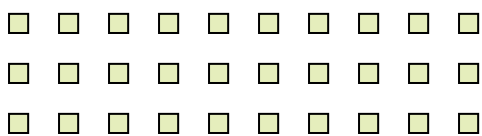
4) Il y a 10 formes ci-dessous. Combien de groupes de 7 pouvez-vous faire? Combien en restera-t-il?



5) Il y a 12 formes ci-dessous. Combien de groupes de 8 pouvez-vous faire? Combien en restera-t-il?




6) Il y a 30 formes ci-dessous. Combien de groupes de 4 pouvez-vous faire? Combien en restera-t-il?



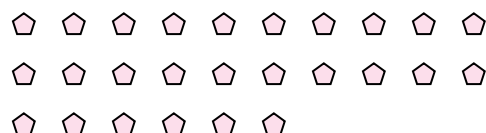
7) Il y a 11 formes ci-dessous. Combien de groupes de 8 pouvez-vous faire? Combien en restera-t-il?



8) Il y a 24 formes ci-dessous. Combien de groupes de 7 pouvez-vous faire? Combien en restera-t-il?



9) Il y a 26 formes ci-dessous. Combien de groupes de 5 pouvez-vous faire? Combien en restera-t-il?



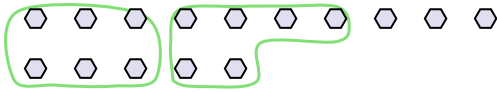
Ex.	<u>2</u>	<u>3</u>
1.	_____	_____
2.	_____	_____
3.	_____	_____
4.	_____	_____
5.	_____	_____
6.	_____	_____
7.	_____	_____
8.	_____	_____
9.	_____	_____



Utilisez les formes pour répondre aux questions.

**Réponses**

Ex) Il y a 15 formes ci-dessous. Combien de groupes de 6 pouvez-vous faire? Combien en restera-t-il?




1) Il y a 26 formes ci-dessous. Combien de groupes de 3 pouvez-vous faire? Combien en restera-t-il?



2) Il y a 10 formes ci-dessous. Combien de groupes de 3 pouvez-vous faire? Combien en restera-t-il?



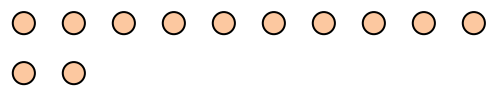
3) Il y a 30 formes ci-dessous. Combien de groupes de 7 pouvez-vous faire? Combien en restera-t-il?



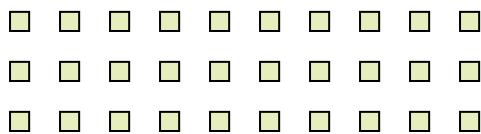
4) Il y a 10 formes ci-dessous. Combien de groupes de 7 pouvez-vous faire? Combien en restera-t-il?



5) Il y a 12 formes ci-dessous. Combien de groupes de 8 pouvez-vous faire? Combien en restera-t-il?




6) Il y a 30 formes ci-dessous. Combien de groupes de 4 pouvez-vous faire? Combien en restera-t-il?



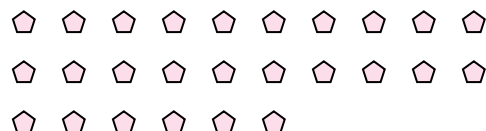
7) Il y a 11 formes ci-dessous. Combien de groupes de 8 pouvez-vous faire? Combien en restera-t-il?



8) Il y a 24 formes ci-dessous. Combien de groupes de 7 pouvez-vous faire? Combien en restera-t-il?



9) Il y a 26 formes ci-dessous. Combien de groupes de 5 pouvez-vous faire? Combien en restera-t-il?



Ex.	<u>2</u>	<u>3</u>
1.	<u>8</u>	<u>2</u>
2.	<u>3</u>	<u>1</u>
3.	<u>4</u>	<u>2</u>
4.	<u>1</u>	<u>3</u>
5.	<u>1</u>	<u>4</u>
6.	<u>7</u>	<u>2</u>
7.	<u>1</u>	<u>3</u>
8.	<u>3</u>	<u>3</u>
9.	<u>5</u>	<u>1</u>