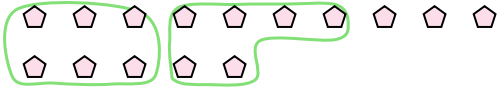




Utilisez les formes pour répondre aux questions.

Réponses

Ex) Il y a 15 formes ci-dessous. Combien de groupes de 6 pouvez-vous faire? Combien en restera-t-il?



1) Il y a 10 formes ci-dessous. Combien de groupes de 7 pouvez-vous faire? Combien en restera-t-il?

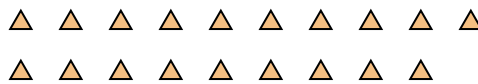


Ex. 2 3

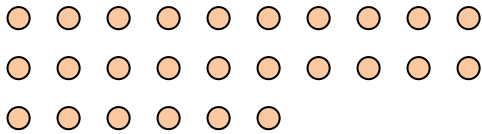
2) Il y a 10 formes ci-dessous. Combien de groupes de 3 pouvez-vous faire? Combien en restera-t-il?



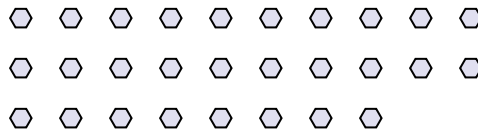
3) Il y a 19 formes ci-dessous. Combien de groupes de 6 pouvez-vous faire? Combien en restera-t-il?



4) Il y a 26 formes ci-dessous. Combien de groupes de 8 pouvez-vous faire? Combien en restera-t-il?




5) Il y a 28 formes ci-dessous. Combien de groupes de 8 pouvez-vous faire? Combien en restera-t-il?



6) Il y a 18 formes ci-dessous. Combien de groupes de 4 pouvez-vous faire? Combien en restera-t-il?



7) Il y a 28 formes ci-dessous. Combien de groupes de 7 pouvez-vous faire? Combien en restera-t-il?



8) Il y a 22 formes ci-dessous. Combien de groupes de 3 pouvez-vous faire? Combien en restera-t-il?



9) Il y a 20 formes ci-dessous. Combien de groupes de 2 pouvez-vous faire? Combien en restera-t-il?

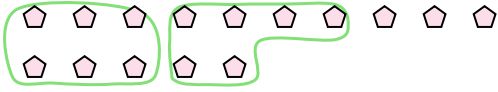


1.	_____	_____
2.	_____	_____
3.	_____	_____
4.	_____	_____
5.	_____	_____
6.	_____	_____
7.	_____	_____
8.	_____	_____
9.	_____	_____



Utilisez les formes pour répondre aux questions.

Ex) Il y a 15 formes ci-dessous. Combien de groupes de 6 pouvez-vous faire? Combien en restera-t-il?



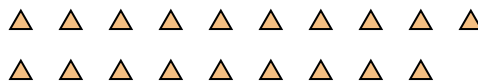
1) Il y a 10 formes ci-dessous. Combien de groupes de 7 pouvez-vous faire? Combien en restera-t-il?



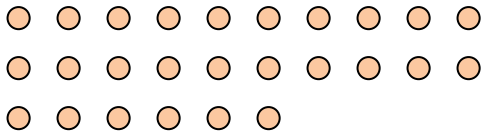
2) Il y a 10 formes ci-dessous. Combien de groupes de 3 pouvez-vous faire? Combien en restera-t-il?



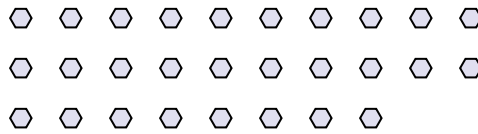
3) Il y a 19 formes ci-dessous. Combien de groupes de 6 pouvez-vous faire? Combien en restera-t-il?



4) Il y a 26 formes ci-dessous. Combien de groupes de 8 pouvez-vous faire? Combien en restera-t-il?




5) Il y a 28 formes ci-dessous. Combien de groupes de 8 pouvez-vous faire? Combien en restera-t-il?



6) Il y a 18 formes ci-dessous. Combien de groupes de 4 pouvez-vous faire? Combien en restera-t-il?



7) Il y a 28 formes ci-dessous. Combien de groupes de 7 pouvez-vous faire? Combien en restera-t-il?



8) Il y a 22 formes ci-dessous. Combien de groupes de 3 pouvez-vous faire? Combien en restera-t-il?



9) Il y a 20 formes ci-dessous. Combien de groupes de 2 pouvez-vous faire? Combien en restera-t-il?



Réponses

Ex.	<u> 2 </u>	<u> 3 </u>
1.	<u> 1 </u>	<u> 3 </u>
2.	<u> 3 </u>	<u> 1 </u>
3.	<u> 3 </u>	<u> 1 </u>
4.	<u> 3 </u>	<u> 2 </u>
5.	<u> 3 </u>	<u> 4 </u>
6.	<u> 4 </u>	<u> 2 </u>
7.	<u> 4 </u>	<u> 0 </u>
8.	<u> 7 </u>	<u> 1 </u>
9.	<u> 10 </u>	<u> 0 </u>