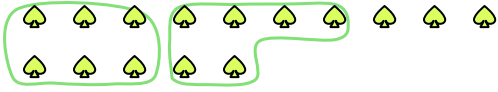





Utilisez les formes pour répondre aux questions.

**Réponses**

Ex) Il y a 15 formes ci-dessous. Combien de groupes de 6 pouvez-vous faire? Combien en restera-t-il?



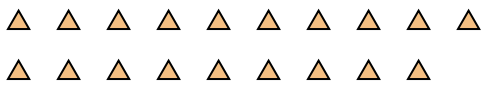
1) Il y a 26 formes ci-dessous. Combien de groupes de 3 pouvez-vous faire? Combien en restera-t-il?



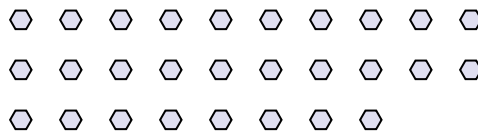
Ex. 2 3

- 1. \_\_\_\_\_
- 2. \_\_\_\_\_
- 3. \_\_\_\_\_
- 4. \_\_\_\_\_
- 5. \_\_\_\_\_
- 6. \_\_\_\_\_
- 7. \_\_\_\_\_
- 8. \_\_\_\_\_
- 9. \_\_\_\_\_


2) Il y a 19 formes ci-dessous. Combien de groupes de 6 pouvez-vous faire? Combien en restera-t-il?



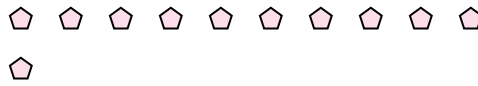
3) Il y a 28 formes ci-dessous. Combien de groupes de 8 pouvez-vous faire? Combien en restera-t-il?



4) Il y a 22 formes ci-dessous. Combien de groupes de 4 pouvez-vous faire? Combien en restera-t-il?



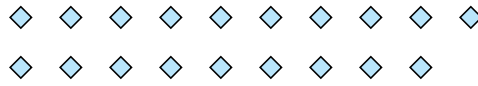
5) Il y a 11 formes ci-dessous. Combien de groupes de 8 pouvez-vous faire? Combien en restera-t-il?




6) Il y a 19 formes ci-dessous. Combien de groupes de 2 pouvez-vous faire? Combien en restera-t-il?



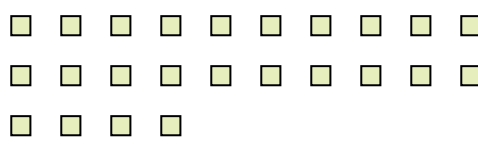
7) Il y a 19 formes ci-dessous. Combien de groupes de 2 pouvez-vous faire? Combien en restera-t-il?



8) Il y a 23 formes ci-dessous. Combien de groupes de 9 pouvez-vous faire? Combien en restera-t-il?



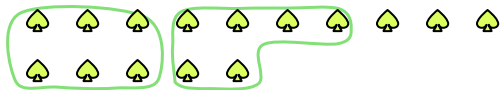
9) Il y a 24 formes ci-dessous. Combien de groupes de 9 pouvez-vous faire? Combien en restera-t-il?






Utilisez les formes pour répondre aux questions.


Ex) Il y a 15 formes ci-dessous. Combien de groupes de 6 pouvez-vous faire? Combien en restera-t-il?



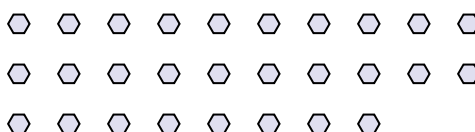
1) Il y a 26 formes ci-dessous. Combien de groupes de 3 pouvez-vous faire? Combien en restera-t-il?



2) Il y a 19 formes ci-dessous. Combien de groupes de 6 pouvez-vous faire? Combien en restera-t-il?



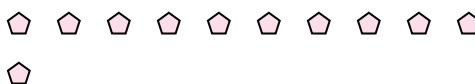
3) Il y a 28 formes ci-dessous. Combien de groupes de 8 pouvez-vous faire? Combien en restera-t-il?



4) Il y a 22 formes ci-dessous. Combien de groupes de 4 pouvez-vous faire? Combien en restera-t-il?



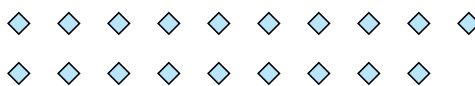
5) Il y a 11 formes ci-dessous. Combien de groupes de 8 pouvez-vous faire? Combien en restera-t-il?




6) Il y a 19 formes ci-dessous. Combien de groupes de 2 pouvez-vous faire? Combien en restera-t-il?



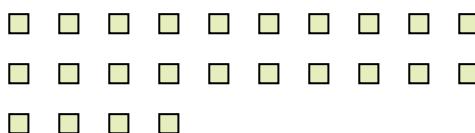
7) Il y a 19 formes ci-dessous. Combien de groupes de 2 pouvez-vous faire? Combien en restera-t-il?



8) Il y a 23 formes ci-dessous. Combien de groupes de 9 pouvez-vous faire? Combien en restera-t-il?



9) Il y a 24 formes ci-dessous. Combien de groupes de 9 pouvez-vous faire? Combien en restera-t-il?



**Réponses**

Ex.	<u>2</u>	<u>3</u>
1.	<u>8</u>	<u>2</u>
2.	<u>3</u>	<u>1</u>
3.	<u>3</u>	<u>4</u>
4.	<u>5</u>	<u>2</u>
5.	<u>1</u>	<u>3</u>
6.	<u>9</u>	<u>1</u>
7.	<u>9</u>	<u>1</u>
8.	<u>2</u>	<u>5</u>
9.	<u>2</u>	<u>6</u>