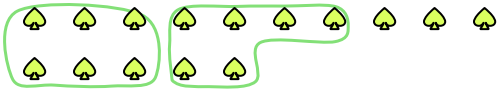




Utilisez les formes pour répondre aux questions.

Réponses

Ex) Il y a 15 formes ci-dessous. Combien de groupes de 6 pouvez-vous faire? Combien en restera-t-il?



1) Il y a 30 formes ci-dessous. Combien de groupes de 5 pouvez-vous faire? Combien en restera-t-il?



Ex. 2 3

2) Il y a 15 formes ci-dessous. Combien de groupes de 7 pouvez-vous faire? Combien en restera-t-il?



3) Il y a 11 formes ci-dessous. Combien de groupes de 6 pouvez-vous faire? Combien en restera-t-il?



1. _____

2. _____

3. _____

4. _____

5. _____


6. _____

7. _____

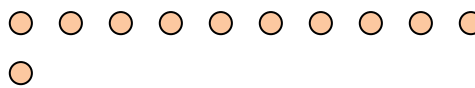
8. _____

9. _____

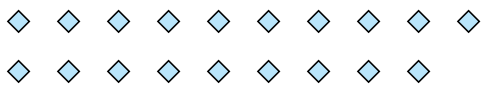
4) Il y a 16 formes ci-dessous. Combien de groupes de 3 pouvez-vous faire? Combien en restera-t-il?



5) Il y a 11 formes ci-dessous. Combien de groupes de 2 pouvez-vous faire? Combien en restera-t-il?




6) Il y a 19 formes ci-dessous. Combien de groupes de 5 pouvez-vous faire? Combien en restera-t-il?



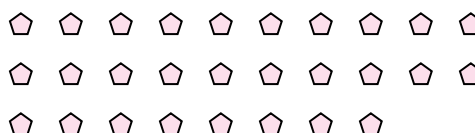
7) Il y a 13 formes ci-dessous. Combien de groupes de 9 pouvez-vous faire? Combien en restera-t-il?



8) Il y a 27 formes ci-dessous. Combien de groupes de 9 pouvez-vous faire? Combien en restera-t-il?



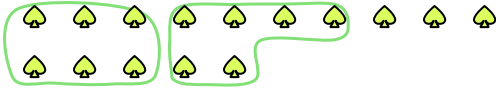
9) Il y a 28 formes ci-dessous. Combien de groupes de 2 pouvez-vous faire? Combien en restera-t-il?





Utilisez les formes pour répondre aux questions.

Ex) Il y a 15 formes ci-dessous. Combien de groupes de 6 pouvez-vous faire? Combien en restera-t-il?



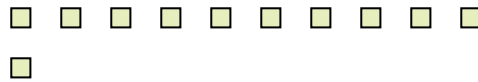
1) Il y a 30 formes ci-dessous. Combien de groupes de 5 pouvez-vous faire? Combien en restera-t-il?




2) Il y a 15 formes ci-dessous. Combien de groupes de 7 pouvez-vous faire? Combien en restera-t-il?



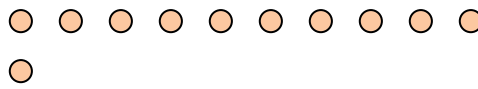
3) Il y a 11 formes ci-dessous. Combien de groupes de 6 pouvez-vous faire? Combien en restera-t-il?



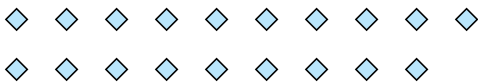
4) Il y a 16 formes ci-dessous. Combien de groupes de 3 pouvez-vous faire? Combien en restera-t-il?



5) Il y a 11 formes ci-dessous. Combien de groupes de 2 pouvez-vous faire? Combien en restera-t-il?




6) Il y a 19 formes ci-dessous. Combien de groupes de 5 pouvez-vous faire? Combien en restera-t-il?



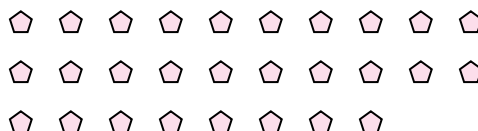
7) Il y a 13 formes ci-dessous. Combien de groupes de 9 pouvez-vous faire? Combien en restera-t-il?



8) Il y a 27 formes ci-dessous. Combien de groupes de 9 pouvez-vous faire? Combien en restera-t-il?



9) Il y a 28 formes ci-dessous. Combien de groupes de 2 pouvez-vous faire? Combien en restera-t-il?



Réponses

Ex.	<u>2</u>	<u>3</u>
1.	<u>6</u>	<u>0</u>
2.	<u>2</u>	<u>1</u>
3.	<u>1</u>	<u>5</u>
4.	<u>5</u>	<u>1</u>
5.	<u>5</u>	<u>1</u>
6.	<u>3</u>	<u>4</u>
7.	<u>1</u>	<u>4</u>
8.	<u>3</u>	<u>0</u>
9.	<u>14</u>	<u>0</u>