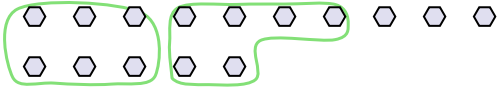




Utilisez les formes pour répondre aux questions.

Réponses

Ex) Il y a 15 formes ci-dessous. Combien de groupes de 6 pouvez-vous faire? Combien en restera-t-il?

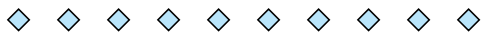


1) Il y a 26 formes ci-dessous. Combien de groupes de 3 pouvez-vous faire? Combien en restera-t-il?




Ex. 2 3

2) Il y a 10 formes ci-dessous. Combien de groupes de 3 pouvez-vous faire? Combien en restera-t-il?



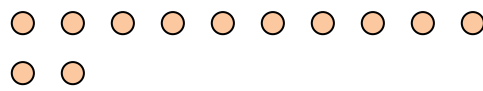
3) Il y a 30 formes ci-dessous. Combien de groupes de 7 pouvez-vous faire? Combien en restera-t-il?



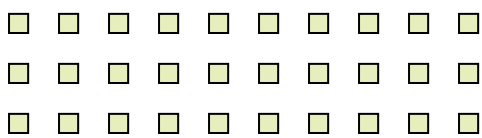
4) Il y a 10 formes ci-dessous. Combien de groupes de 7 pouvez-vous faire? Combien en restera-t-il?



5) Il y a 12 formes ci-dessous. Combien de groupes de 8 pouvez-vous faire? Combien en restera-t-il?




6) Il y a 30 formes ci-dessous. Combien de groupes de 4 pouvez-vous faire? Combien en restera-t-il?



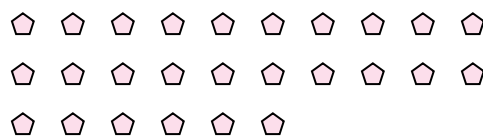
7) Il y a 11 formes ci-dessous. Combien de groupes de 8 pouvez-vous faire? Combien en restera-t-il?



8) Il y a 24 formes ci-dessous. Combien de groupes de 7 pouvez-vous faire? Combien en restera-t-il?



9) Il y a 26 formes ci-dessous. Combien de groupes de 5 pouvez-vous faire? Combien en restera-t-il?



1. \_\_\_\_\_

2. \_\_\_\_\_

3. \_\_\_\_\_

4. \_\_\_\_\_

5. \_\_\_\_\_

6. \_\_\_\_\_

7. \_\_\_\_\_

8. \_\_\_\_\_

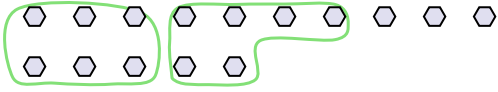
9. \_\_\_\_\_



Utilisez les formes pour répondre aux questions.

**Réponses**

Ex) Il y a 15 formes ci-dessous. Combien de groupes de 6 pouvez-vous faire? Combien en restera-t-il?



1) Il y a 26 formes ci-dessous. Combien de groupes de 3 pouvez-vous faire? Combien en restera-t-il?



Ex.   2     3  

1.   8     2  

2.   3     1  

3.   4     2  

4.   1     3  

5.   1     4  

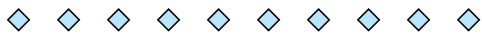
6.   7     2  

7.   1     3  


8.   3     3  

9.   5     1  


2) Il y a 10 formes ci-dessous. Combien de groupes de 3 pouvez-vous faire? Combien en restera-t-il?



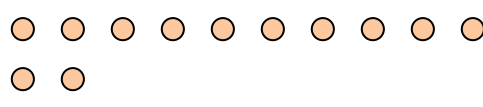
3) Il y a 30 formes ci-dessous. Combien de groupes de 7 pouvez-vous faire? Combien en restera-t-il?



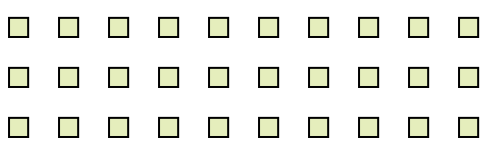
4) Il y a 10 formes ci-dessous. Combien de groupes de 7 pouvez-vous faire? Combien en restera-t-il?



5) Il y a 12 formes ci-dessous. Combien de groupes de 8 pouvez-vous faire? Combien en restera-t-il?



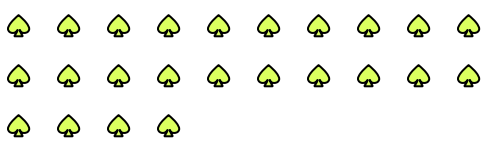
6) Il y a 30 formes ci-dessous. Combien de groupes de 4 pouvez-vous faire? Combien en restera-t-il?



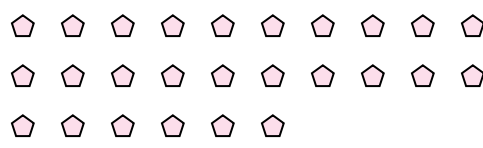
7) Il y a 11 formes ci-dessous. Combien de groupes de 8 pouvez-vous faire? Combien en restera-t-il?



8) Il y a 24 formes ci-dessous. Combien de groupes de 7 pouvez-vous faire? Combien en restera-t-il?



9) Il y a 26 formes ci-dessous. Combien de groupes de 5 pouvez-vous faire? Combien en restera-t-il?

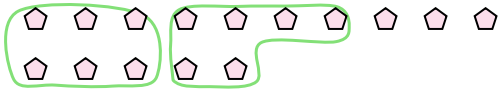




Utilisez les formes pour répondre aux questions.

**Réponses**

Ex) Il y a 15 formes ci-dessous. Combien de groupes de 6 pouvez-vous faire? Combien en restera-t-il?



1) Il y a 10 formes ci-dessous. Combien de groupes de 7 pouvez-vous faire? Combien en restera-t-il?

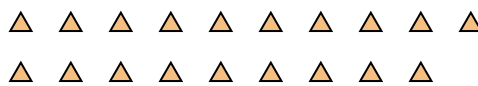


Ex. 2 3

2) Il y a 10 formes ci-dessous. Combien de groupes de 3 pouvez-vous faire? Combien en restera-t-il?



3) Il y a 19 formes ci-dessous. Combien de groupes de 6 pouvez-vous faire? Combien en restera-t-il?



1. \_\_\_\_\_

2. \_\_\_\_\_

3. \_\_\_\_\_

4. \_\_\_\_\_

5. \_\_\_\_\_

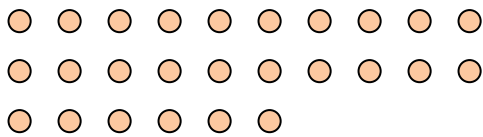
6. \_\_\_\_\_

7. \_\_\_\_\_

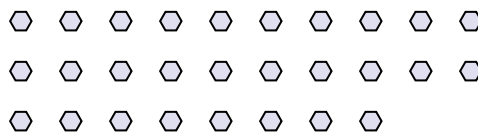
8. \_\_\_\_\_

9. \_\_\_\_\_

4) Il y a 26 formes ci-dessous. Combien de groupes de 8 pouvez-vous faire? Combien en restera-t-il?




5) Il y a 28 formes ci-dessous. Combien de groupes de 8 pouvez-vous faire? Combien en restera-t-il?



6) Il y a 18 formes ci-dessous. Combien de groupes de 4 pouvez-vous faire? Combien en restera-t-il?



7) Il y a 28 formes ci-dessous. Combien de groupes de 7 pouvez-vous faire? Combien en restera-t-il?



8) Il y a 22 formes ci-dessous. Combien de groupes de 3 pouvez-vous faire? Combien en restera-t-il?



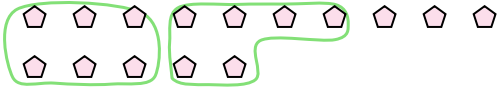
9) Il y a 20 formes ci-dessous. Combien de groupes de 2 pouvez-vous faire? Combien en restera-t-il?





Utilisez les formes pour répondre aux questions.

Ex) Il y a 15 formes ci-dessous. Combien de groupes de 6 pouvez-vous faire? Combien en restera-t-il?



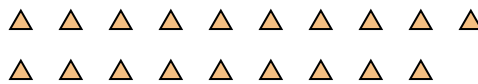
1) Il y a 10 formes ci-dessous. Combien de groupes de 7 pouvez-vous faire? Combien en restera-t-il?



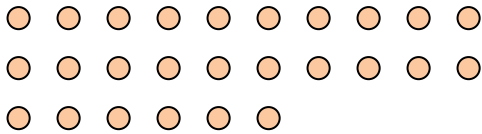
2) Il y a 10 formes ci-dessous. Combien de groupes de 3 pouvez-vous faire? Combien en restera-t-il?



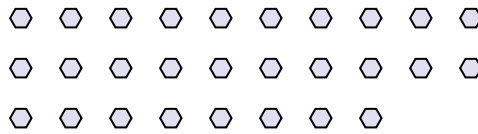
3) Il y a 19 formes ci-dessous. Combien de groupes de 6 pouvez-vous faire? Combien en restera-t-il?



4) Il y a 26 formes ci-dessous. Combien de groupes de 8 pouvez-vous faire? Combien en restera-t-il?




5) Il y a 28 formes ci-dessous. Combien de groupes de 8 pouvez-vous faire? Combien en restera-t-il?



6) Il y a 18 formes ci-dessous. Combien de groupes de 4 pouvez-vous faire? Combien en restera-t-il?



7) Il y a 28 formes ci-dessous. Combien de groupes de 7 pouvez-vous faire? Combien en restera-t-il?



8) Il y a 22 formes ci-dessous. Combien de groupes de 3 pouvez-vous faire? Combien en restera-t-il?



9) Il y a 20 formes ci-dessous. Combien de groupes de 2 pouvez-vous faire? Combien en restera-t-il?



**Réponses**

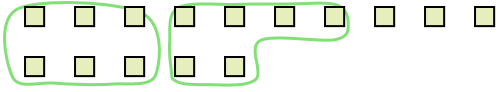
Ex.	<u>  2  </u>	<u>  3  </u>
1.	<u>  1  </u>	<u>  3  </u>
2.	<u>  3  </u>	<u>  1  </u>
3.	<u>  3  </u>	<u>  1  </u>
4.	<u>  3  </u>	<u>  2  </u>
5.	<u>  3  </u>	<u>  4  </u>
6.	<u>  4  </u>	<u>  2  </u>
7.	<u>  4  </u>	<u>  0  </u>
8.	<u>  7  </u>	<u>  1  </u>
9.	<u> 10  </u>	<u>  0  </u>




Utilisez les formes pour répondre aux questions.

**Réponses**

Ex) Il y a 15 formes ci-dessous. Combien de groupes de 6 pouvez-vous faire? Combien en restera-t-il?




1) Il y a 18 formes ci-dessous. Combien de groupes de 3 pouvez-vous faire? Combien en restera-t-il?



Ex. 2 3

2) Il y a 27 formes ci-dessous. Combien de groupes de 4 pouvez-vous faire? Combien en restera-t-il?

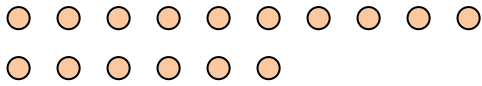


3) Il y a 11 formes ci-dessous. Combien de groupes de 2 pouvez-vous faire? Combien en restera-t-il?

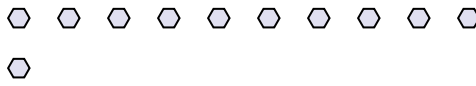


1.	_____	_____
2.	_____	_____
3.	_____	_____
4.	_____	_____
5.	_____	_____
6.	_____	_____
7.	_____	_____
8.	_____	_____
9.	_____	_____

4) Il y a 16 formes ci-dessous. Combien de groupes de 4 pouvez-vous faire? Combien en restera-t-il?



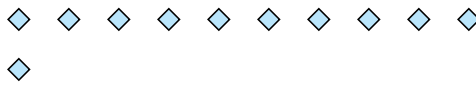
5) Il y a 11 formes ci-dessous. Combien de groupes de 9 pouvez-vous faire? Combien en restera-t-il?




6) Il y a 16 formes ci-dessous. Combien de groupes de 6 pouvez-vous faire? Combien en restera-t-il?



7) Il y a 11 formes ci-dessous. Combien de groupes de 3 pouvez-vous faire? Combien en restera-t-il?



8) Il y a 30 formes ci-dessous. Combien de groupes de 6 pouvez-vous faire? Combien en restera-t-il?



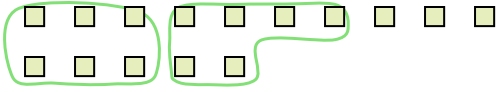
9) Il y a 20 formes ci-dessous. Combien de groupes de 4 pouvez-vous faire? Combien en restera-t-il?






Utilisez les formes pour répondre aux questions.


Ex) Il y a 15 formes ci-dessous. Combien de groupes de 6 pouvez-vous faire? Combien en restera-t-il?



1) Il y a 18 formes ci-dessous. Combien de groupes de 3 pouvez-vous faire? Combien en restera-t-il?



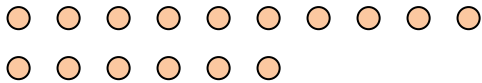
2) Il y a 27 formes ci-dessous. Combien de groupes de 4 pouvez-vous faire? Combien en restera-t-il?



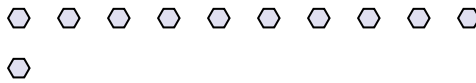
3) Il y a 11 formes ci-dessous. Combien de groupes de 2 pouvez-vous faire? Combien en restera-t-il?



4) Il y a 16 formes ci-dessous. Combien de groupes de 4 pouvez-vous faire? Combien en restera-t-il?



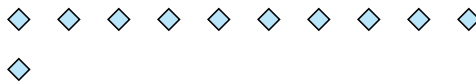
5) Il y a 11 formes ci-dessous. Combien de groupes de 9 pouvez-vous faire? Combien en restera-t-il?




6) Il y a 16 formes ci-dessous. Combien de groupes de 6 pouvez-vous faire? Combien en restera-t-il?



7) Il y a 11 formes ci-dessous. Combien de groupes de 3 pouvez-vous faire? Combien en restera-t-il?



8) Il y a 30 formes ci-dessous. Combien de groupes de 6 pouvez-vous faire? Combien en restera-t-il?



9) Il y a 20 formes ci-dessous. Combien de groupes de 4 pouvez-vous faire? Combien en restera-t-il?



**Réponses**

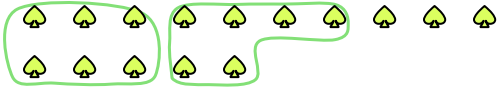
Ex.	<u>2</u>	<u>3</u>
1.	<u>6</u>	<u>0</u>
2.	<u>6</u>	<u>3</u>
3.	<u>5</u>	<u>1</u>
4.	<u>4</u>	<u>0</u>
5.	<u>1</u>	<u>2</u>
6.	<u>2</u>	<u>4</u>
7.	<u>3</u>	<u>2</u>
8.	<u>5</u>	<u>0</u>
9.	<u>5</u>	<u>0</u>




Utilisez les formes pour répondre aux questions.

**Réponses**

Ex) Il y a 15 formes ci-dessous. Combien de groupes de 6 pouvez-vous faire? Combien en restera-t-il?



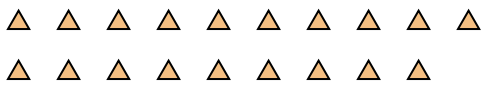
1) Il y a 26 formes ci-dessous. Combien de groupes de 3 pouvez-vous faire? Combien en restera-t-il?



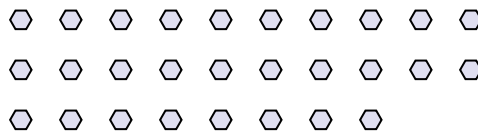
Ex. 2 3

- 1. \_\_\_\_\_
- 2. \_\_\_\_\_
- 3. \_\_\_\_\_
- 4. \_\_\_\_\_
- 5. \_\_\_\_\_
- 6. \_\_\_\_\_
- 7. \_\_\_\_\_
- 8. \_\_\_\_\_
- 9. \_\_\_\_\_

2) Il y a 19 formes ci-dessous. Combien de groupes de 6 pouvez-vous faire? Combien en restera-t-il?



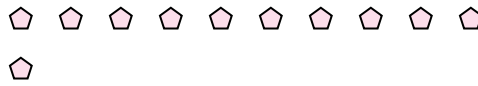
3) Il y a 28 formes ci-dessous. Combien de groupes de 8 pouvez-vous faire? Combien en restera-t-il?



4) Il y a 22 formes ci-dessous. Combien de groupes de 4 pouvez-vous faire? Combien en restera-t-il?



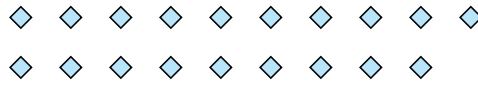
5) Il y a 11 formes ci-dessous. Combien de groupes de 8 pouvez-vous faire? Combien en restera-t-il?




6) Il y a 19 formes ci-dessous. Combien de groupes de 2 pouvez-vous faire? Combien en restera-t-il?



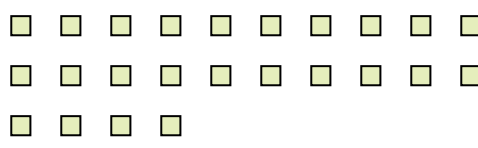
7) Il y a 19 formes ci-dessous. Combien de groupes de 2 pouvez-vous faire? Combien en restera-t-il?



8) Il y a 23 formes ci-dessous. Combien de groupes de 9 pouvez-vous faire? Combien en restera-t-il?



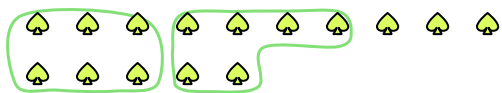
9) Il y a 24 formes ci-dessous. Combien de groupes de 9 pouvez-vous faire? Combien en restera-t-il?






Utilisez les formes pour répondre aux questions.


Ex) Il y a 15 formes ci-dessous. Combien de groupes de 6 pouvez-vous faire? Combien en restera-t-il?



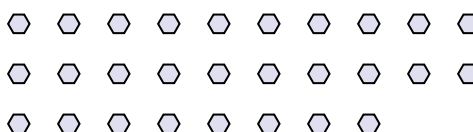
1) Il y a 26 formes ci-dessous. Combien de groupes de 3 pouvez-vous faire? Combien en restera-t-il?



2) Il y a 19 formes ci-dessous. Combien de groupes de 6 pouvez-vous faire? Combien en restera-t-il?



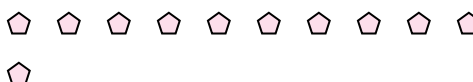
3) Il y a 28 formes ci-dessous. Combien de groupes de 8 pouvez-vous faire? Combien en restera-t-il?



4) Il y a 22 formes ci-dessous. Combien de groupes de 4 pouvez-vous faire? Combien en restera-t-il?



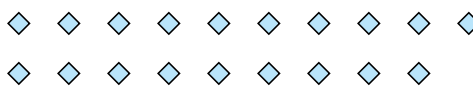
5) Il y a 11 formes ci-dessous. Combien de groupes de 8 pouvez-vous faire? Combien en restera-t-il?




6) Il y a 19 formes ci-dessous. Combien de groupes de 2 pouvez-vous faire? Combien en restera-t-il?



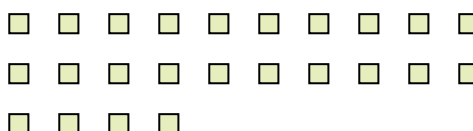
7) Il y a 19 formes ci-dessous. Combien de groupes de 2 pouvez-vous faire? Combien en restera-t-il?



8) Il y a 23 formes ci-dessous. Combien de groupes de 9 pouvez-vous faire? Combien en restera-t-il?



9) Il y a 24 formes ci-dessous. Combien de groupes de 9 pouvez-vous faire? Combien en restera-t-il?



**Réponses**

Ex.	<u>2</u>	<u>3</u>
1.	<u>8</u>	<u>2</u>
2.	<u>3</u>	<u>1</u>
3.	<u>3</u>	<u>4</u>
4.	<u>5</u>	<u>2</u>
5.	<u>1</u>	<u>3</u>
6.	<u>9</u>	<u>1</u>
7.	<u>9</u>	<u>1</u>
8.	<u>2</u>	<u>5</u>
9.	<u>2</u>	<u>6</u>

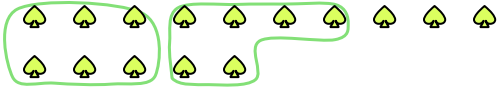




Utilisez les formes pour répondre aux questions.

**Réponses**

Ex) Il y a 15 formes ci-dessous. Combien de groupes de 6 pouvez-vous faire? Combien en restera-t-il?



1) Il y a 30 formes ci-dessous. Combien de groupes de 5 pouvez-vous faire? Combien en restera-t-il?



Ex. 2 3

2) Il y a 15 formes ci-dessous. Combien de groupes de 7 pouvez-vous faire? Combien en restera-t-il?




3) Il y a 11 formes ci-dessous. Combien de groupes de 6 pouvez-vous faire? Combien en restera-t-il?

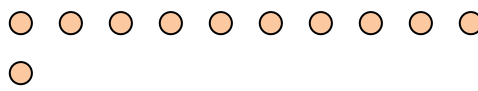


- 1. \_\_\_\_\_
- 2. \_\_\_\_\_
- 3. \_\_\_\_\_
- 4. \_\_\_\_\_
- 5. \_\_\_\_\_
- 6. \_\_\_\_\_
- 7. \_\_\_\_\_
- 8. \_\_\_\_\_
- 9. \_\_\_\_\_

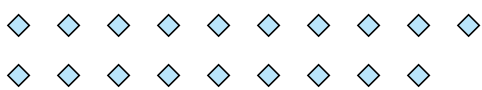
4) Il y a 16 formes ci-dessous. Combien de groupes de 3 pouvez-vous faire? Combien en restera-t-il?



5) Il y a 11 formes ci-dessous. Combien de groupes de 2 pouvez-vous faire? Combien en restera-t-il?




6) Il y a 19 formes ci-dessous. Combien de groupes de 5 pouvez-vous faire? Combien en restera-t-il?



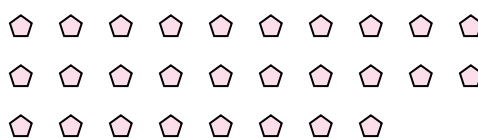
7) Il y a 13 formes ci-dessous. Combien de groupes de 9 pouvez-vous faire? Combien en restera-t-il?



8) Il y a 27 formes ci-dessous. Combien de groupes de 9 pouvez-vous faire? Combien en restera-t-il?



9) Il y a 28 formes ci-dessous. Combien de groupes de 2 pouvez-vous faire? Combien en restera-t-il?

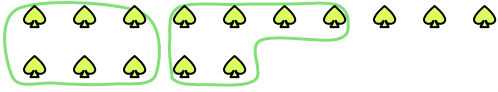




Utilisez les formes pour répondre aux questions.

**Réponses**

Ex) Il y a 15 formes ci-dessous. Combien de groupes de 6 pouvez-vous faire? Combien en restera-t-il?



1) Il y a 30 formes ci-dessous. Combien de groupes de 5 pouvez-vous faire? Combien en restera-t-il?




2) Il y a 15 formes ci-dessous. Combien de groupes de 7 pouvez-vous faire? Combien en restera-t-il?



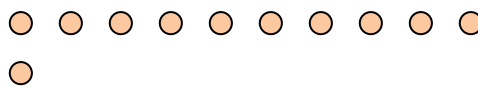
3) Il y a 11 formes ci-dessous. Combien de groupes de 6 pouvez-vous faire? Combien en restera-t-il?



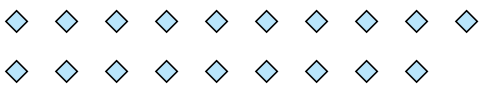
4) Il y a 16 formes ci-dessous. Combien de groupes de 3 pouvez-vous faire? Combien en restera-t-il?



5) Il y a 11 formes ci-dessous. Combien de groupes de 2 pouvez-vous faire? Combien en restera-t-il?




6) Il y a 19 formes ci-dessous. Combien de groupes de 5 pouvez-vous faire? Combien en restera-t-il?



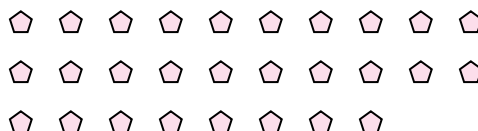
7) Il y a 13 formes ci-dessous. Combien de groupes de 9 pouvez-vous faire? Combien en restera-t-il?



8) Il y a 27 formes ci-dessous. Combien de groupes de 9 pouvez-vous faire? Combien en restera-t-il?



9) Il y a 28 formes ci-dessous. Combien de groupes de 2 pouvez-vous faire? Combien en restera-t-il?



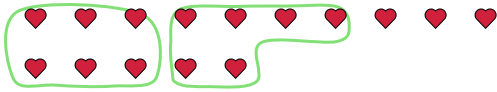
	<b>2</b>	<b>3</b>
Ex.	<u>2</u>	<u>3</u>
1.	<u>6</u>	<u>0</u>
2.	<u>2</u>	<u>1</u>
3.	<u>1</u>	<u>5</u>
4.	<u>5</u>	<u>1</u>
5.	<u>5</u>	<u>1</u>
6.	<u>3</u>	<u>4</u>
7.	<u>1</u>	<u>4</u>
8.	<u>3</u>	<u>0</u>
9.	<u>14</u>	<u>0</u>



Utilisez les formes pour répondre aux questions.

Réponses

Ex) Il y a 15 formes ci-dessous. Combien de groupes de 6 pouvez-vous faire? Combien en restera-t-il?



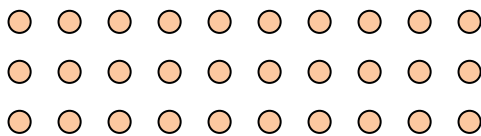
1) Il y a 17 formes ci-dessous. Combien de groupes de 2 pouvez-vous faire? Combien en restera-t-il?



Ex. 2 3

- 1. \_\_\_\_\_
- 2. \_\_\_\_\_
- 3. \_\_\_\_\_
- 4. \_\_\_\_\_
- 5. \_\_\_\_\_
- 6. \_\_\_\_\_
- 7. \_\_\_\_\_
- 8. \_\_\_\_\_
- 9. \_\_\_\_\_


2) Il y a 30 formes ci-dessous. Combien de groupes de 9 pouvez-vous faire? Combien en restera-t-il?



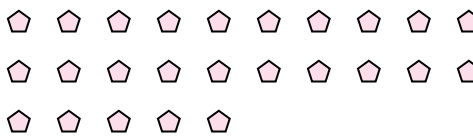
3) Il y a 13 formes ci-dessous. Combien de groupes de 3 pouvez-vous faire? Combien en restera-t-il?



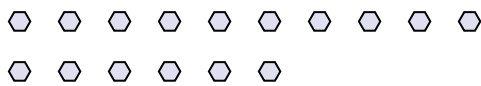
4) Il y a 10 formes ci-dessous. Combien de groupes de 7 pouvez-vous faire? Combien en restera-t-il?



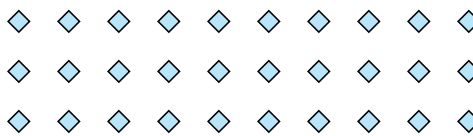
5) Il y a 25 formes ci-dessous. Combien de groupes de 2 pouvez-vous faire? Combien en restera-t-il?



6) Il y a 16 formes ci-dessous. Combien de groupes de 8 pouvez-vous faire? Combien en restera-t-il?



7) Il y a 30 formes ci-dessous. Combien de groupes de 9 pouvez-vous faire? Combien en restera-t-il?



8) Il y a 15 formes ci-dessous. Combien de groupes de 4 pouvez-vous faire? Combien en restera-t-il?



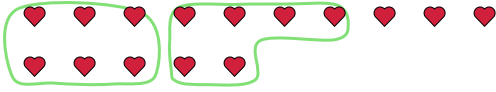
9) Il y a 26 formes ci-dessous. Combien de groupes de 7 pouvez-vous faire? Combien en restera-t-il?





Utilisez les formes pour répondre aux questions.

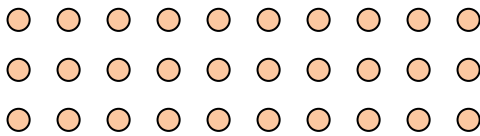
Ex) Il y a 15 formes ci-dessous. Combien de groupes de 6 pouvez-vous faire? Combien en restera-t-il?



1) Il y a 17 formes ci-dessous. Combien de groupes de 2 pouvez-vous faire? Combien en restera-t-il?



2) Il y a 30 formes ci-dessous. Combien de groupes de 9 pouvez-vous faire? Combien en restera-t-il?



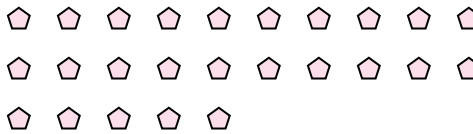
3) Il y a 13 formes ci-dessous. Combien de groupes de 3 pouvez-vous faire? Combien en restera-t-il?



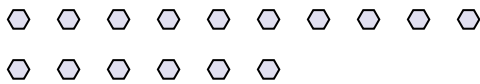
4) Il y a 10 formes ci-dessous. Combien de groupes de 7 pouvez-vous faire? Combien en restera-t-il?



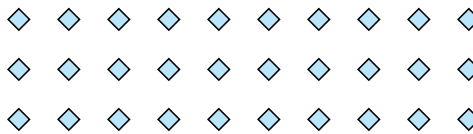
5) Il y a 25 formes ci-dessous. Combien de groupes de 2 pouvez-vous faire? Combien en restera-t-il?



6) Il y a 16 formes ci-dessous. Combien de groupes de 8 pouvez-vous faire? Combien en restera-t-il?



7) Il y a 30 formes ci-dessous. Combien de groupes de 9 pouvez-vous faire? Combien en restera-t-il?



8) Il y a 15 formes ci-dessous. Combien de groupes de 4 pouvez-vous faire? Combien en restera-t-il?



9) Il y a 26 formes ci-dessous. Combien de groupes de 7 pouvez-vous faire? Combien en restera-t-il?



**Réponses**

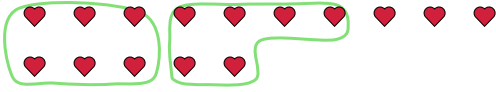
Ex.	<u>2</u>	<u>3</u>
1.	<u>8</u>	<u>1</u>
2.	<u>3</u>	<u>3</u>
3.	<u>4</u>	<u>1</u>
4.	<u>1</u>	<u>3</u>
5.	<u>12</u>	<u>1</u>
6.	<u>2</u>	<u>0</u>
7.	<u>3</u>	<u>3</u>
8.	<u>3</u>	<u>3</u>
9.	<u>3</u>	<u>5</u>



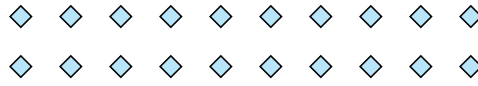
Utilisez les formes pour répondre aux questions.

**Réponses**

Ex) Il y a 15 formes ci-dessous. Combien de groupes de 6 pouvez-vous faire? Combien en restera-t-il?



1) Il y a 20 formes ci-dessous. Combien de groupes de 8 pouvez-vous faire? Combien en restera-t-il?



Ex.   2     3  

1. \_\_\_\_\_

2. \_\_\_\_\_

3. \_\_\_\_\_

4. \_\_\_\_\_

5. \_\_\_\_\_

6. \_\_\_\_\_

7. \_\_\_\_\_

8. \_\_\_\_\_

9. \_\_\_\_\_

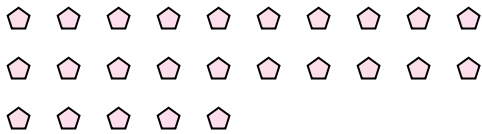
2) Il y a 10 formes ci-dessous. Combien de groupes de 6 pouvez-vous faire? Combien en restera-t-il?



3) Il y a 13 formes ci-dessous. Combien de groupes de 5 pouvez-vous faire? Combien en restera-t-il?



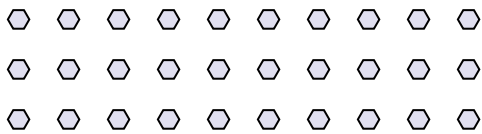
4) Il y a 25 formes ci-dessous. Combien de groupes de 5 pouvez-vous faire? Combien en restera-t-il?



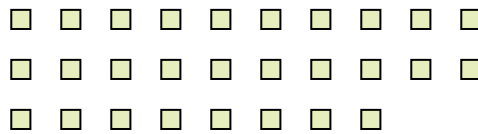
5) Il y a 13 formes ci-dessous. Combien de groupes de 3 pouvez-vous faire? Combien en restera-t-il?




6) Il y a 30 formes ci-dessous. Combien de groupes de 4 pouvez-vous faire? Combien en restera-t-il?



7) Il y a 28 formes ci-dessous. Combien de groupes de 2 pouvez-vous faire? Combien en restera-t-il?



8) Il y a 26 formes ci-dessous. Combien de groupes de 6 pouvez-vous faire? Combien en restera-t-il?



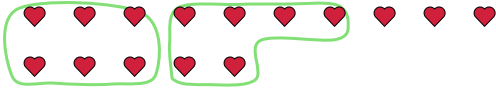
9) Il y a 20 formes ci-dessous. Combien de groupes de 7 pouvez-vous faire? Combien en restera-t-il?



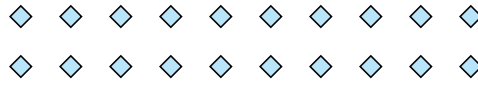


Utilisez les formes pour répondre aux questions.


Ex) Il y a 15 formes ci-dessous. Combien de groupes de 6 pouvez-vous faire? Combien en restera-t-il?



1) Il y a 20 formes ci-dessous. Combien de groupes de 8 pouvez-vous faire? Combien en restera-t-il?



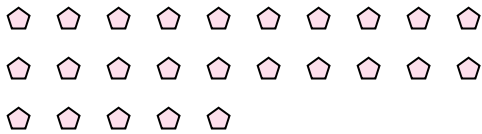
2) Il y a 10 formes ci-dessous. Combien de groupes de 6 pouvez-vous faire? Combien en restera-t-il?



3) Il y a 13 formes ci-dessous. Combien de groupes de 5 pouvez-vous faire? Combien en restera-t-il?



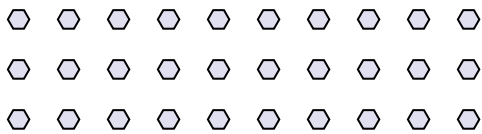
4) Il y a 25 formes ci-dessous. Combien de groupes de 5 pouvez-vous faire? Combien en restera-t-il?



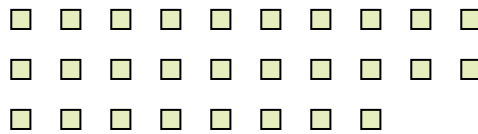
5) Il y a 13 formes ci-dessous. Combien de groupes de 3 pouvez-vous faire? Combien en restera-t-il?




6) Il y a 30 formes ci-dessous. Combien de groupes de 4 pouvez-vous faire? Combien en restera-t-il?



7) Il y a 28 formes ci-dessous. Combien de groupes de 2 pouvez-vous faire? Combien en restera-t-il?



8) Il y a 26 formes ci-dessous. Combien de groupes de 6 pouvez-vous faire? Combien en restera-t-il?



9) Il y a 20 formes ci-dessous. Combien de groupes de 7 pouvez-vous faire? Combien en restera-t-il?



**Réponses**

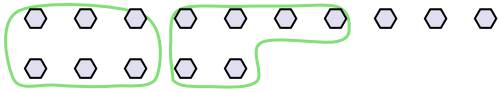
Ex.	<u>2</u>	<u>3</u>
1.	<u>2</u>	<u>4</u>
2.	<u>1</u>	<u>4</u>
3.	<u>2</u>	<u>3</u>
4.	<u>5</u>	<u>0</u>
5.	<u>4</u>	<u>1</u>
6.	<u>7</u>	<u>2</u>
7.	<u>14</u>	<u>0</u>
8.	<u>4</u>	<u>2</u>
9.	<u>2</u>	<u>6</u>



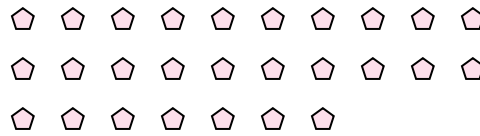
Utilisez les formes pour répondre aux questions.

Réponses

Ex) Il y a 15 formes ci-dessous. Combien de groupes de 6 pouvez-vous faire? Combien en restera-t-il?



1) Il y a 27 formes ci-dessous. Combien de groupes de 5 pouvez-vous faire? Combien en restera-t-il?



Ex. 2 3

1. \_\_\_\_\_

2. \_\_\_\_\_

3. \_\_\_\_\_

4. \_\_\_\_\_

5. \_\_\_\_\_

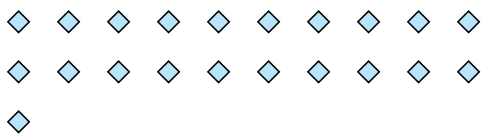
6. \_\_\_\_\_

7. \_\_\_\_\_

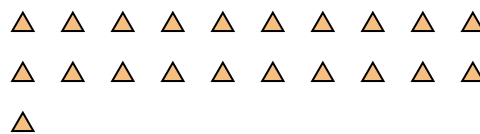
8. \_\_\_\_\_

9. \_\_\_\_\_


2) Il y a 21 formes ci-dessous. Combien de groupes de 4 pouvez-vous faire? Combien en restera-t-il?



3) Il y a 21 formes ci-dessous. Combien de groupes de 2 pouvez-vous faire? Combien en restera-t-il?



4) Il y a 27 formes ci-dessous. Combien de groupes de 4 pouvez-vous faire? Combien en restera-t-il?



5) Il y a 12 formes ci-dessous. Combien de groupes de 9 pouvez-vous faire? Combien en restera-t-il?



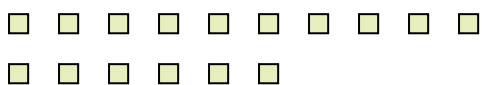
6) Il y a 17 formes ci-dessous. Combien de groupes de 9 pouvez-vous faire? Combien en restera-t-il?



7) Il y a 15 formes ci-dessous. Combien de groupes de 6 pouvez-vous faire? Combien en restera-t-il?



8) Il y a 16 formes ci-dessous. Combien de groupes de 2 pouvez-vous faire? Combien en restera-t-il?



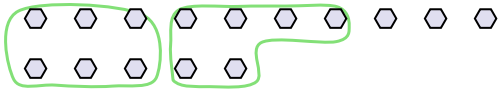
9) Il y a 26 formes ci-dessous. Combien de groupes de 9 pouvez-vous faire? Combien en restera-t-il?



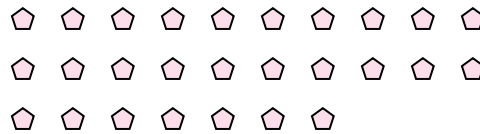


Utilisez les formes pour répondre aux questions.

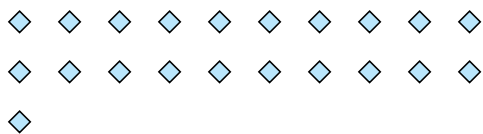
Ex) Il y a 15 formes ci-dessous. Combien de groupes de 6 pouvez-vous faire? Combien en restera-t-il?



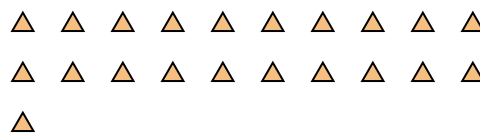
1) Il y a 27 formes ci-dessous. Combien de groupes de 5 pouvez-vous faire? Combien en restera-t-il?




2) Il y a 21 formes ci-dessous. Combien de groupes de 4 pouvez-vous faire? Combien en restera-t-il?



3) Il y a 21 formes ci-dessous. Combien de groupes de 2 pouvez-vous faire? Combien en restera-t-il?



4) Il y a 27 formes ci-dessous. Combien de groupes de 4 pouvez-vous faire? Combien en restera-t-il?



5) Il y a 12 formes ci-dessous. Combien de groupes de 9 pouvez-vous faire? Combien en restera-t-il?



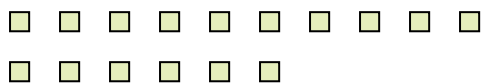
6) Il y a 17 formes ci-dessous. Combien de groupes de 9 pouvez-vous faire? Combien en restera-t-il?



7) Il y a 15 formes ci-dessous. Combien de groupes de 6 pouvez-vous faire? Combien en restera-t-il?



8) Il y a 16 formes ci-dessous. Combien de groupes de 2 pouvez-vous faire? Combien en restera-t-il?



9) Il y a 26 formes ci-dessous. Combien de groupes de 9 pouvez-vous faire? Combien en restera-t-il?



**Réponses**

Ex.	<u>  2  </u>	<u>  3  </u>
1.	<u>  5  </u>	<u>  2  </u>
2.	<u>  5  </u>	<u>  1  </u>
3.	<u> 10  </u>	<u>  1  </u>
4.	<u>  6  </u>	<u>  3  </u>
5.	<u>  1  </u>	<u>  3  </u>
6.	<u>  1  </u>	<u>  8  </u>
7.	<u>  2  </u>	<u>  3  </u>
8.	<u>  8  </u>	<u>  0  </u>
9.	<u>  2  </u>	<u>  8  </u>

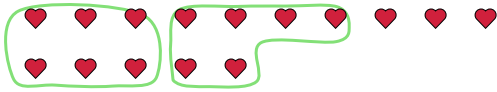




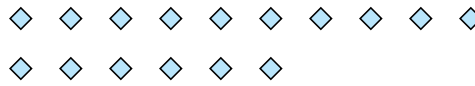
Utilisez les formes pour répondre aux questions.

**Réponses**

Ex) Il y a 15 formes ci-dessous. Combien de groupes de 6 pouvez-vous faire? Combien en restera-t-il?



1) Il y a 16 formes ci-dessous. Combien de groupes de 7 pouvez-vous faire? Combien en restera-t-il?



Ex. 2 3

1. \_\_\_\_\_

2. \_\_\_\_\_

3. \_\_\_\_\_

4. \_\_\_\_\_

5. \_\_\_\_\_

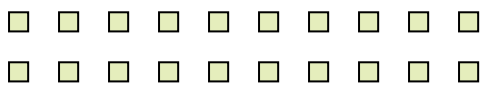
6. \_\_\_\_\_

7. \_\_\_\_\_

8. \_\_\_\_\_

9. \_\_\_\_\_

2) Il y a 20 formes ci-dessous. Combien de groupes de 6 pouvez-vous faire? Combien en restera-t-il?



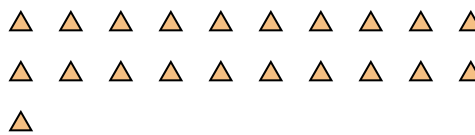
3) Il y a 21 formes ci-dessous. Combien de groupes de 4 pouvez-vous faire? Combien en restera-t-il?



4) Il y a 11 formes ci-dessous. Combien de groupes de 9 pouvez-vous faire? Combien en restera-t-il?



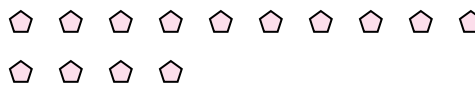
5) Il y a 21 formes ci-dessous. Combien de groupes de 6 pouvez-vous faire? Combien en restera-t-il?



6) Il y a 12 formes ci-dessous. Combien de groupes de 3 pouvez-vous faire? Combien en restera-t-il?



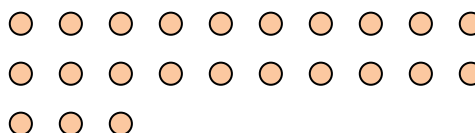
7) Il y a 14 formes ci-dessous. Combien de groupes de 5 pouvez-vous faire? Combien en restera-t-il?



8) Il y a 12 formes ci-dessous. Combien de groupes de 7 pouvez-vous faire? Combien en restera-t-il?



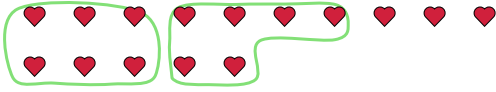
9) Il y a 23 formes ci-dessous. Combien de groupes de 5 pouvez-vous faire? Combien en restera-t-il?



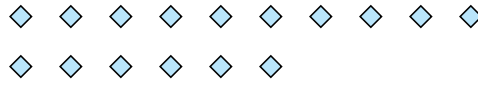


Utilisez les formes pour répondre aux questions.

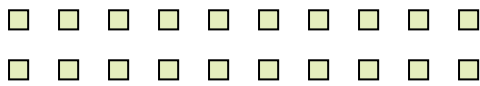
Ex) Il y a 15 formes ci-dessous. Combien de groupes de 6 pouvez-vous faire? Combien en restera-t-il?



1) Il y a 16 formes ci-dessous. Combien de groupes de 7 pouvez-vous faire? Combien en restera-t-il?



2) Il y a 20 formes ci-dessous. Combien de groupes de 6 pouvez-vous faire? Combien en restera-t-il?



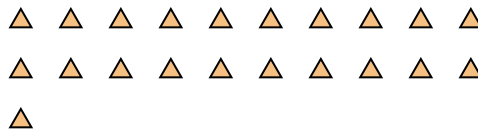
3) Il y a 21 formes ci-dessous. Combien de groupes de 4 pouvez-vous faire? Combien en restera-t-il?



4) Il y a 11 formes ci-dessous. Combien de groupes de 9 pouvez-vous faire? Combien en restera-t-il?



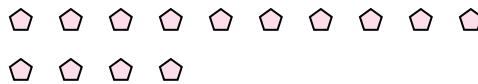
5) Il y a 21 formes ci-dessous. Combien de groupes de 6 pouvez-vous faire? Combien en restera-t-il?



6) Il y a 12 formes ci-dessous. Combien de groupes de 3 pouvez-vous faire? Combien en restera-t-il?



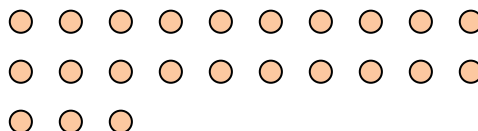
7) Il y a 14 formes ci-dessous. Combien de groupes de 5 pouvez-vous faire? Combien en restera-t-il?



8) Il y a 12 formes ci-dessous. Combien de groupes de 7 pouvez-vous faire? Combien en restera-t-il?



9) Il y a 23 formes ci-dessous. Combien de groupes de 5 pouvez-vous faire? Combien en restera-t-il?



**Réponses**

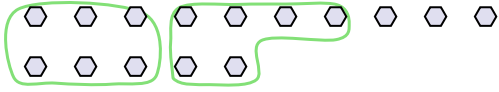
Ex.	<u>2</u>	<u>3</u>
1.	<u>2</u>	<u>2</u>
2.	<u>3</u>	<u>2</u>
3.	<u>5</u>	<u>1</u>
4.	<u>1</u>	<u>2</u>
5.	<u>3</u>	<u>3</u>
6.	<u>4</u>	<u>0</u>
7.	<u>2</u>	<u>4</u>
8.	<u>1</u>	<u>5</u>
9.	<u>4</u>	<u>3</u>



Utilisez les formes pour répondre aux questions.

**Réponses**

Ex) Il y a 15 formes ci-dessous. Combien de groupes de 6 pouvez-vous faire? Combien en restera-t-il?



1) Il y a 14 formes ci-dessous. Combien de groupes de 6 pouvez-vous faire? Combien en restera-t-il?



Ex.   2     3  

1. \_\_\_\_\_

2. \_\_\_\_\_

3. \_\_\_\_\_

4. \_\_\_\_\_

5. \_\_\_\_\_

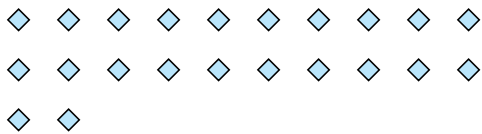
6. \_\_\_\_\_

7. \_\_\_\_\_


8. \_\_\_\_\_

9. \_\_\_\_\_

2) Il y a 22 formes ci-dessous. Combien de groupes de 7 pouvez-vous faire? Combien en restera-t-il?



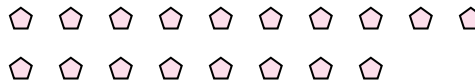
3) Il y a 16 formes ci-dessous. Combien de groupes de 4 pouvez-vous faire? Combien en restera-t-il?



4) Il y a 18 formes ci-dessous. Combien de groupes de 8 pouvez-vous faire? Combien en restera-t-il?



5) Il y a 18 formes ci-dessous. Combien de groupes de 4 pouvez-vous faire? Combien en restera-t-il?




6) Il y a 13 formes ci-dessous. Combien de groupes de 6 pouvez-vous faire? Combien en restera-t-il?



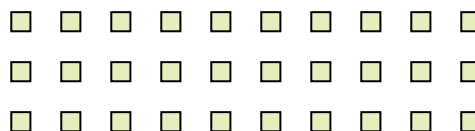
7) Il y a 17 formes ci-dessous. Combien de groupes de 5 pouvez-vous faire? Combien en restera-t-il?



8) Il y a 29 formes ci-dessous. Combien de groupes de 9 pouvez-vous faire? Combien en restera-t-il?



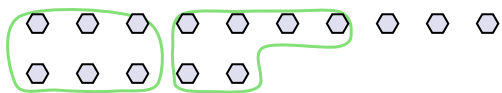
9) Il y a 30 formes ci-dessous. Combien de groupes de 8 pouvez-vous faire? Combien en restera-t-il?





Utilisez les formes pour répondre aux questions.

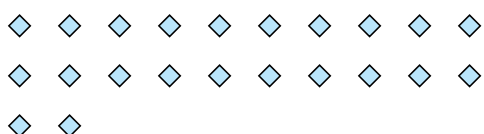
Ex) Il y a 15 formes ci-dessous. Combien de groupes de 6 pouvez-vous faire? Combien en restera-t-il?



1) Il y a 14 formes ci-dessous. Combien de groupes de 6 pouvez-vous faire? Combien en restera-t-il?



2) Il y a 22 formes ci-dessous. Combien de groupes de 7 pouvez-vous faire? Combien en restera-t-il?



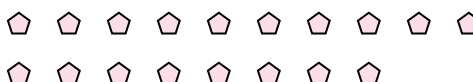
3) Il y a 16 formes ci-dessous. Combien de groupes de 4 pouvez-vous faire? Combien en restera-t-il?




4) Il y a 18 formes ci-dessous. Combien de groupes de 8 pouvez-vous faire? Combien en restera-t-il?



5) Il y a 18 formes ci-dessous. Combien de groupes de 4 pouvez-vous faire? Combien en restera-t-il?




6) Il y a 13 formes ci-dessous. Combien de groupes de 6 pouvez-vous faire? Combien en restera-t-il?



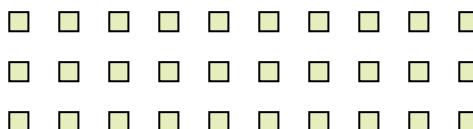
7) Il y a 17 formes ci-dessous. Combien de groupes de 5 pouvez-vous faire? Combien en restera-t-il?



8) Il y a 29 formes ci-dessous. Combien de groupes de 9 pouvez-vous faire? Combien en restera-t-il?



9) Il y a 30 formes ci-dessous. Combien de groupes de 8 pouvez-vous faire? Combien en restera-t-il?



**Réponses**

Ex.	<u>2</u>	<u>3</u>
1.	<u>2</u>	<u>2</u>
2.	<u>3</u>	<u>1</u>
3.	<u>4</u>	<u>0</u>
4.	<u>2</u>	<u>2</u>
5.	<u>4</u>	<u>2</u>
6.	<u>2</u>	<u>1</u>
7.	<u>3</u>	<u>2</u>
8.	<u>3</u>	<u>2</u>
9.	<u>3</u>	<u>6</u>