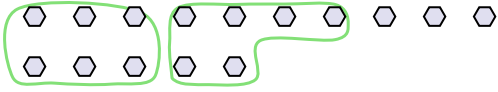




Utilisez les formes pour répondre aux questions.

Réponses

Ex) Il y a 15 formes ci-dessous. Combien de groupes de 6 pouvez-vous faire? Combien en restera-t-il?



1) Il y a 12 formes ci-dessous. Combien de groupes de 4 pouvez-vous faire? Combien en restera-t-il?



Ex. 2 3

1. _____

2. _____

3. _____

4. _____

5. _____

6. _____

7. _____


8. _____

9. _____


2) Il y a 13 formes ci-dessous. Combien de groupes de 5 pouvez-vous faire? Combien en restera-t-il?



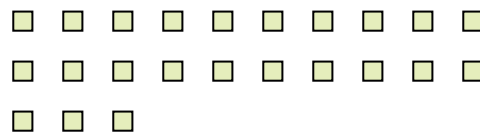
3) Il y a 13 formes ci-dessous. Combien de groupes de 6 pouvez-vous faire? Combien en restera-t-il?



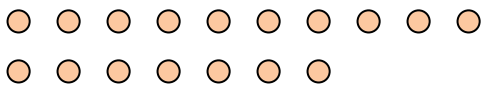
4) Il y a 19 formes ci-dessous. Combien de groupes de 6 pouvez-vous faire? Combien en restera-t-il?



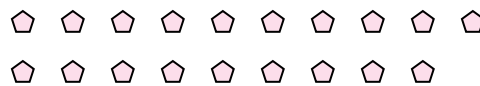
5) Il y a 23 formes ci-dessous. Combien de groupes de 4 pouvez-vous faire? Combien en restera-t-il?



6) Il y a 17 formes ci-dessous. Combien de groupes de 6 pouvez-vous faire? Combien en restera-t-il?



7) Il y a 19 formes ci-dessous. Combien de groupes de 5 pouvez-vous faire? Combien en restera-t-il?



8) Il y a 30 formes ci-dessous. Combien de groupes de 8 pouvez-vous faire? Combien en restera-t-il?



9) Il y a 18 formes ci-dessous. Combien de groupes de 3 pouvez-vous faire? Combien en restera-t-il?

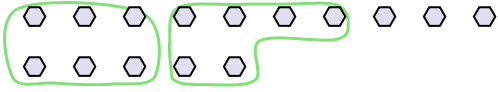




Utilisez les formes pour répondre aux questions.

Réponses

Ex) Il y a 15 formes ci-dessous. Combien de groupes de 6 pouvez-vous faire? Combien en restera-t-il?



1) Il y a 12 formes ci-dessous. Combien de groupes de 4 pouvez-vous faire? Combien en restera-t-il?



Ex. 2 3

1. 3 0

2. 2 3

3. 2 1

4. 3 1

5. 5 3

6. 2 5

7. 3 4

8. 3 6

9. 6 0


2) Il y a 13 formes ci-dessous. Combien de groupes de 5 pouvez-vous faire? Combien en restera-t-il?



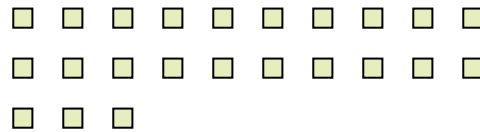
3) Il y a 13 formes ci-dessous. Combien de groupes de 6 pouvez-vous faire? Combien en restera-t-il?



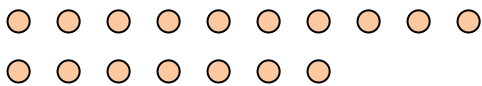
4) Il y a 19 formes ci-dessous. Combien de groupes de 6 pouvez-vous faire? Combien en restera-t-il?



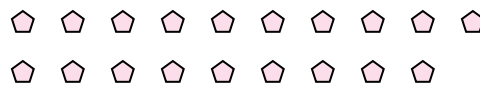
5) Il y a 23 formes ci-dessous. Combien de groupes de 4 pouvez-vous faire? Combien en restera-t-il?



6) Il y a 17 formes ci-dessous. Combien de groupes de 6 pouvez-vous faire? Combien en restera-t-il?



7) Il y a 19 formes ci-dessous. Combien de groupes de 5 pouvez-vous faire? Combien en restera-t-il?



8) Il y a 30 formes ci-dessous. Combien de groupes de 8 pouvez-vous faire? Combien en restera-t-il?



9) Il y a 18 formes ci-dessous. Combien de groupes de 3 pouvez-vous faire? Combien en restera-t-il?

