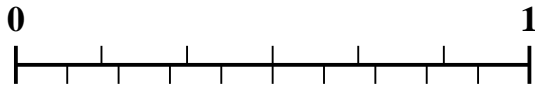


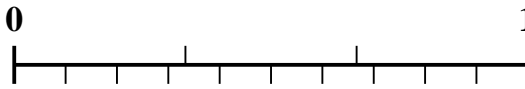


Utilisez la droite numérique pour résoudre chaque problème.

1) Quel montant est le plus grand,  $\frac{2}{6}$  ou 0,15 ?



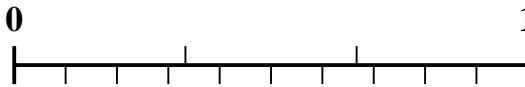
2) Quel montant est le plus grand,  $\frac{1}{3}$  ou 0,52 ?



3) Quel montant est le plus grand,  $\frac{3}{5}$  ou 0,48 ?



4) Quel montant est le plus grand,  $\frac{2}{3}$  ou 0,87 ?



5) Quel montant est le plus grand,  $\frac{5}{7}$  ou 0,57 ?



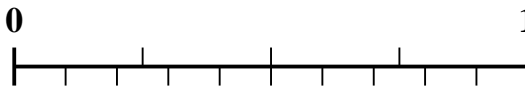
6) Quel montant est le plus grand,  $\frac{4}{7}$  ou 0,75 ?



7) Quel montant est le plus grand,  $\frac{3}{9}$  ou 0,15 ?



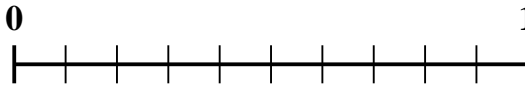
8) Quel montant est le plus grand,  $\frac{3}{4}$  ou 0,9 ?



9) Quel montant est le plus grand,  $\frac{7}{9}$  ou 0,89 ?



10) Quel montant est le plus grand,  $\frac{3}{10}$  ou 0,15 ?



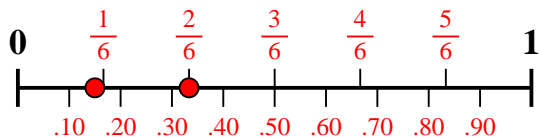
**Réponses**

1. \_\_\_\_\_
2. \_\_\_\_\_
3. \_\_\_\_\_
4. \_\_\_\_\_
5. \_\_\_\_\_
6. \_\_\_\_\_
7. \_\_\_\_\_
8. \_\_\_\_\_
9. \_\_\_\_\_
10. \_\_\_\_\_

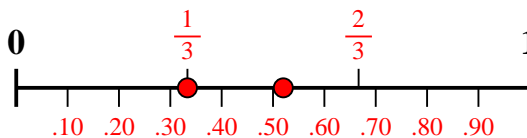


Utilisez la droite numérique pour résoudre chaque problème.

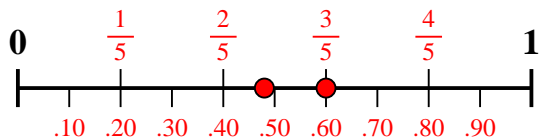
1) Quel montant est le plus grand,  $\frac{2}{6}$  ou 0,15 ?



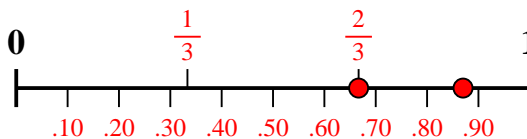
2) Quel montant est le plus grand,  $\frac{1}{3}$  ou 0,52 ?



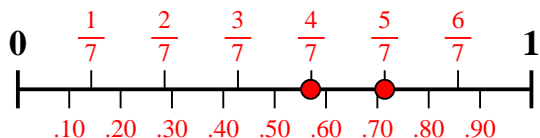
3) Quel montant est le plus grand,  $\frac{3}{5}$  ou 0,48 ?



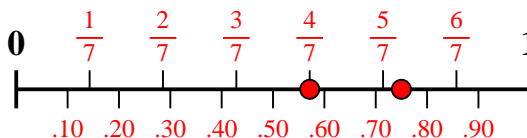
4) Quel montant est le plus grand,  $\frac{2}{3}$  ou 0,87 ?



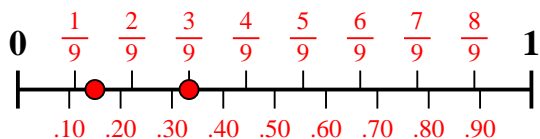
5) Quel montant est le plus grand,  $\frac{5}{7}$  ou 0,57 ?



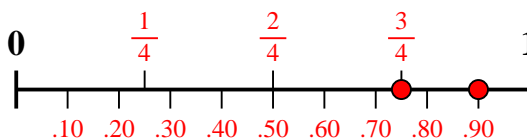
6) Quel montant est le plus grand,  $\frac{4}{7}$  ou 0,75 ?



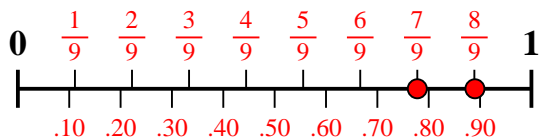
7) Quel montant est le plus grand,  $\frac{3}{9}$  ou 0,15 ?



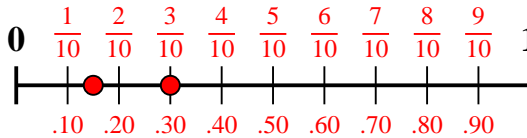
8) Quel montant est le plus grand,  $\frac{3}{4}$  ou 0,9 ?



9) Quel montant est le plus grand,  $\frac{7}{9}$  ou 0,89 ?



10) Quel montant est le plus grand,  $\frac{3}{10}$  ou 0,15 ?



**Réponses**

1.  $\frac{2}{6}$
2. **0,52**
3.  $\frac{3}{5}$
4. **0,87**
5.  $\frac{5}{7}$
6. **0,75**
7.  $\frac{3}{9}$
8. **0,9**
9. **0,89**
10.  $\frac{3}{10}$