

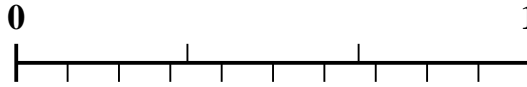
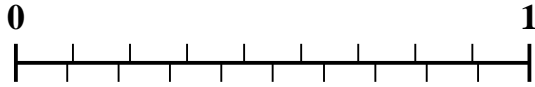


Utilisez la droite numérique pour résoudre chaque problème.

Réponses

1) Quel montant est le plus grand, $\frac{2}{9}$ ou 0,36 ?

2) Quel montant est le plus grand, $\frac{1}{3}$ ou 0,43 ?

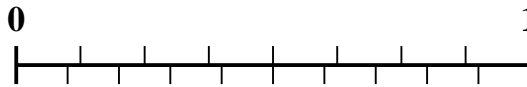


1. _____

2. _____

3) Quel montant est le plus grand, $\frac{1}{5}$ ou 0,35 ?

4) Quel montant est le plus grand, $\frac{2}{8}$ ou 0,36 ?

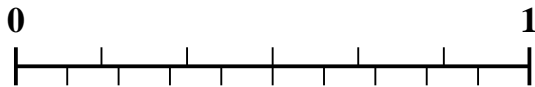


3. _____

4. _____

5) Quel montant est le plus grand, $\frac{4}{6}$ ou 0,57 ?

6) Quel montant est le plus grand, $\frac{3}{9}$ ou 0,15 ?

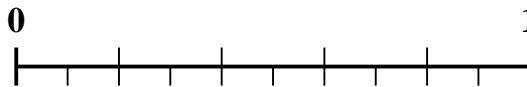
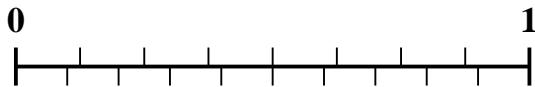


5. _____

6. _____

7) Quel montant est le plus grand, $\frac{3}{8}$ ou 0,49 ?

8) Quel montant est le plus grand, $\frac{3}{5}$ ou 0,71 ?

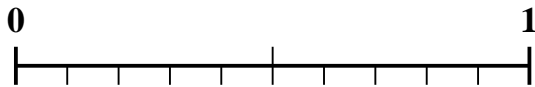


7. _____

8. _____

9) Quel montant est le plus grand, $\frac{1}{2}$ ou 0,64 ?

10) Quel montant est le plus grand, $\frac{6}{9}$ ou 0,52 ?



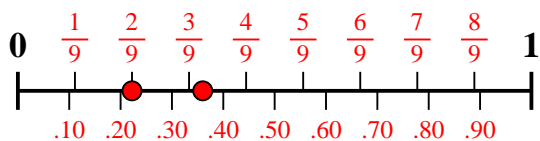
9. _____

10. _____

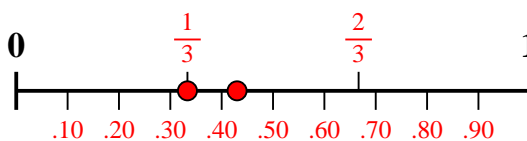


Utilisez la droite numérique pour résoudre chaque problème.

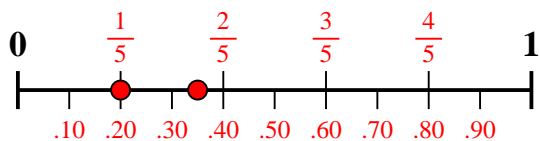
1) Quel montant est le plus grand, $\frac{2}{9}$ ou 0,36 ?



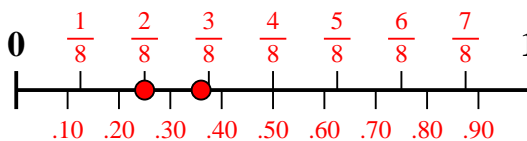
2) Quel montant est le plus grand, $\frac{1}{3}$ ou 0,43 ?



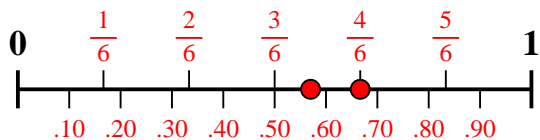
3) Quel montant est le plus grand, $\frac{1}{5}$ ou 0,35 ?



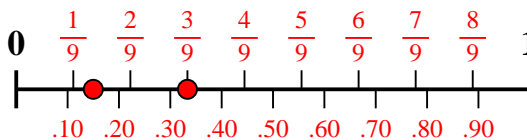
4) Quel montant est le plus grand, $\frac{2}{8}$ ou 0,36 ?



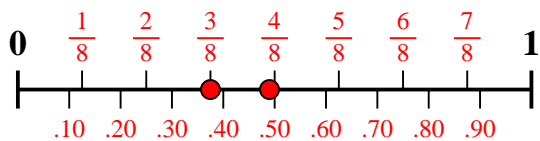
5) Quel montant est le plus grand, $\frac{4}{6}$ ou 0,57 ?



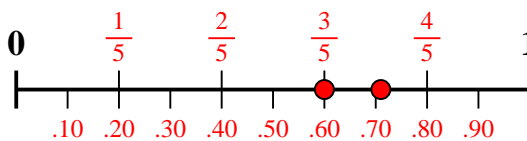
6) Quel montant est le plus grand, $\frac{3}{9}$ ou 0,15 ?



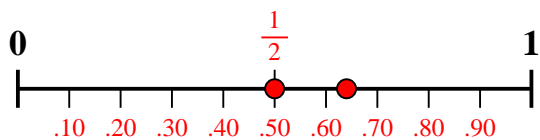
7) Quel montant est le plus grand, $\frac{3}{8}$ ou 0,49 ?



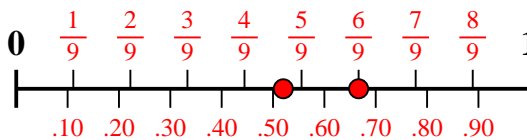
8) Quel montant est le plus grand, $\frac{3}{5}$ ou 0,71 ?



9) Quel montant est le plus grand, $\frac{1}{2}$ ou 0,64 ?



10) Quel montant est le plus grand, $\frac{6}{9}$ ou 0,52 ?



Réponses

1. 0,36
2. 0,43
3. 0,35
4. 0,36
5. $\frac{4}{6}$
6. $\frac{3}{9}$
7. 0,49
8. 0,71
9. 0,64
10. $\frac{6}{9}$