




Utilisez la droite numérique pour résoudre chaque problème.

**Réponses**

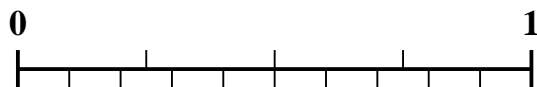
1) Quel montant est le plus grand,  $\frac{2}{5}$  ou 0,26 ?



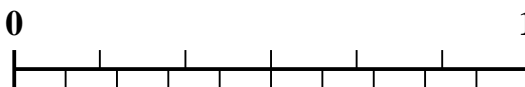
2) Quel montant est le plus grand,  $\frac{1}{8}$  ou 0,24 ?




3) Quel montant est le plus grand,  $\frac{2}{4}$  ou 0,35 ?



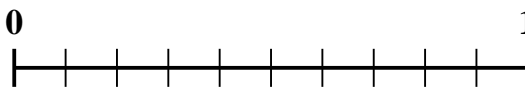
4) Quel montant est le plus grand,  $\frac{3}{6}$  ou 0,7 ?




5) Quel montant est le plus grand,  $\frac{1}{5}$  ou 0,39 ?



6) Quel montant est le plus grand,  $\frac{4}{10}$  ou 0,55 ?



7) Quel montant est le plus grand,  $\frac{1}{2}$  ou 0,64 ?



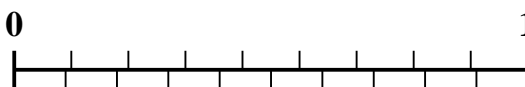
8) Quel montant est le plus grand,  $\frac{4}{9}$  ou 0,25 ?



9) Quel montant est le plus grand,  $\frac{1}{7}$  ou 0,33 ?



10) Quel montant est le plus grand,  $\frac{7}{9}$  ou 0,59 ?

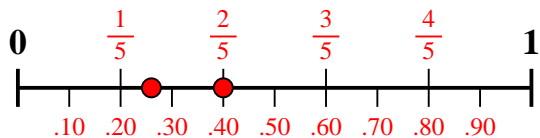


1. \_\_\_\_\_
2. \_\_\_\_\_
3. \_\_\_\_\_
4. \_\_\_\_\_
5. \_\_\_\_\_
6. \_\_\_\_\_
7. \_\_\_\_\_
8. \_\_\_\_\_
9. \_\_\_\_\_
10. \_\_\_\_\_

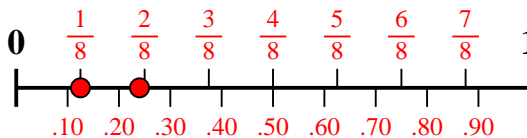


Utilisez la droite numérique pour résoudre chaque problème.

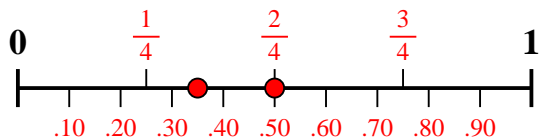
1) Quel montant est le plus grand,  $\frac{2}{5}$  ou 0,26 ?



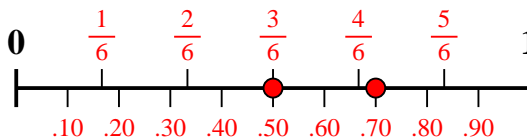
2) Quel montant est le plus grand,  $\frac{1}{8}$  ou 0,24 ?



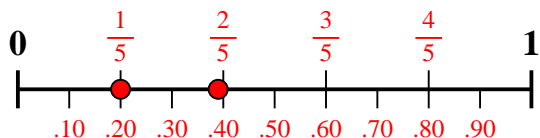
3) Quel montant est le plus grand,  $\frac{2}{4}$  ou 0,35 ?



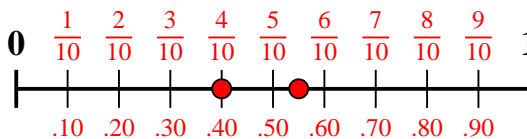
4) Quel montant est le plus grand,  $\frac{3}{6}$  ou 0,7 ?



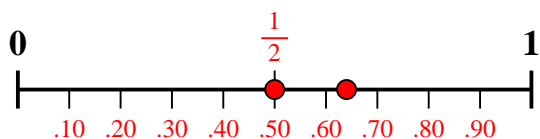
5) Quel montant est le plus grand,  $\frac{1}{5}$  ou 0,39 ?



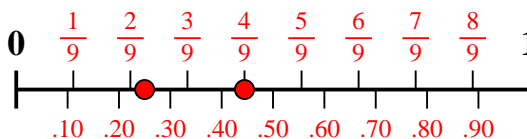
6) Quel montant est le plus grand,  $\frac{4}{10}$  ou 0,55 ?



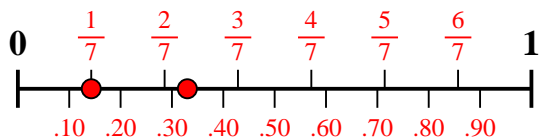
7) Quel montant est le plus grand,  $\frac{1}{2}$  ou 0,64 ?



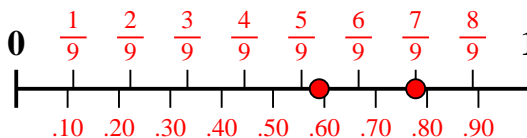
8) Quel montant est le plus grand,  $\frac{4}{9}$  ou 0,25 ?



9) Quel montant est le plus grand,  $\frac{1}{7}$  ou 0,33 ?



10) Quel montant est le plus grand,  $\frac{7}{9}$  ou 0,59 ?



**Réponses**

1.  $\frac{2}{5}$
2. **0,24**
3.  $\frac{2}{4}$
4. **0,7**
5. **0,39**
6. **0,55**
7. **0,64**
8.  $\frac{4}{9}$
9. **0,33**
10.  $\frac{7}{9}$