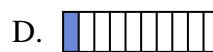
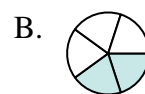
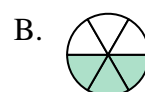


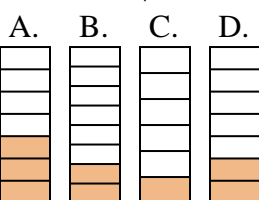


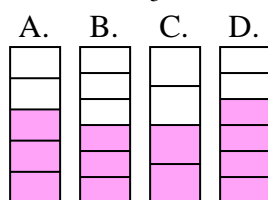




Quelle proposition permet de répondre à chaque question.

**Réponses**1) Laquelle de ces représentation représente la valeur de  $\frac{5}{8}$ ?2) Laquelle de ces représentation représente la valeur de  $\frac{2}{10}$ ?3) Laquelle de ces représentation représente la valeur de  $\frac{4}{8}$ ?4) Laquelle de ces représentation représente la valeur de  $\frac{3}{10}$ ?5) Laquelle de ces représentation représente la valeur de  $\frac{5}{10}$ ?6) Laquelle de ces représentation représente la valeur de  $\frac{3}{6}$ ?7) Laquelle de ces représentation représente la valeur de  $\frac{8}{10}$ ?8) Laquelle de ces représentation représente la valeur de  $\frac{2}{6}$ ?9) Laquelle de ces représentation représente la valeur de  $\frac{2}{7}$ ?10) Laquelle de ces représentation représente la valeur de  $\frac{3}{5}$ ?

1. \_\_\_\_\_

2. \_\_\_\_\_

3. \_\_\_\_\_

4. \_\_\_\_\_

5. \_\_\_\_\_

6. \_\_\_\_\_

7. \_\_\_\_\_


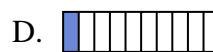
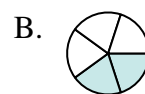
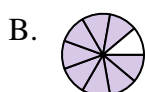
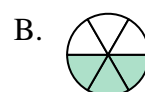


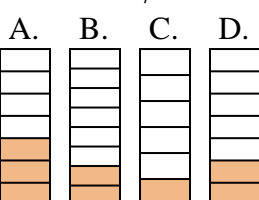


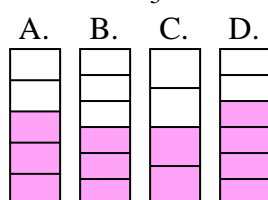
8. \_\_\_\_\_

9. \_\_\_\_\_

10. \_\_\_\_\_



Quelle proposition permet de répondre à chaque question.

**Réponses**1) Laquelle de ces représentation représente la valeur de  $\frac{5}{8}$ ?2) Laquelle de ces représentation représente la valeur de  $\frac{2}{10}$ ?3) Laquelle de ces représentation représente la valeur de  $\frac{4}{8}$ ?4) Laquelle de ces représentation représente la valeur de  $\frac{3}{10}$ ?5) Laquelle de ces représentation représente la valeur de  $\frac{5}{10}$ ?6) Laquelle de ces représentation représente la valeur de  $\frac{3}{6}$ ?7) Laquelle de ces représentation représente la valeur de  $\frac{8}{10}$ ?8) Laquelle de ces représentation représente la valeur de  $\frac{2}{6}$ ?9) Laquelle de ces représentation représente la valeur de  $\frac{2}{7}$ ?10) Laquelle de ces représentation représente la valeur de  $\frac{3}{5}$ ?1. **C**2. **B**3. **D**4. **D**5. **D**6. **A**7. **A**8. **A**9. **D**10. **A**