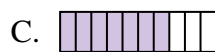


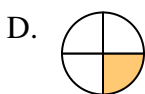
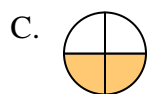
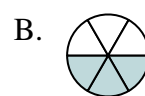


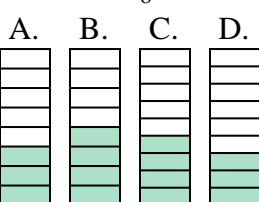

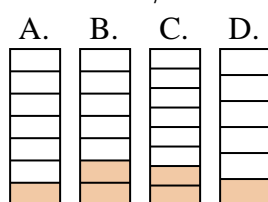




Quelle proposition permet de répondre à chaque question.

Réponses1) Laquelle de ces représentation représente la valeur de $\frac{7}{10}$?2) Laquelle de ces représentation représente la valeur de $\frac{8}{10}$?3) Laquelle de ces représentation représente la valeur de $\frac{5}{7}$?4) Laquelle de ces représentation représente la valeur de $\frac{2}{8}$?5) Laquelle de ces représentation représente la valeur de $\frac{2}{5}$?6) Laquelle de ces représentation représente la valeur de $\frac{4}{6}$?7) Laquelle de ces représentation représente la valeur de $\frac{2}{6}$?8) Laquelle de ces représentation représente la valeur de $\frac{4}{8}$?9) Laquelle de ces représentation représente la valeur de $\frac{3}{8}$?10) Laquelle de ces représentation représente la valeur de $\frac{2}{7}$?

1. _____

2. _____

3. _____

4. _____

5. _____

6. _____

7. _____

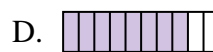
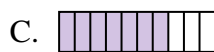
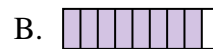

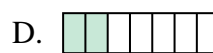
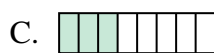
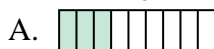
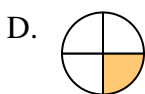
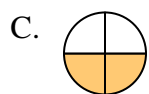
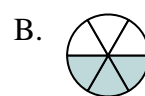

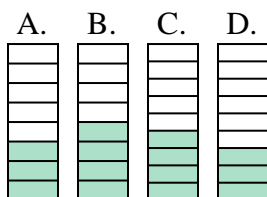

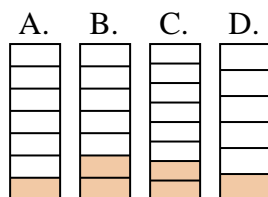
8. _____

9. _____

10. _____



Quelle proposition permet de répondre à chaque question.

Réponses1) Laquelle de ces représentation représente la valeur de $\frac{7}{10}$?2) Laquelle de ces représentation représente la valeur de $\frac{8}{10}$?3) Laquelle de ces représentation représente la valeur de $\frac{5}{7}$?4) Laquelle de ces représentation représente la valeur de $\frac{2}{8}$?5) Laquelle de ces représentation représente la valeur de $\frac{2}{5}$?6) Laquelle de ces représentation représente la valeur de $\frac{4}{6}$?7) Laquelle de ces représentation représente la valeur de $\frac{2}{6}$?8) Laquelle de ces représentation représente la valeur de $\frac{4}{8}$?9) Laquelle de ces représentation représente la valeur de $\frac{3}{8}$?10) Laquelle de ces représentation représente la valeur de $\frac{2}{7}$?1. **B**2. **D**3. **A**4. **B**5. **B**6. **C**7. **A**8. **A**9. **A**10. **B**