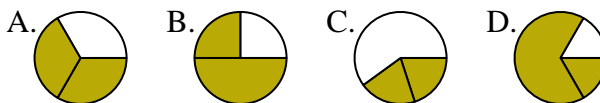




Déterminer quelle lettre représente le mieux chaque fraction.

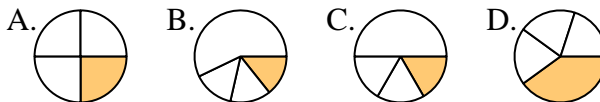
Réponses

1) Quelle réponse représente le mieux $\frac{2}{3}$?



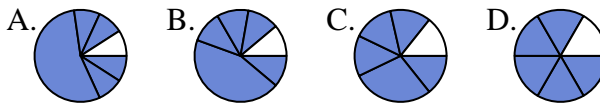
1. _____

2) Quelle réponse représente le mieux $\frac{1}{4}$?



2. _____

3) Quelle réponse représente le mieux $\frac{5}{6}$?



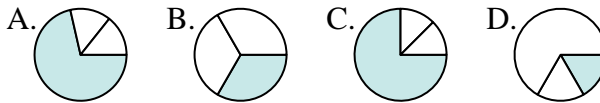
4. _____

4) Quelle réponse représente le mieux $\frac{3}{8}$?



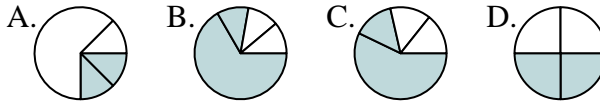
6. _____

5) Quelle réponse représente le mieux $\frac{1}{3}$?



8. _____

6) Quelle réponse représente le mieux $\frac{2}{4}$?



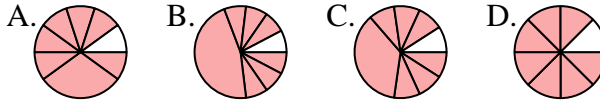
10. _____

7) Quelle réponse représente le mieux $\frac{3}{6}$?



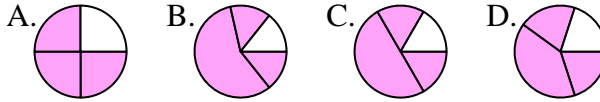
11. _____

8) Quelle réponse représente le mieux $\frac{7}{8}$?

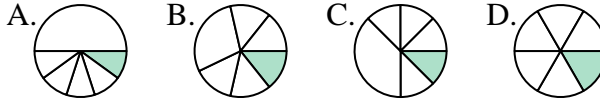


12. _____

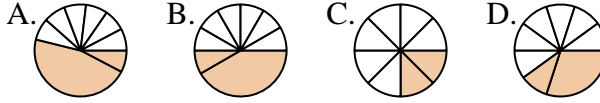
9) Quelle réponse représente le mieux $\frac{3}{4}$?



10) Quelle réponse représente le mieux $\frac{1}{6}$?



11) Quelle réponse représente le mieux $\frac{2}{8}$?



12) Quelle réponse représente le mieux $\frac{2}{6}$?

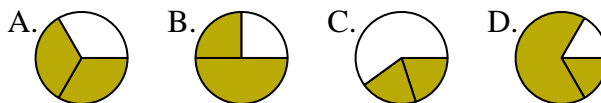




Déterminer quelle lettre représente le mieux chaque fraction.

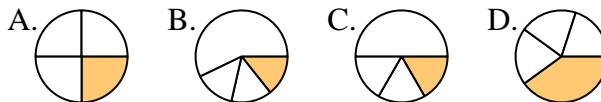
Réponses

1) Quelle réponse représente le mieux $\frac{2}{3}$?



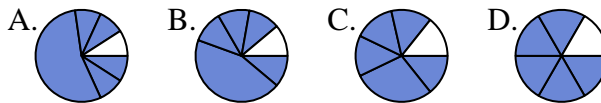
1. **A**

2) Quelle réponse représente le mieux $\frac{1}{4}$?



2. **A**

3) Quelle réponse représente le mieux $\frac{5}{6}$?



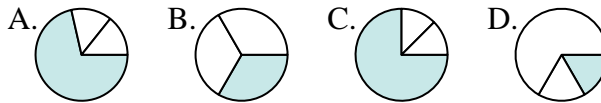
3. **D**

4) Quelle réponse représente le mieux $\frac{3}{8}$?



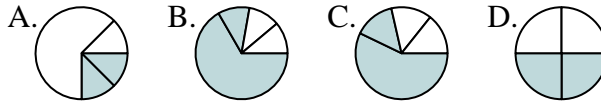
4. **D**

5) Quelle réponse représente le mieux $\frac{1}{3}$?



5. **B**

6) Quelle réponse représente le mieux $\frac{2}{4}$?



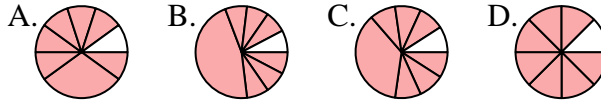
6. **D**

7) Quelle réponse représente le mieux $\frac{3}{6}$?



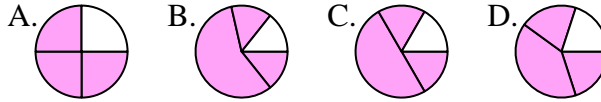
7. **B**

8) Quelle réponse représente le mieux $\frac{7}{8}$?



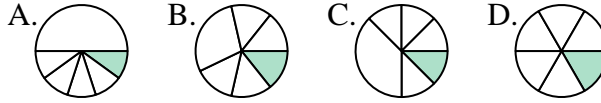
8. **D**

9) Quelle réponse représente le mieux $\frac{3}{4}$?



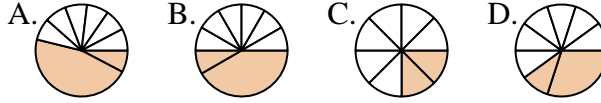
9. **A**

10) Quelle réponse représente le mieux $\frac{1}{6}$?



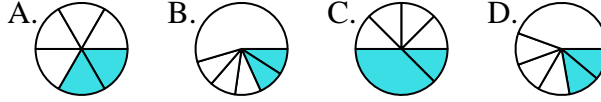
10. **D**

11) Quelle réponse représente le mieux $\frac{2}{8}$?



11. **C**

12) Quelle réponse représente le mieux $\frac{2}{6}$?



12. **A**