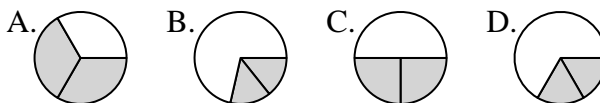




Déterminer quelle lettre représente le mieux chaque fraction.

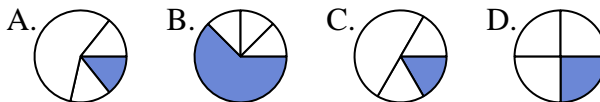
Réponses

1) Quelle réponse représente le mieux $\frac{2}{3}$?



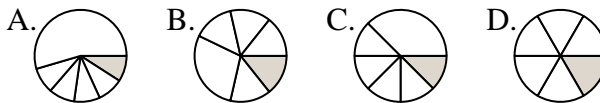
1. _____

2) Quelle réponse représente le mieux $\frac{1}{4}$?



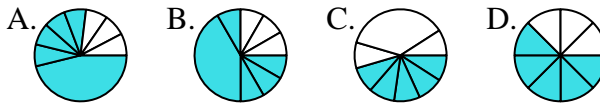
2. _____

3) Quelle réponse représente le mieux $\frac{1}{6}$?



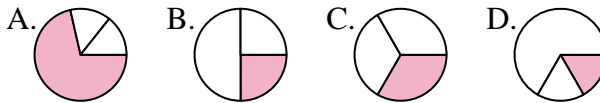
3. _____

4) Quelle réponse représente le mieux $\frac{5}{8}$?



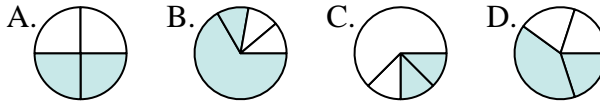
4. _____

5) Quelle réponse représente le mieux $\frac{1}{3}$?



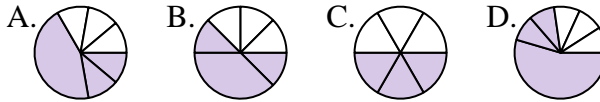
5. _____

6) Quelle réponse représente le mieux $\frac{2}{4}$?



6. _____

7) Quelle réponse représente le mieux $\frac{3}{6}$?



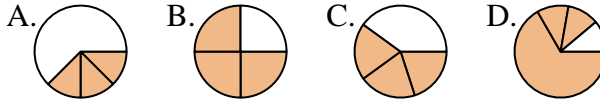
7. _____

8) Quelle réponse représente le mieux $\frac{7}{8}$?



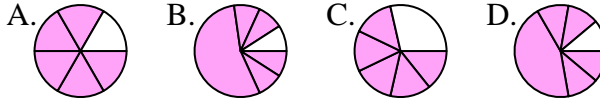
8. _____

9) Quelle réponse représente le mieux $\frac{3}{4}$?



9. _____

10) Quelle réponse représente le mieux $\frac{5}{6}$?



10. _____

11) Quelle réponse représente le mieux $\frac{6}{8}$?



11. _____

12) Quelle réponse représente le mieux $\frac{4}{6}$?



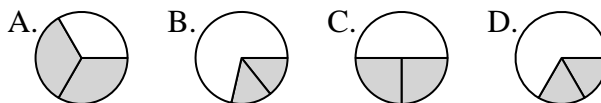
12. _____



Déterminer quelle lettre représente le mieux chaque fraction.

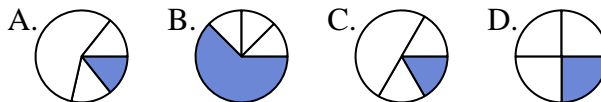
Réponses

1) Quelle réponse représente le mieux $\frac{2}{3}$?



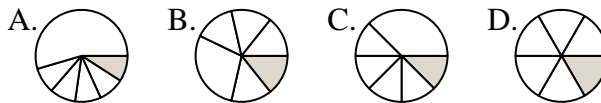
1. **A**

2) Quelle réponse représente le mieux $\frac{1}{4}$?



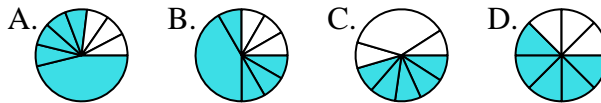
2. **D**

3) Quelle réponse représente le mieux $\frac{1}{6}$?



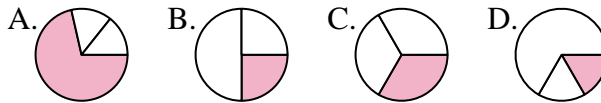
4. **D**

4) Quelle réponse représente le mieux $\frac{5}{8}$?



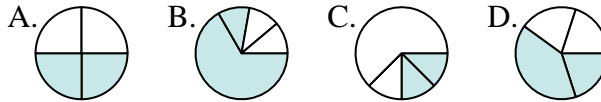
6. **A**

5) Quelle réponse représente le mieux $\frac{1}{3}$?



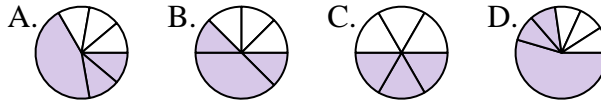
7. **C**

6) Quelle réponse représente le mieux $\frac{2}{4}$?



9. **B**

7) Quelle réponse représente le mieux $\frac{3}{6}$?



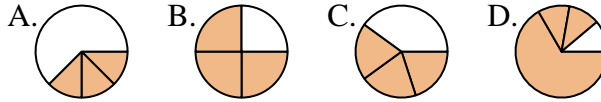
11. **B**

8) Quelle réponse représente le mieux $\frac{7}{8}$?

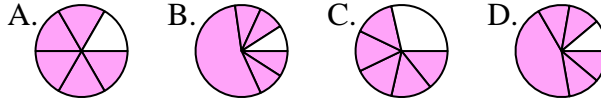


12. **B**

9) Quelle réponse représente le mieux $\frac{3}{4}$?



10) Quelle réponse représente le mieux $\frac{5}{6}$?



11) Quelle réponse représente le mieux $\frac{6}{8}$?



12) Quelle réponse représente le mieux $\frac{4}{6}$?

