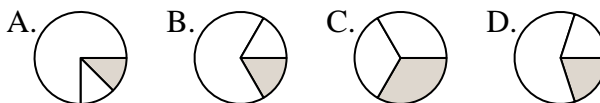




Déterminer quelle lettre représente le mieux chaque fraction.

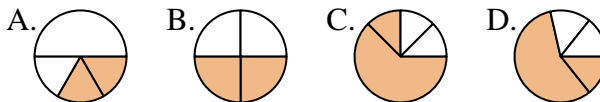
Réponses

1) Quelle réponse représente le mieux $\frac{1}{3}$?



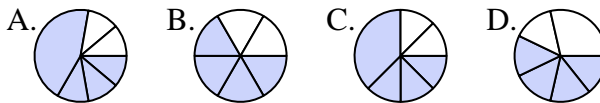
1. _____

2) Quelle réponse représente le mieux $\frac{2}{4}$?



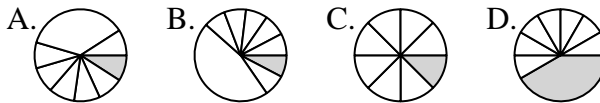
2. _____

3) Quelle réponse représente le mieux $\frac{4}{6}$?



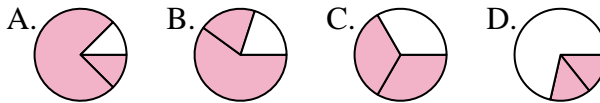
4. _____

4) Quelle réponse représente le mieux $\frac{1}{8}$?



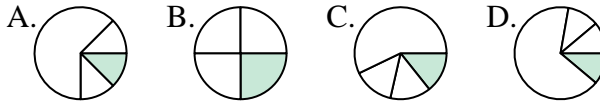
6. _____

5) Quelle réponse représente le mieux $\frac{2}{3}$?



8. _____

6) Quelle réponse représente le mieux $\frac{1}{4}$?



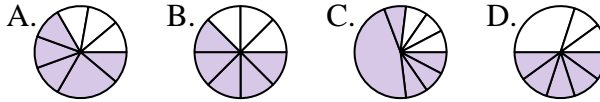
10. _____

7) Quelle réponse représente le mieux $\frac{3}{6}$?



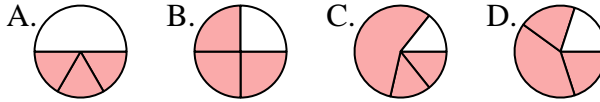
11. _____

8) Quelle réponse représente le mieux $\frac{5}{8}$?

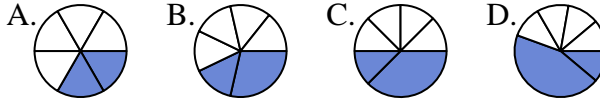


12. _____

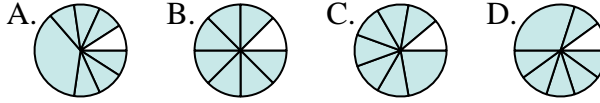
9) Quelle réponse représente le mieux $\frac{3}{4}$?



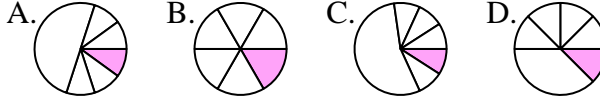
10) Quelle réponse représente le mieux $\frac{2}{6}$?



11) Quelle réponse représente le mieux $\frac{7}{8}$?



12) Quelle réponse représente le mieux $\frac{1}{6}$?

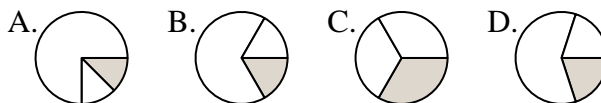




Déterminer quelle lettre représente le mieux chaque fraction.

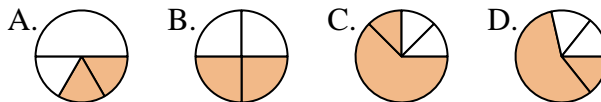
Réponses

1) Quelle réponse représente le mieux $\frac{1}{3}$?



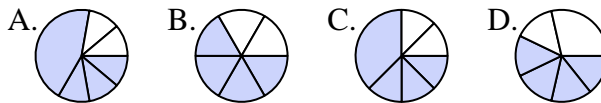
1. **C**

2) Quelle réponse représente le mieux $\frac{2}{4}$?



2. **B**

3) Quelle réponse représente le mieux $\frac{4}{6}$?



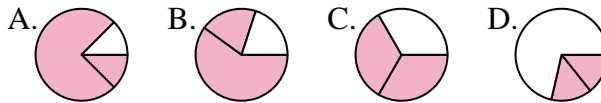
4. **C**

4) Quelle réponse représente le mieux $\frac{1}{8}$?



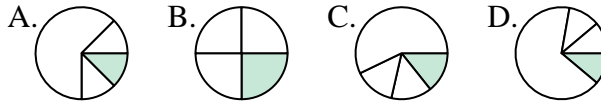
6. **B**

5) Quelle réponse représente le mieux $\frac{2}{3}$?



8. **B**

6) Quelle réponse représente le mieux $\frac{1}{4}$?



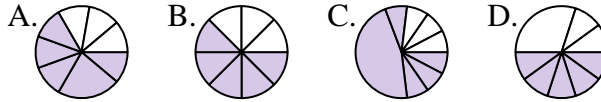
10. **A**

7) Quelle réponse représente le mieux $\frac{3}{6}$?



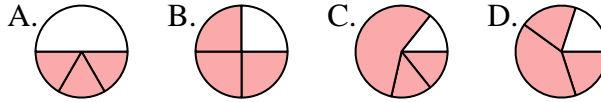
11. **B**

8) Quelle réponse représente le mieux $\frac{5}{8}$?

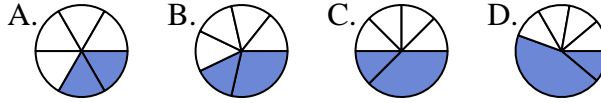


12. **B**

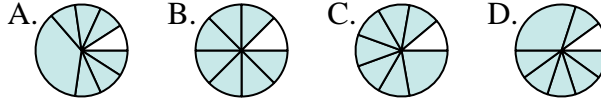
9) Quelle réponse représente le mieux $\frac{3}{4}$?



10) Quelle réponse représente le mieux $\frac{2}{6}$?



11) Quelle réponse représente le mieux $\frac{7}{8}$?



12) Quelle réponse représente le mieux $\frac{1}{6}$?

