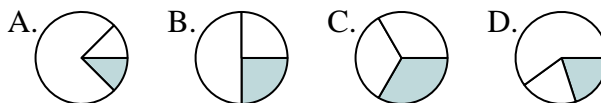




Déterminer quelle lettre représente le mieux chaque fraction.

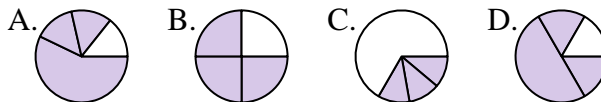
**Réponses**

1) Quelle réponse représente le mieux  $\frac{1}{3}$ ?



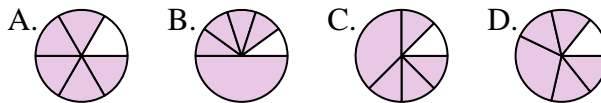
1. \_\_\_\_\_

2) Quelle réponse représente le mieux  $\frac{3}{4}$ ?



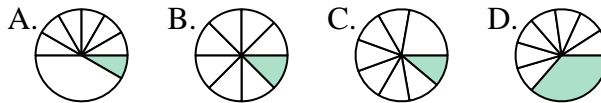
2. \_\_\_\_\_

3) Quelle réponse représente le mieux  $\frac{5}{6}$ ?



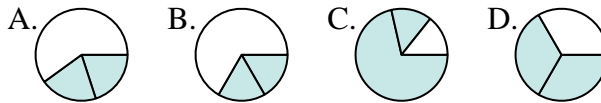
3. \_\_\_\_\_

4) Quelle réponse représente le mieux  $\frac{1}{8}$ ?



4. \_\_\_\_\_

5) Quelle réponse représente le mieux  $\frac{2}{3}$ ?



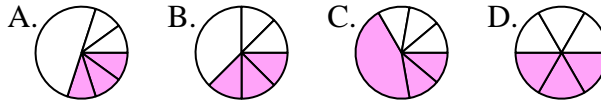
5. \_\_\_\_\_

6) Quelle réponse représente le mieux  $\frac{2}{4}$ ?



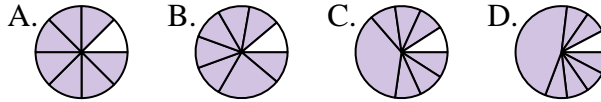
6. \_\_\_\_\_

7) Quelle réponse représente le mieux  $\frac{3}{6}$ ?



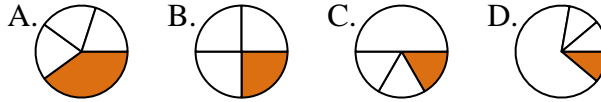
7. \_\_\_\_\_

8) Quelle réponse représente le mieux  $\frac{7}{8}$ ?



8. \_\_\_\_\_

9) Quelle réponse représente le mieux  $\frac{1}{4}$ ?



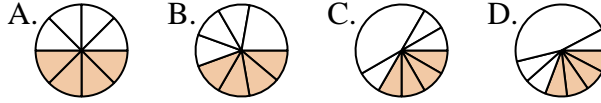
9. \_\_\_\_\_

10) Quelle réponse représente le mieux  $\frac{4}{6}$ ?



10. \_\_\_\_\_

11) Quelle réponse représente le mieux  $\frac{4}{8}$ ?



11. \_\_\_\_\_

12) Quelle réponse représente le mieux  $\frac{1}{6}$ ?



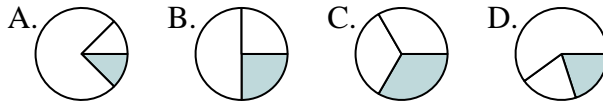
12. \_\_\_\_\_



Déterminer quelle lettre représente le mieux chaque fraction.

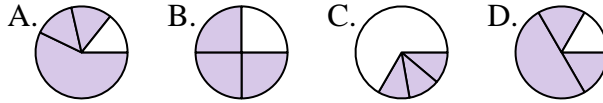
**Réponses**

1) Quelle réponse représente le mieux  $\frac{1}{3}$ ?



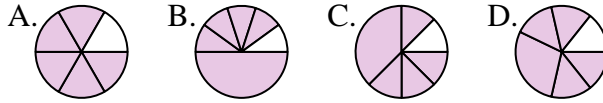
1.     **C**    

2) Quelle réponse représente le mieux  $\frac{3}{4}$ ?



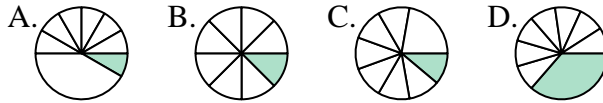
2.     **B**    

3) Quelle réponse représente le mieux  $\frac{5}{6}$ ?



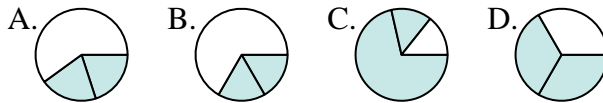
3.     **A**    

4) Quelle réponse représente le mieux  $\frac{1}{8}$ ?



4.     **B**    

5) Quelle réponse représente le mieux  $\frac{2}{3}$ ?



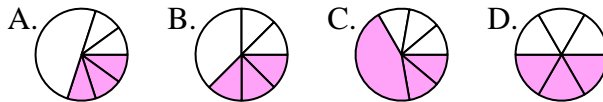
5.     **D**    

6) Quelle réponse représente le mieux  $\frac{2}{4}$ ?



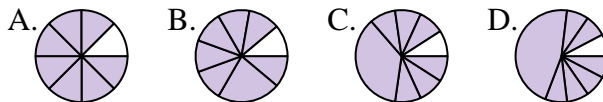
6.     **C**    

7) Quelle réponse représente le mieux  $\frac{3}{6}$ ?



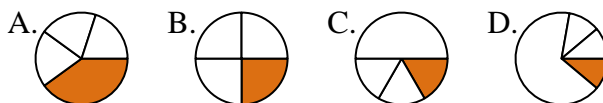
7.     **D**    

8) Quelle réponse représente le mieux  $\frac{7}{8}$ ?



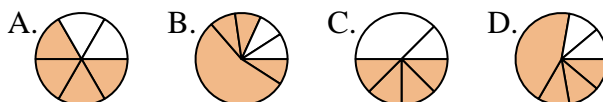
8.     **A**    

9) Quelle réponse représente le mieux  $\frac{1}{4}$ ?



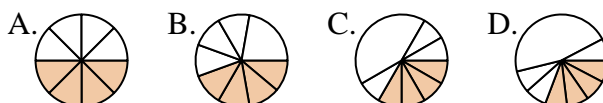
9.     **B**    

10) Quelle réponse représente le mieux  $\frac{4}{6}$ ?



10.     **A**    

11) Quelle réponse représente le mieux  $\frac{4}{8}$ ?



11.     **A**    

12) Quelle réponse représente le mieux  $\frac{1}{6}$ ?



12.     **C**