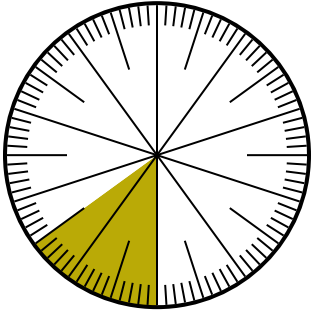




**Résoudre chaque problème.**

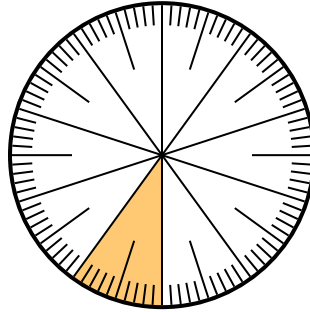
**Réponses**

1) Quel choix représente la partie non ombrée de la roue des nombres ?



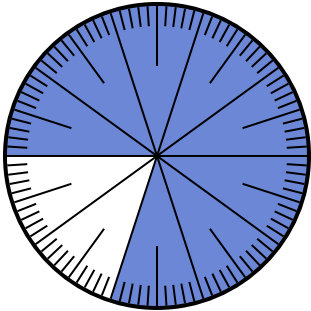
- A.  $\frac{85}{100}$       B.  $\frac{8.5}{100}$   
 C.  $\frac{0.85}{100}$       D.  $\frac{85}{15}$

2) Quel choix représente la partie non ombrée de la roue des nombres ?



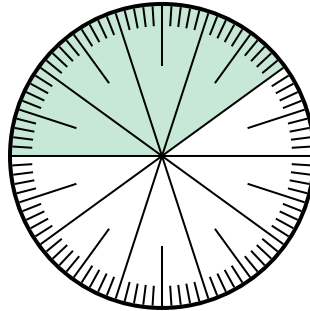
- A. 0,9      B. 90  
 C.  $\frac{1}{100}$       D. 9

3) Quel choix représente la partie non ombrée de la roue des nombres ?




- A. 20      B.  $\frac{20}{80}$   
 C. 0,2      D.  $\frac{20}{10}$

4) Quel choix représente la partie non ombrée de la roue des nombres ?



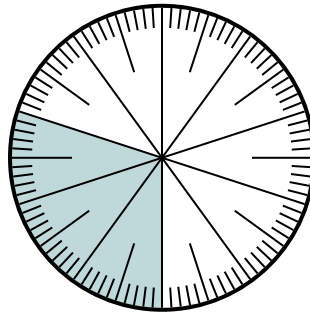
- A. 0,0060      B. 0,6  
 C. 60      D.  $\frac{40}{60}$

5) Quel choix représente la partie non ombrée de la roue des nombres ?



- A.  $\frac{60}{40}$       B.  $\frac{40}{100}$   
 C.  $\frac{0.4}{100}$       D. 40

6) Quel choix représente la partie non ombrée de la roue des nombres ?



- A.  $\frac{70}{100}$       B.  $\frac{70}{30}$   
 C. 7      D.  $\frac{30}{70}$

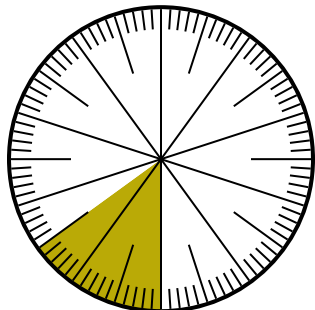
1. \_\_\_\_\_  
 2. \_\_\_\_\_  
 3. \_\_\_\_\_  
 4. \_\_\_\_\_  
 5. \_\_\_\_\_  
 6. \_\_\_\_\_



**Résoudre chaque problème.**

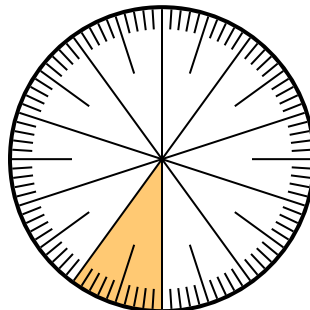
**Réponses**

1) Quel choix représente la partie non ombrée de la roue des nombres ?



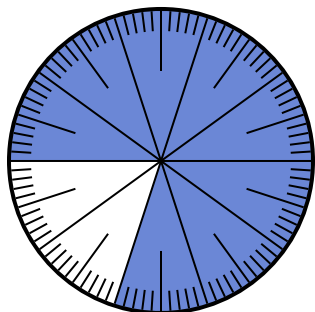
- A.  $\frac{85}{100}$       B.  $\frac{8.5}{100}$   
 C.  $\frac{0.85}{100}$       D.  $\frac{85}{15}$

2) Quel choix représente la partie non ombrée de la roue des nombres ?



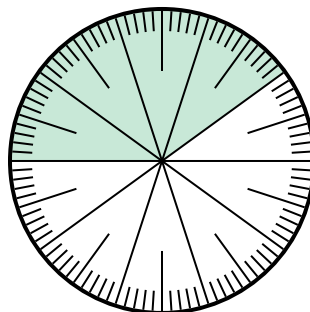
- A. 0,9      B. 90  
 C.  $\frac{1}{100}$       D. 9

3) Quel choix représente la partie non ombrée de la roue des nombres ?



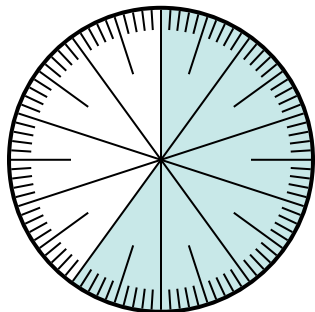
- A. 20      B.  $\frac{20}{80}$   
 C. 0,2      D.  $\frac{20}{10}$

4) Quel choix représente la partie non ombrée de la roue des nombres ?



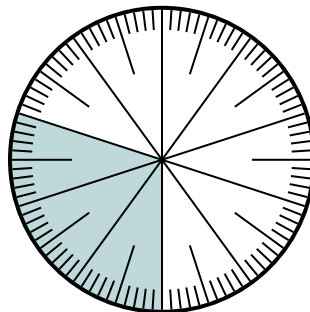
- A. 0,0060      B. 0,6  
 C. 60      D.  $\frac{40}{60}$

5) Quel choix représente la partie non ombrée de la roue des nombres ?



- A.  $\frac{60}{40}$       B.  $\frac{40}{100}$   
 C.  $\frac{0.4}{100}$       D. 40

6) Quel choix représente la partie non ombrée de la roue des nombres ?



- A.  $\frac{70}{100}$       B.  $\frac{70}{30}$   
 C. 7      D.  $\frac{30}{70}$

1.   **A**    
 2.   **A**    
 3.   **C**    
 4.   **B**    
 5.   **B**    
 6.   **A**