




**Résoudre chaque problème.**

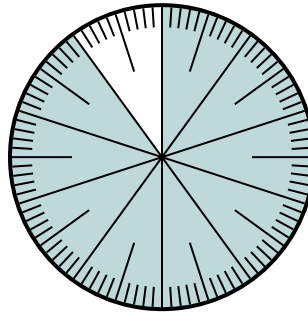
**Réponses**

1) Quel choix représente la partie non ombrée de la roue des nombres ?



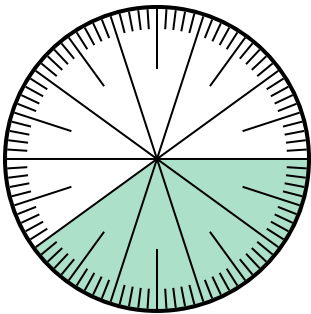
- A.  $\frac{3,50}{100}$       B. 0,35  
C. 3,50              D.  $\frac{0,35}{100}$

2) Quel choix représente la partie non ombrée de la roue des nombres ?



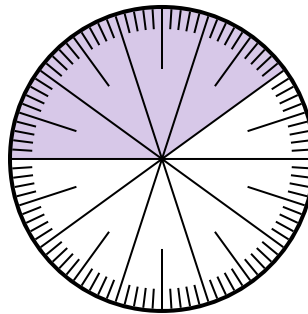
- A.  $\frac{0,1}{100}$               B. 0,1  
C. 1                      D.  $\frac{90}{10}$

3) Quel choix représente la partie ombrée de la roue des nombres ?



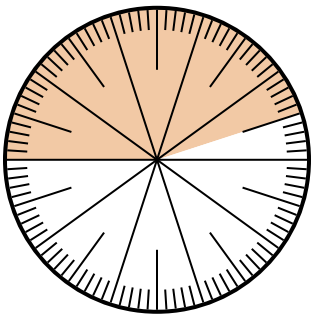
- A.  $\frac{40}{100}$               B. 4  
C.  $\frac{60}{40}$               D.  $\frac{4}{100}$

4) Quel choix représente la partie ombrée de la roue des nombres ?



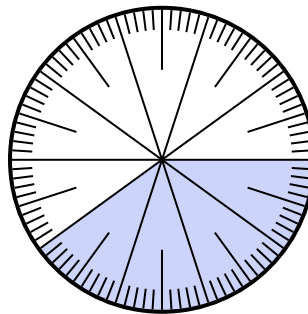
- A.  $\frac{40}{60}$               B.  $\frac{0,4}{100}$   
C. 40                    D.  $\frac{40}{100}$

5) Quel choix représente la partie non ombrée de la roue des nombres ?



- A. 5,50              B. 5.5  
C. 0,55              D.  $\frac{45}{55}$

6) Quel choix représente la partie non ombrée de la roue des nombres ?



- A. 6                    B.  $\frac{0,6}{100}$   
C.  $\frac{60}{40}$               D. 0,6


1. \_\_\_\_\_  
2. \_\_\_\_\_  
3. \_\_\_\_\_  
4. \_\_\_\_\_  
5. \_\_\_\_\_  
6. \_\_\_\_\_



**Résoudre chaque problème.**

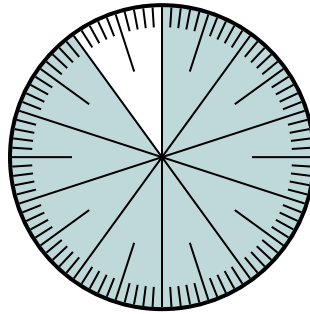
**Réponses**

1) Quel choix représente la partie non ombrée de la roue des nombres ?



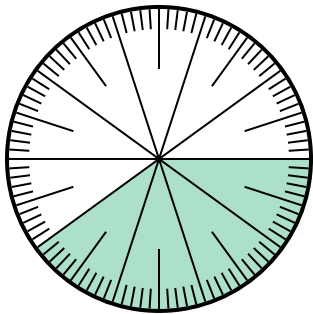
- A.  $\frac{3,50}{100}$       B. 0,35  
C. 3,50            D.  $\frac{0,35}{100}$

2) Quel choix représente la partie non ombrée de la roue des nombres ?



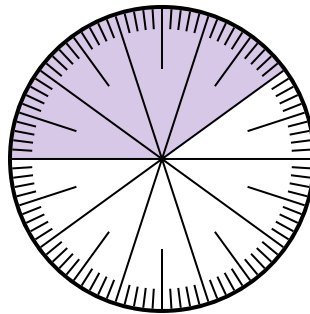
- A.  $\frac{0,1}{100}$             B. 0,1  
C. 1                    D.  $\frac{90}{10}$

3) Quel choix représente la partie ombrée de la roue des nombres ?



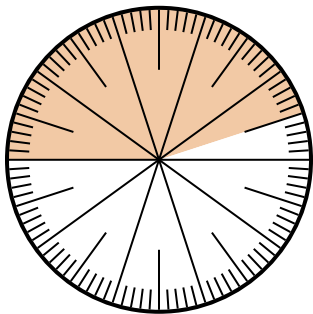
- A.  $\frac{40}{100}$             B. 4  
C.  $\frac{60}{40}$             D.  $\frac{4}{100}$

4) Quel choix représente la partie ombrée de la roue des nombres ?



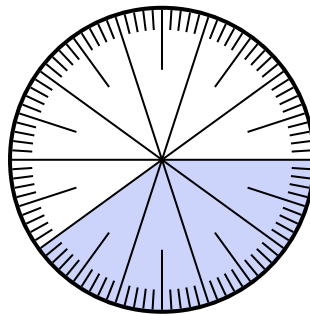
- A.  $\frac{40}{60}$             B.  $\frac{0,4}{100}$   
C. 40                D.  $\frac{40}{100}$

5) Quel choix représente la partie non ombrée de la roue des nombres ?



- A. 5,50            B. 5.5  
C. 0,55            D.  $\frac{45}{55}$

6) Quel choix représente la partie non ombrée de la roue des nombres ?



- A. 6                B.  $\frac{0,6}{100}$   
C.  $\frac{60}{40}$             D. 0,6

1.   **B**    
2.   **B**    
3.   **A**    
4.   **D**    
5.   **C**    
6.   **D**